







1.	2.	3.
  	Aires urbaines de plus de : (en millions d'habitants)  10  1  0,5 espaces attractifs au sud de cette ligne flux migratoires internes flux migratoires internationaux

2 Je réalise mon croquis

6 J'organise ma légende

- Organisez la légende en reportant au bon endroit les titres des différentes parties :
 - Une population très urbanisée
 - Une répartition inégale de la population
 - Des dynamiques spatiales.
- Complétez la première colonne de la légende.
- Trouvez les figurés manquants dans la troisième colonne. Pourquoi ne peut-on pas réutiliser des plages de couleurs ?

7 Je complète le croquis

- Complétez le croquis à l'aide des figurés choisis.
- Ajoutez le nom des aires urbaines, des mers et des fleuves.
- Donnez un titre à votre croquis.

8 Je change de langage

- À partir de votre croquis, expliquez comment se répartit la population française sur son territoire et quelles sont ses dynamiques.