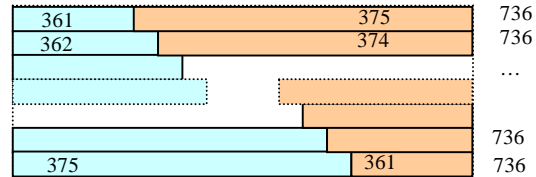

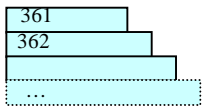
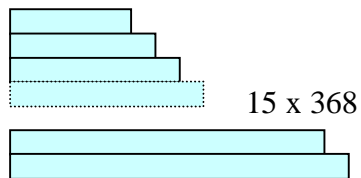


4 Faire des schémas

Quelle est la somme de $361 + 362 + \dots + 374 + 375$?



15×736



Le schéma permet une autre présentation de l'énoncé.
Il est possible de l'utiliser pour rechercher la solution d'un problème.