


S2 Les Nord et les Sud 2



Les grands contrastes mondiaux portent sur la **richesse des habitants** et se traduisent aussi par des rapports complexes de **domination et de dépendance**.

Doc.1 Bûcheron au Niger (Afrique subsaharienne).

1) D'après cette photographie, que pouvez-vous dire de la situation économique de ce bûcheron ?

2) **Décrivez la forêt exploitée** par ce bûcheron.

Doc.2 L'inégal partage de la richesse dans le monde actuel

	Part de la richesse produite (1)	Part dans la population mondiale (2)	Mortalité infantile (3) (Pour 1000 naissances)
Etats-Unis	27 %	4,5 %	7
Union Européenne	25 %	6 %	5
Japon	12 %	2 %	3
Chine	3 %	21 %	30
Brésil	2,2 %	3 %	40
Inde	1,5 %	17 %	70
Russie	1 %	2,5 %	17
Ensemble du continent africain	1,2 %	13 %	90
Monde	100 %	100 %	

(1) Sources : Bilan du Monde 2002. Pourcentage calculé d'après le Produit National brut de 1999 exprimé en dollars.

(2) Même source. Chiffres 2001. Population mondiale 6,1 milliards d'habitants.

(3) Sources : INED 2001. La mortalité infantile est exprimée en décès pour mille enfants de moins de 1 an.

Doc.2

3) Quelle part de la richesse mondiale représente l'addition des trois pays ou ensembles de pays les plus puissants ?

- Comparez-la à leur part dans la population mondiale.

4) Décrivez la position des Etats-Unis.

5) Quelle part de la population mondiale représente l'addition de trois pays et ensemble des pays les plus peuplés ?

- De quelle richesse disposent-ils ?

S2 Les Nord et les Sud 2

Doc. 3 *L'espoir des producteurs de café.*

- 5 Le dur labeur d'Hereberto Flores n'a jamais été apprécié à sa juste valeur par les marchés internationaux. Mais cette année a été pire que jamais. M. Flores cultive le café au *Salvador* ⁽¹⁾. Les cours mondiaux, fixés dans les bourses des pays développés, ont baissé de 50 % depuis douze mois, se situant actuellement, à leur plus bas niveau depuis trente ans. Seul un petit lopin, planté de haricots et de maïs, lui permet d'éviter la faim (...).
- 10 Dans une cinquantaine de pays en développement, plus de la moitié des revenus des exportations reposent sur une, deux ou trois productions L'instabilité des prix constitue un frein à leur croissance économique et empêche les paysans de s'extraire de la pauvreté. Un prix plancher réduirait les risques. Dans le projet de la Banque mondiale, il n'y aurait pas de prix fixe. Un plancher garanti réduirait néanmoins les risques ? Au bout du compte, une fraction plus importante du prix payé pour le produit fini reviendrait au producteur.

D'après Andrew Bounds, *Financial Times*, Londres, Repris dans *Courrier international* n°578, décembre 2001.

(1) *Pays d'Amérique centrale.*

6) Expliquez de quelle manière le producteur de café salvadorien est dépendant des pays riches.

7) Qu'espère-t-il ?

Doc. 4

8) Relevez sur la carte **le nom des quatre ensembles d'Etats qui produisent le plus de richesses.**

- Pourquoi les appelle-t-on les « Nord » ?

9) Pourquoi peut-on rattacher l'Australie et la nouvelle Zélande aux « Nord » ?

10) Relevez sur la carte **le nom des sept ensembles d'Etats qui constituent les « Sud ».**

Doc.5

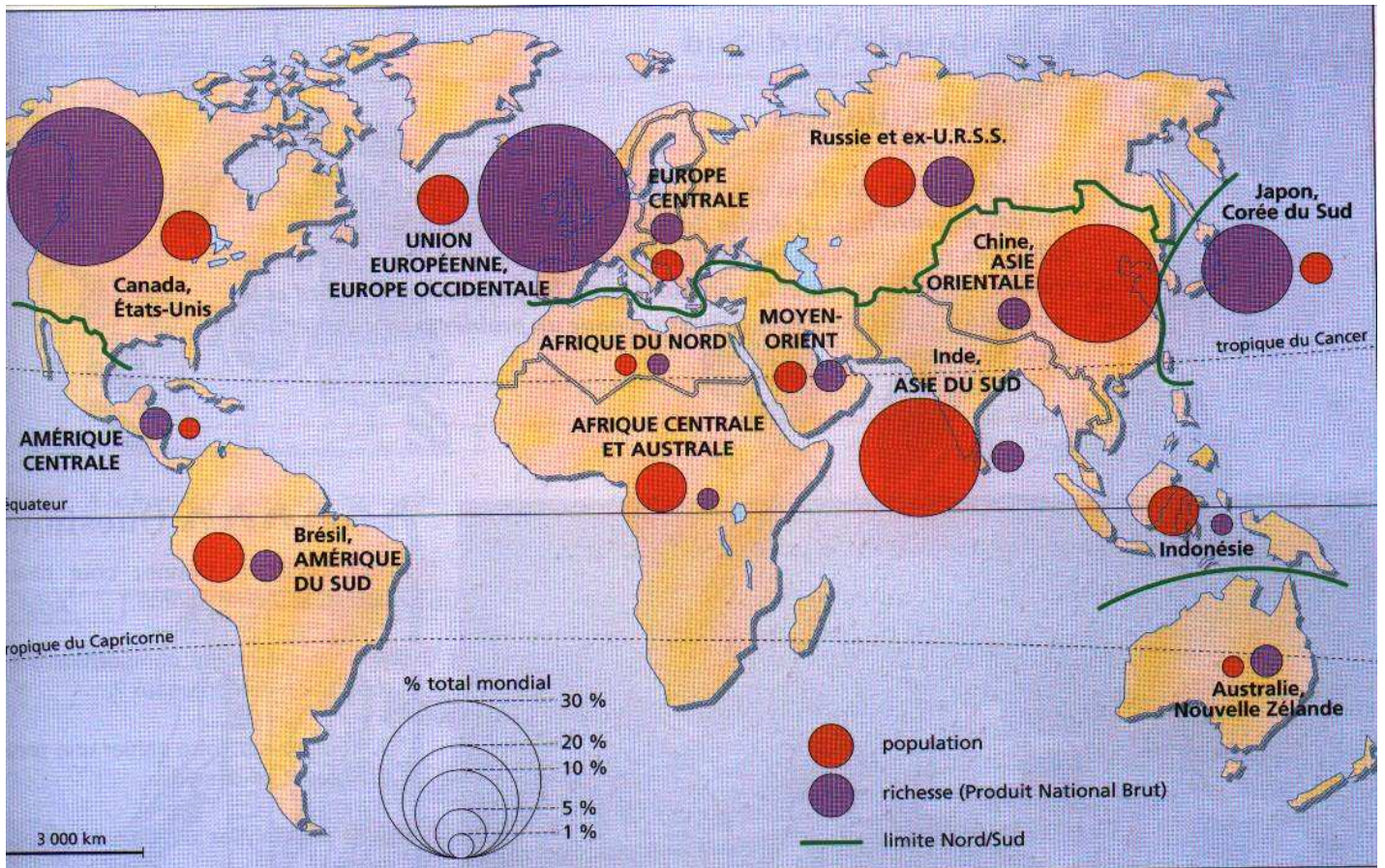
11) D'après Plantu : **d'où la victime était-elle originaire ?**

12) Comment Plantu montre-t-il **la coupure entre les riches et les pauvres** lors du sommet des pays les plus riches ?

Rédiger

En vous aidant des **documents 1,3, 4**, rédigez un petit texte de cinq à six lignes **pour décrire la place des Etats-Unis dans le monde.**


S2 Les Nord et les Sud 2



Doc.4 Le monde d'aujourd'hui : les « nord »/Les « Sud ».

Doc.5 Un fossé sanglant, Plantu, *Le Monde*, 22 juillet 2001.

Contexte de parution : la manifestation contre la mondialisation fait un mort à Gènes (Italie). Les représentants des huit pays les plus riches du monde y étaient réunis.



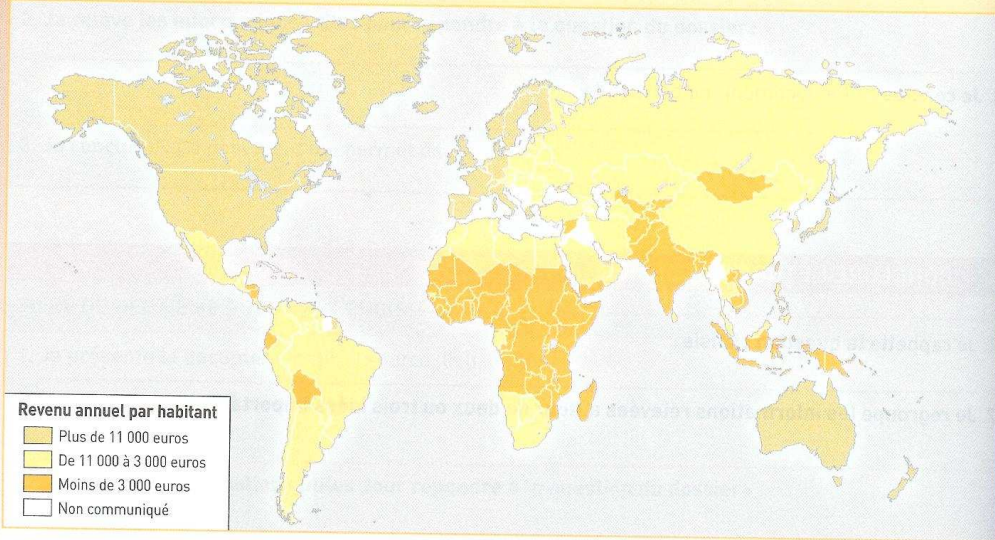
9

PÔLES DE PUISSANCE, ESPACES DÉPENDANTS

▶ Les inégalités au niveau de la planète sont multiples et se mesurent à l'échelle des continents, des États, des régions et des individus. Quelles sont ces inégalités ? À quelle organisation du monde aboutissent-elles ?

1 UN MONDE INÉGAL

Doc 1 La richesse des États



- 1 ■ Sur la carte, cercele de bleu les ensembles géographiques dans lesquels la richesse par habitant est importante. Indiquez le nom de chacun d'eux. Aidez-vous de la carte n° 2, p. 148.
- 2 ■ Repérez le nom des États où la richesse par habitant est la plus faible. Remplissez le tableau ci-contre.
- 3 ■ L'expression « Nord-Sud » pour désigner les États riches et les États pauvres vous semble-t-elle justifiée par la situation géographique de ces États ? Explicitiez votre réponse.

États pauvres	
Continent ou partie de continent	Exemples d'États
1.	→
→	→
→	→
→	→
2.	→
→	→
→	→
→	→

Doc 2 Le poids des pays du Nord

Part mondiale des pays du Nord dans...	%
- la population	20
- la production industrielle	85
- les échanges	75
- les investissements	80
- la capitalisation boursière	86
- la recherche et l'enseignement	85

4 ■ (Doc 2) En quoi l'activité économique des pays du Nord est-elle performante ?

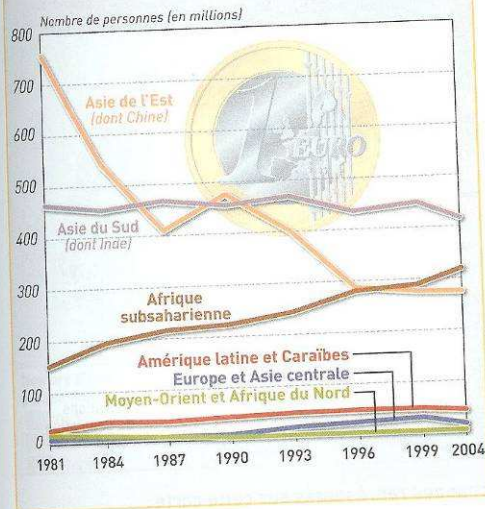
5 ■ (Doc 2 et 1) Quel lien pouvez-vous établir entre l'activité économique d'un pays et sa richesse ?

S2 Les Nord et les Sud 2

THÈME GÉNÉRAL 3 : INÉGALITÉS ET DÉPENDANCES DANS LE MONDE D'AUJOURD'HUI
Sujet d'étude 1 : Pôles de puissance et espaces dépendants

2 UNE REMISE EN CAUSE DES INÉGALITÉS

Doc 3 Personnes vivant avec moins de 1 € par jour



Doc 4 « Chindia », un nouveau pôle mondial

Les deux géants démographiques sont animés par un dynamisme impressionnant. La **Chine**, partie la première dans la course au développement accéléré, il y a 30 ans, bénéficie d'une croissance de près de 10 % l'an. L'**Inde**, partie seulement au milieu des années 1990, jouit d'un 8 % annuel. L'importance prise par le Dragon [la Chine] et le Tigre [l'Inde] saute aux yeux des consommateurs. L'envahissement d'ordinateurs, de téléphones, d'écrans plats « made in China » est venu ces dernières années s'ajouter à la première vague des jouets et autres chemises. Quant à l'Inde, elle mise sur les services comme la sous-traitance informatique et [les centres d'appel téléphoniques].

Éric Le Boucher, *Dossiers et Documents du Monde*, octobre 2006.

6 ■ (Doc 3) Calculez le nombre de personnes vivant dans l'extrême pauvreté (moins de 1 € par jour) en 1981, en 2001. Qu'en concluez-vous ?

7 ■ (Doc 3) Dans quelles parties du monde l'extrême pauvreté :

- augmente-t-elle ?

- diminue-t-elle ?

8 ■ (Doc 4) Soulignez en bleu les manifestations des progrès de la Chine ; en rouge celles des progrès de l'Inde.

9 ■ (Doc 4 et 3) Quel rapport établissez-vous entre ces deux documents ?

BILAN

■ Complétez le tableau suivant avec les exemples d'États qui vous semblent les plus significatifs.

Les États riches	Les États très pauvres	Les États qui s'enrichissent
→	En Amérique :	→
→		→
→	En Afrique :	→
→		→
→	En Asie :	→
→		→

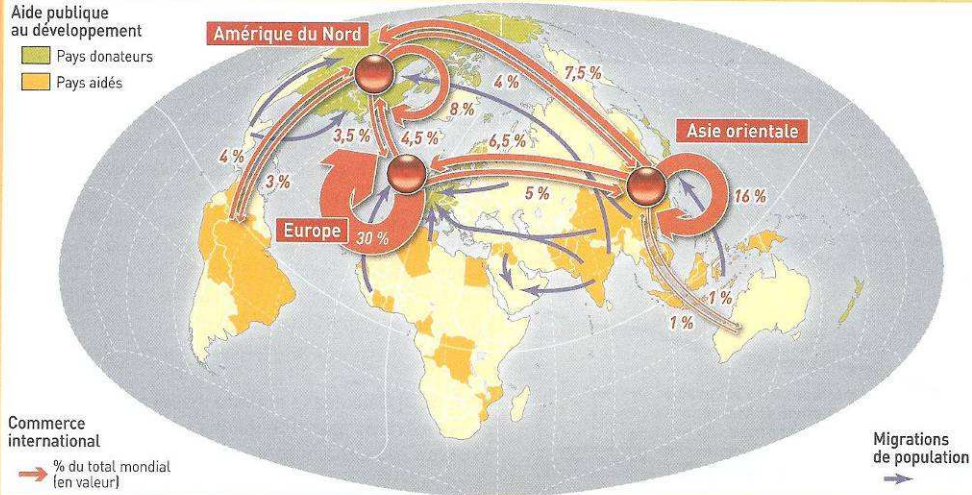
S2 Les Nord et les Sud 2

GROS PLAN

THÈME GÉNÉRAL 3 : INÉGALITÉS ET DÉPENDANCES DANS LE MONDE D'AUJOURD'HUI
Sujet d'étude 1 : Pôles de puissance et espaces dépendants

DÉPENDANCES ET SOLIDARITÉS DANS LE MONDE

Doc 1 La diversité des échanges



1 ■ En vous aidant de la légende, énumérez les types d'échanges représentés sur cette carte :


a. _____ b. _____ c. _____

2 ■ Surlignez en rouge le nom des parties du monde qui jouent un rôle majeur dans ces échanges.

3 ■ En employant les termes Nord et Sud, montrez quelle est la direction de chacun de ces échanges (par exemple : N. vers S.).

a. _____ b. _____ c. _____

Doc 2 Médecins sans frontières en Somalie



Devant la situation catastrophique du pays, l'organisation non gouvernementale Médecins sans frontières organise une aide d'urgence.

Doc 3 Les solidarités financières

Les immigrants envoient 20 % de leur revenu au pays, soit 167 milliards de dollars en 2005, ce qui représente le double de l'aide publique accordée par les pays riches et la 2^e source de financement externe du monde en voie de développement derrière les investissements directs. Les envois d'argent sont d'abord destinés à la famille (éducation, soins, alimentation, construction de logements, puis aux projets humanitaires (adduction d'eau, infrastructure communautaire...).

Images économiques du monde 2007, © Armand Colin, 2007.

4 ■ (Doc 2) Quelles différences établissez-vous entre l'aide de Médecins sans frontières et l'aide publique au développement ?

5 ■ Avec 3 couleurs différentes, surlignez dans le texte les moyens par lesquels les pays pauvres peuvent financer leurs projets de développement.

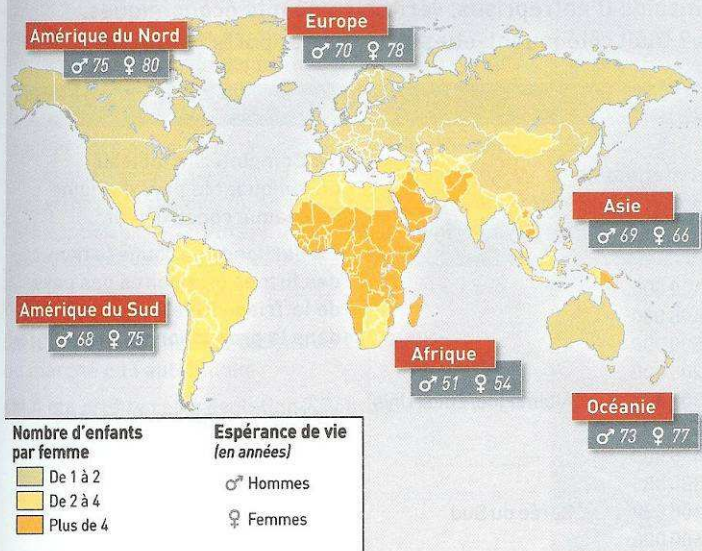
6 ■ Montrez que ces modes de financement contribuent à renforcer la dépendance du Sud.

S'ENTRAÎNER

IDENTIFIER LES INÉGALITÉS DÉMOGRAPHIQUES AVEC UNE CARTE

Doc Nombre d'enfants et espérance de vie

En dessous de 2,1 enfants par femme en âge de procréer (15-49 ans), le renouvellement de la génération des parents n'est pas assuré.



1 Dans quels États ou ensembles géographiques les femmes ont-elles peu d'enfants ?

2 Dans quels ensembles géographiques l'espérance de vie est-elle la plus forte ?

3 Quel lien peut-on établir entre le nombre d'enfants par femme et l'espérance de vie ?

4 Pourquoi peut-on dire que :

- les pays du Nord sont vieux ?

- les pays du Sud sont jeunes ?

RETENIR

PÔLES DE PUISSANCE ET ESPACES DÉPENDANTS

▶ Le monde s'organise autour de trois ensembles géographiques : l'Amérique du Nord, l'Europe, le Japon auxquels on peut ajouter l'Australie. Ces ensembles, que l'on appelle le Nord ou parfois la Triade, constituent des **pôles de puissance**.

▶ La Triade se distingue par sa population (population vieille, en faible augmentation), sa richesse, son activité économique et son niveau de **développement**. Les autres États constituent des **Sud** souvent dépendants du Nord.

▶ Le monde est en pleine évolution. Actuellement, la Chine et l'Inde enregistrent des progrès

économiques spectaculaires. D'autres, dits « pays les moins avancés », s'enlisent dans les difficultés. L'extrême pauvreté recule, mais les écarts de richesse progressent tant au Sud qu'au Nord.

Vocabulaire

Pôle de puissance : région, État ou ensemble d'États particulièrement dynamiques économiquement.

Développement : amélioration de l'économie et du niveau de vie.

Nord/Sud : pays développé ou riche/pays en voie de développement ou pauvre.