

S4 Le sida et l'afrrique

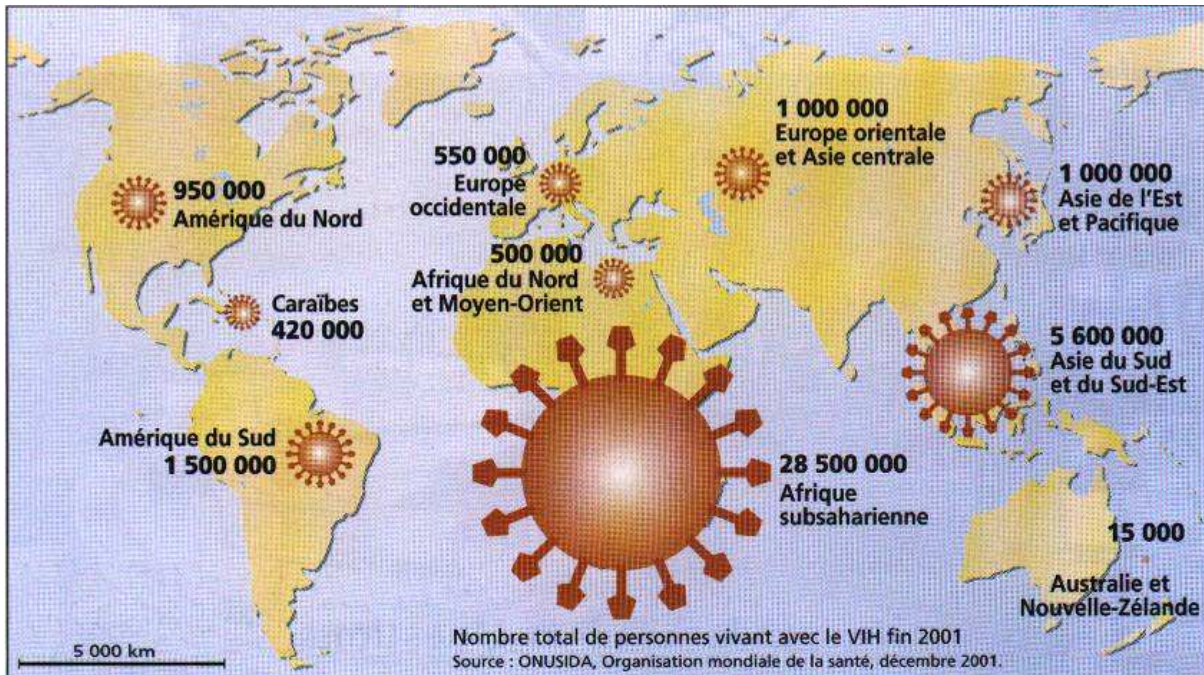
L'Organisation mondiale de la santé évalue à **40 millions le nombre de personnes vivant avec le virus du sida à travers le monde.**

Plus de **2 personnes sur 3 infectées par le virus vivant en Afrique.**

9 malades sur 10 vivent dans les pays en développement alors que **90 % des traitements disponibles se trouvent dans les pays du Nord.**

Comment peut-on expliquer ces inégalités en matière de santé ?

Doc1 Le sida dans le monde



Doc.2 L'inégalité devant le traitement du sida

Il y a deux vitesses de la pandémie du sida, selon qu'on soit au nord ou au sud de l'hémisphère. Et deux visions sur l'état de la campagne d'accès aux médicaments antisida et le rôle joué par les laboratoires pharmaceutiques ; la première est diplomatique, pragmatique, résignée. Et elle dit, comme ce responsable de l'ONU-sida : « *On est dans processus dynamique. On vient de le prouver au Sénégal : les labos ont baissé de 80 % le prix annuel d'un traitement, soit entre 1000 et 1800 dollars ; 900 personnes sont traitées.* »

5 La seconde est cynique, économique. Et elle se résume à des chiffres. Pourquoi l'industrie pharmaceutique, qui pèse 400 milliards de dollars, s'intéresserait à un continent comme l'Afrique qui absorbe 1,3 % des ventes de médicaments, soit 3,5 milliards de dollars.

10 Pour comparaison, l'Europe totalise 100 milliards, l'Amérique du Nord, 160 milliards. Si cinq grands laboratoires ont annoncé le 11 mai dernier qu'ils acceptaient de fournir des traitements à des prix abordables, c'est d'abord pour une question d'image. Et d'intérêt bien compris. Car les labos voient d'un mauvais œil l'arrivée des *génériques*¹ au Brésil, en Inde, en Thaïlande. De quoi les pousser à baisser les prix des médicaments traditionnels. Ils redoutent

15 surtout que cela ne donne des idées à d'autres labos de pays riches, au moment où les protections juridiques des brevets – vingt ans- tomberont comme pour l'AT, à partir de 2002-2003...

Christian Losson, *Libération*, 1^{er} Décembre 2000

1- *médicaments identiques, mais moins chers.*

S4 Le sida et l'afrrique

Doc1

1) Classez par ordre décroissant les zones géographiques concernées par le nombre de personnes infectées par le virus du sida.

Doc.2

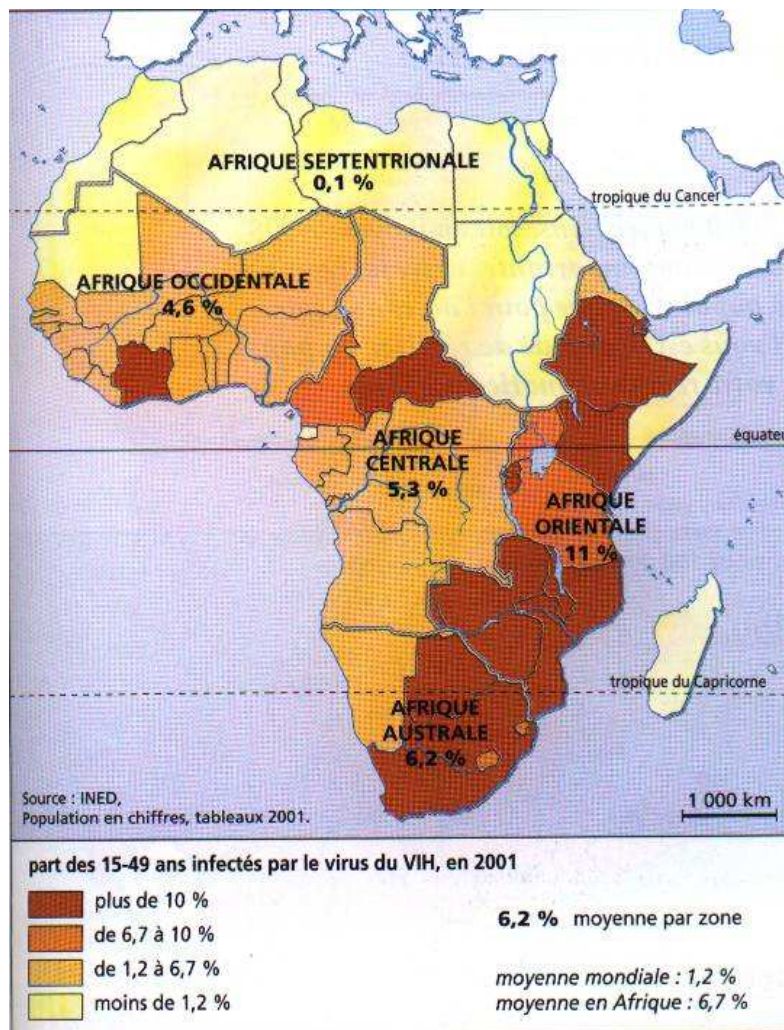
2) Quelles sont les deux politiques des laboratoires pharmaceutiques évoquées dans le texte ?

3) Qu'est-ce qui pourrait faire changer leur attitude ?

Docs 1 et 2

4) Expliquez le cas de l'Amérique du Nord et de l'Europe.

5) Expliquez le cas de l'Afrique.



Doc.3 Le sida en Afrique

6) Décrivez la situation des différentes parties de l'Afrique.

7) Cherchez dans un atlas les noms des pays dont la part de personnes infectées dépasse 10 %.

8) Cherchez dans un atlas les pays dont la part de personnes infectées est inférieure à 1,2 %.

9) Qu'est-ce qui explique ces différences ?

S4 Le sida et l'afrrique

Doc.4

10) Expliquez : « *Plan Marshall médical mondial* ».


11) Quelle est la **conséquence de la diminution de l'aide publique au développement** pour l'Afrique ?

Doc.4 Une aide insuffisante.

5 Seul un véritable plan Marshall médical mondial pourrait encore sauver ce qui peut l'être. De chiffres ? L'Afrique, seule, aurait besoin de 2 à 10 milliards de dollars par an pour lutter contre le sida, estime l'ONU, contre 200 millions d'aujourd'hui. Et ces fonds devraient se faire sous forme d'aide directe et non de prêts, vu le poids de la dette déjà considérable qui rogne les budgets de la santé. Problème, l'aide publique au développement est en chute libre : - 30 % pour la France, sur 4 ans. En 1998, institutions multilatérales et gouvernements ont consacré ... 30 cents par personne à la santé – et à l'éducation – pour les 619 millions d'habitants des 49 PMA (pays les moins avancés). Histoire de noircir un peu plus le tableau, le FMI estimait, fin septembre, que le sida, - qui frappe les populations les plus actives – pourrait faire perdre 5 % de la croissance des pays d'Afrique subsaharienne, les plus touchés. Moins de croissance, donc moins de ressources, moins de fonds pour rembourser la dette, et encore moins à consacrer à l'éducation et à la santé. En moyenne, les 49 PMA dépensent 7,50 dollars par an et par habitant à la santé contre 5000 dans les pays riches.

10

Christian Losson, *Libération*, 1^{er} décembre 2000



Doc.5 Vente de médicaments sur le marché de Kampala (Ouganda)

12) Comment peut-on interpréter cette photographie ?

Rédiger

A l'aide de l'ensemble de documents, rédigez un paragraphe argumenté dans lequel vous montrerez **à partir de l'exemple du sida en Afrique, pourquoi on peut parler d'un monde inégal dans le domaine de la santé.**