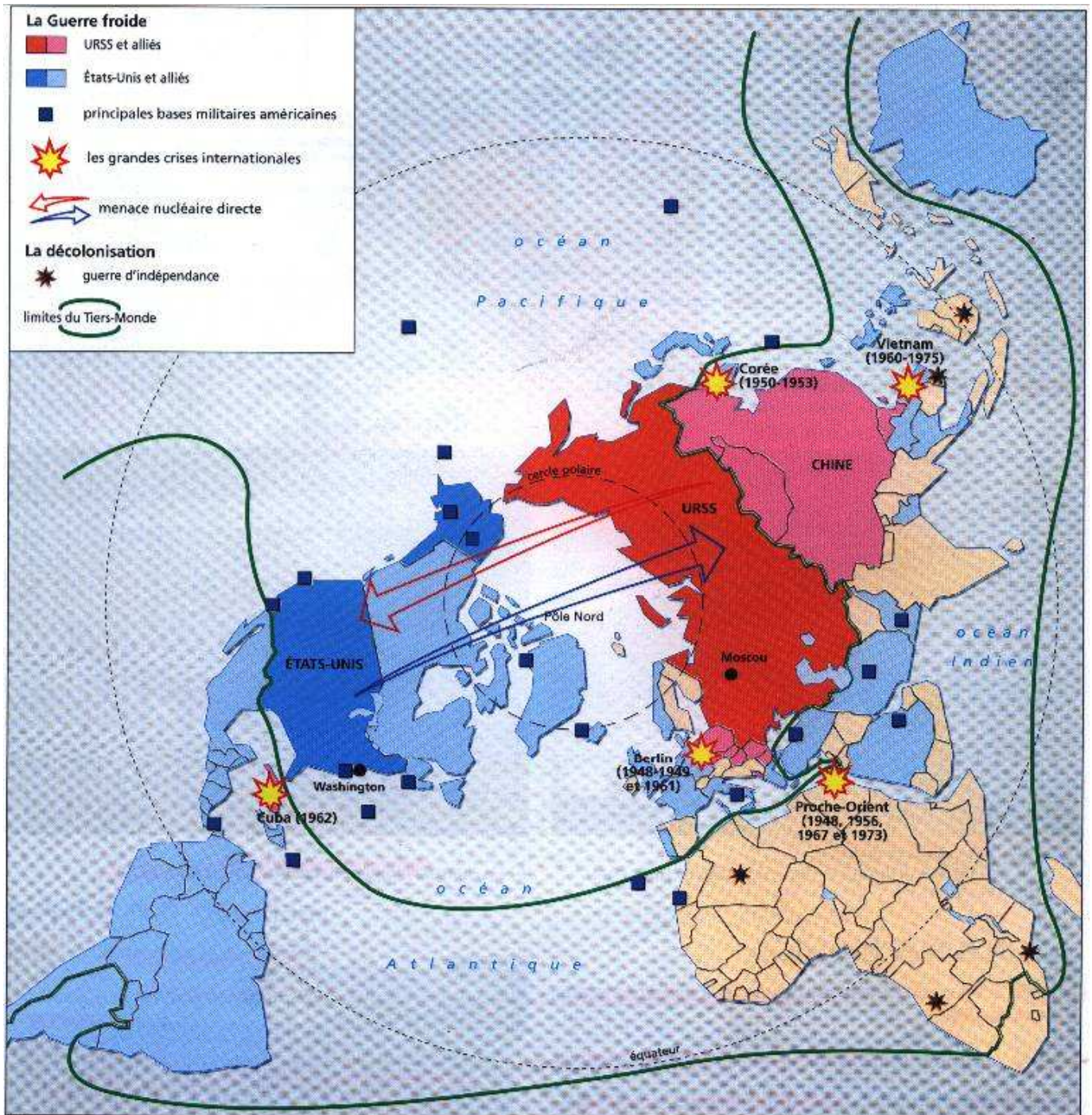


Th2S3-2Cartes2

Comment s'est opéré le passage entre ces deux états du monde ?



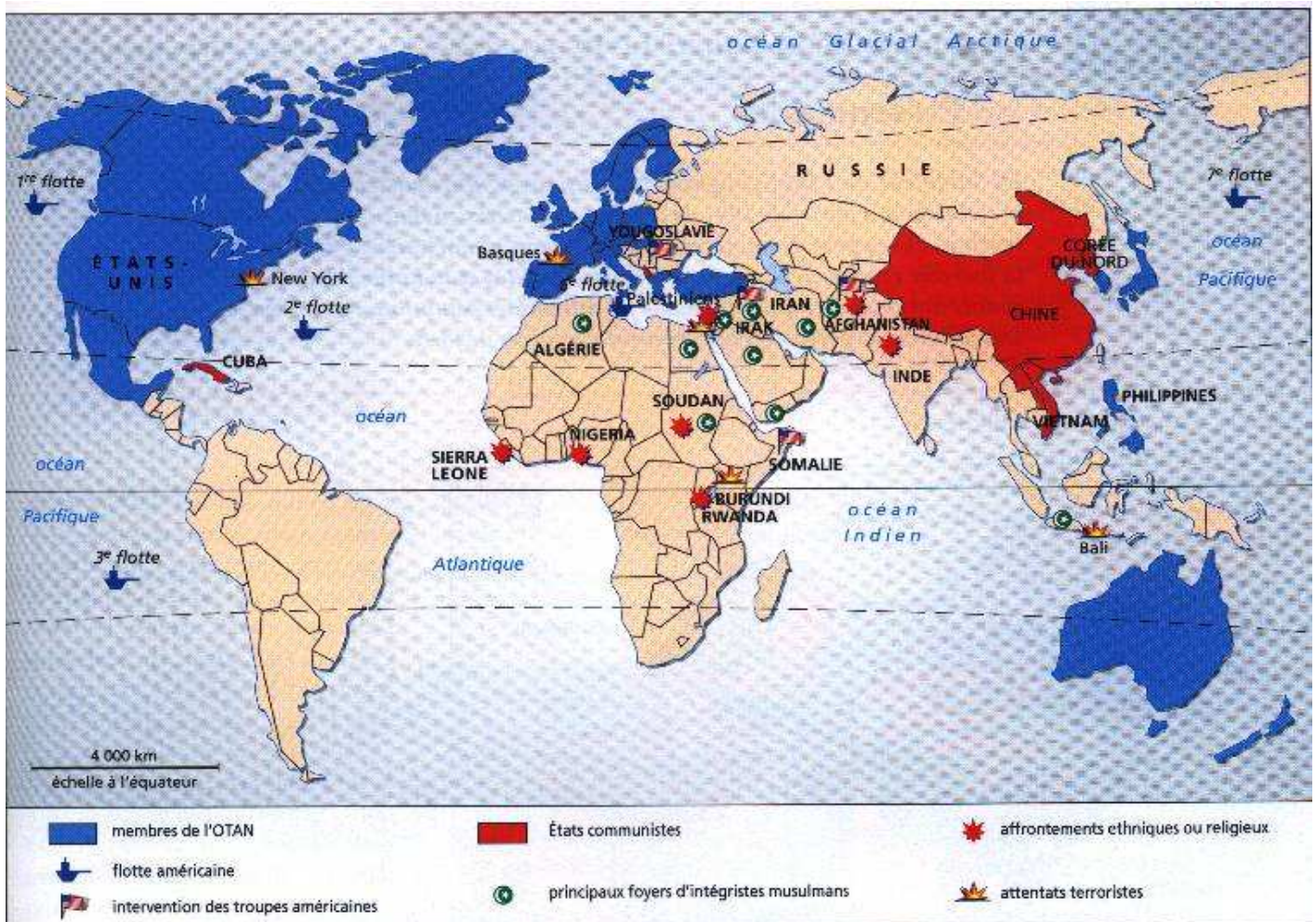
Doc.1 Carte du monde bipolaire 1947-1975

- 1- Repérez et identifiez les deux blocs de pays qui s'opposent et le troisième monde qui apparaît.
- 2- Où et comment se situent les bases américaines ?
- Pourquoi ?
- 3- Distinguez les atouts et les faiblesses de chaque camp.

Th2S3-2Cartes2

Doc.2

Carte du monde de 1991 à 2002, dominé par la superpuissance des Etats-Unis



4- Relevez les indices de la superpuissance américaine.

Docs 1 et 2

5- En utilisant les deux légendes, classez dans un tableau ce qui est resté et ce qui a disparu entre 1975 et 2002 concernant les Etats et les types de conflit.

Th2S3-2Cartes2

Mode d'emploi

Comparer deux cartes

1- Identifier

- Repérer la nature de la carte
- Repérer les types de signes et leur classement en légende (points, lignes, surfaces).
- Lire l'échelle
- Situer et nommer les lieux sur la carte.

2- Mettre en relation

- Relever les permanences ou continuités entre les deux cartes.
- Relever les différences ou les ruptures en sélectionnant les noms et les signes sur chaque carte.

3- Analyser

- Expliquer les évolutions constatées à l'aide d'un atlas historique ou d'une encyclopédie.
- Ecrire la conclusion sur les thèmes abordés par les deux cartes

Prolongements

* Rechercher pour le Proche-Orient les cartes du conflit israélo-arabe en 1945 et aujourd'hui.

- Identifier et analyser les modifications puis les problèmes qui en découlent.

1) Une Guerre froide

* La seconde moitié du XXème siècle (1947-1991) n'a plus connu de guerres mondiales mais les conflits armés se sont multipliés causant des millions de morts et de réfugiés.

*

2) Des guerres de décolonisation

*

* Elles sont prolongées par des guérillas pro-communistes combattues sans succès par l'armée américains (guerre du Vietnam 1965-1975).

* La décolonisation donne naissance au tiers-monde, qui constitue un enjeu convoité par les deux Grands grâce à ses ressources naturelles (pétrole) et démographiques.

1) _____ : accès des colonies européennes d'Asie et d'Afrique à l'indépendance

2) _____ : méthode de paix armée qui consiste à empêcher toute attaque en raison des risques de représailles nucléaires.

3) _____ : ordre mondial assuré par les deux grandes puissances Etats-Unis et URSS.

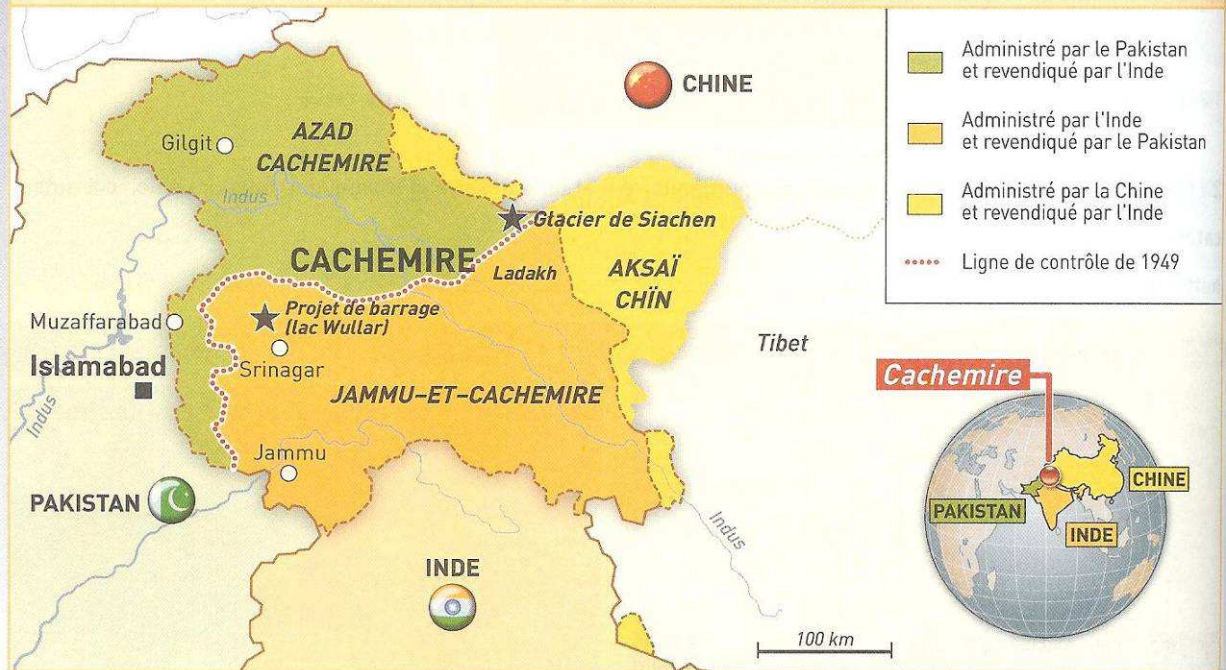
7

LE CONTENTIEUX DU CACHEMIRE

► Région montagneuse aux confins de la Chine, de l'Inde et du Pakistan, le Cachemire est, depuis le départ des colons anglais en 1947, convoité par ces trois puissances. Pourquoi ce territoire est-il l'enjeu d'affrontements qui dépassent désormais largement le cadre régional ?

1 LE CACHEMIRE AUJOURD'HUI : UN TERRITOIRE SOUS CONTRÔLE

Doc 1 Des frontières qui ne sont acceptées par personne



Doc 2 Du conflit aux guerres à répétition

Le Cachemire est un ancien État princier semi-autonome dans l'Empire britannique. Converti en partie à l'islam au XIV^e siècle, il est gouverné dès 1846 par une dynastie hindoue de maharajas. Lors de l'accession de l'Inde à l'indépendance (1947), une partition du Cachemire est envisagée sur des bases religieuses : les territoires à majorité musulmane doivent revenir au Pakistan et les territoires à majorité hindouiste doivent rejoindre l'Union indienne. Mais le maharaja préférant l'indépendance de son État à son découpage, le Cachemire est envahi par des tribus nord-pakistanaïses. Face à cette agression, le souhait du maharaja d'intégrer alors l'Inde entraîne l'intervention indienne. La guerre se conclut en 1949 sous l'égide de l'ONU et aboutit à la division du Cachemire. Deux autres guerres suivent en 1965 et 1971. Entre-temps, en 1962, la Chine en profite pour s'emparer de plusieurs territoires stratégiques pour elle dans la partie est du Cachemire. Ce conflit territorial est donc encore aujourd'hui loin d'être résolu.

D'après site Internet de La Documentation française.

1 ■ (Doc 1) Sur quel continent se trouve le Cachemire ?

2 ■ (Doc 1 et 2) Quels pays se disputent le territoire du Cachemire ?

3 ■ (Doc 2) Pour quelle raison éclate la première guerre de 1949 ?

4 ■ (Doc 2) Combien de guerres ont jusqu'à présent opposé l'Inde au Pakistan à propos du Cachemire ?

5 ■ (Doc 2) Quelle est la situation actuelle du Cachemire ?

2 UN TERRITOIRE STRATÉGIQUE EN ASIE

Doc 3 Des points de vue inconciliables ?

L'Inde estime que le Cachemire a rejoint légalement l'Inde et que les tribus pathanes qui ont attaqué le Cachemire en 1947 n'ont été que les instruments des autorités pakistanaïses. Elle revendique donc la totalité du territoire.

De son côté, le Pakistan considère que le Cachemire lui revient de droit : la région est à majorité musulmane et contiguë au pays. Elle se divise selon lui en deux territoires : le Balistan (partie intégrante du Pakistan) et l'Azad Cachemire, considéré comme indépendant. Quant à la Chine, elle fait valoir que le Ladakh est extérieur au Cachemire et que les régions conquises en 1962 sont stratégiquement vitales pour sa sécurité et la protection du Tibet qu'elle a annexé en 1950.

Les points de vue des puissances engagées au Cachemire sont difficilement conciliables. L'enjeu de cette crise n'est donc pas seulement local mais aussi régional, puisqu'il implique trois des principales puissances d'Asie.

D'après *Le Dessous des cartes*, Arte, 2000.

Doc 4 Siachen : une position indienne stratégique



Le glacier de Siachen, situé à 6 300 m d'altitude, où soldats indiens et pakistanaïses ont régulièrement échangé des tirs, est considéré comme le champ de bataille le plus haut du monde, mais les troupes qui y sont stationnées sont surtout victimes du froid ou du mal aigu des montagnes.

6 ■ (Doc 3) Pour quelle raison l'Inde revendique-t-elle le Cachemire ?

7 ■ (Doc 3) Quel argument oppose le Pakistan à son voisin hindou pour refuser de lui abandonner le Cachemire ?

8 ■ (Doc 4 et 5) Quel autre enjeu explique le conflit à propos du Cachemire ?

9 ■ (Doc 5) Que pourrait décider contre son voisin un pays qui contrôlerait tout le Cachemire ?

Doc 5 L'enjeu de l'eau

Enjeu politique, le Cachemire, situé à très haute altitude dans l'Himalaya est, en outre, un véritable « château d'eau » dont les ressources concourent à alimenter la rivalité qui oppose l'Inde et le Pakistan. Sa possession permet de contrôler le bassin de l'Indus. Or, pour ces deux pays, l'eau du fleuve est vitale pour irriguer les cultures et nourrir les populations. Le partage des eaux de l'Indus et de ses affluents est organisé dans le cadre d'un traité bilatéral en date du 19 septembre 1960. Ce partage, tout en étant habituellement respecté par les deux parties, reste soumis à l'état des relations entre les deux pays. En 1965, l'Inde a essayé d'« assécher » le Pakistan et, dans la crise actuelle, des voix en Inde se font entendre pour proposer cette mesure de rétorsion contre le Pakistan et ses incursions au Cachemire.

D'après le rapport n° 336 du Sénat, 24 juin 2002.

► BILAN

■ Dans le cas du Cachemire, deux logiques s'opposent pour justifier leur position : résumez-les.

La logique de l'Inde



La logique du Pakistan



L'ASIE, UNE POUDRIÈRE NUCLÉAIRE

Doc 1 L'escalade nucléaire

1947 : dissolution de l'Empire britannique des Indes et 1^{re} guerre du Cachemire.
 1949 : délimitation des Cachemire pakistanais et indien.
 1962 : invasion chinoise en territoire indien.
 1964 : la Chine devient une puissance nucléaire.
 1965 : 2^e guerre du Cachemire.
 1971 : 3^e guerre indo-pakistanaise. Indépendance du Pakistan oriental (Bangladesh).
 1974 : l'Inde devient une puissance nucléaire.
 1980 : le Pakistan est suspecté de posséder l'arme atomique.
 1989 : dissolution des institutions du Jammu-et-Cachemire et déploiement des troupes indiennes au Cachemire.
 1996 : élections au Cachemire.
 1998 : 1^{er} essai nucléaire du Pakistan.
 1999 : une 4^e guerre au Cachemire est évitée de peu.
 2000-2002 : nouvelle escalade dans la violence.
 2004 : l'Inde et le Pakistan en appellent à la paix.

1 ■ (Doc 1 et 2) Entourez les noms des pays d'Asie possesseurs de l'arme nucléaire.

2 ■ (Doc 2) L'essai nord-coréen s'est-il fait avec l'accord de la communauté internationale ?

Doc 2 La prolifération nucléaire

La Corée du Nord a procédé le 9 octobre 2006 à un essai nucléaire souterrain de forte intensité. Cet essai a donné lieu à une condamnation unanime du Conseil de sécurité de l'ONU qui estime que cet essai nucléaire constitue une menace directe contre la paix et la sécurité internationales. L'Iran cherche également à maîtriser le feu nucléaire par enrichissement de l'uranium dans plusieurs centrales. Elle a refusé à plusieurs reprises, en 2005 et 2006, les propositions européennes de coopération et de contrôle.

Ministère des Affaires étrangères



Centrale nucléaire de Bushehr, Iran.

Pourquoi l'ONU a-t-elle réagi ?

3 ■ (Doc 2) Quel pays d'Asie cherche actuellement à se doter de la bombe atomique ?

4 ■ Pourquoi refuse-t-il l'aide des Européens ?

Doc 3 Trois géants militaires face à face

	CHINE	INDE	PAKISTAN
Forces terrestres	2 250 000 soldats	980 000 soldats et plus d'un million de combattants paramilitaires	520 000 soldats et 247 000 paramilitaires
Chars et blindés	7 180 chars et 4 560 blindés	3 500 chars et 157 blindés	2 120 chars et 850 blindés
Aviation	3 400 avions de combat et 480 hélicoptères	839 avions de combat et 478 hélicoptères	417 avions de combat et 180 hélicoptères
Marine	424 bâtiments de guerre et 68 sous-marins	132 bâtiments de guerre, 19 sous-marins et 1 porte-avions	52 bâtiments de guerre et 9 sous-marins
Armes nucléaires	400 têtes nucléaires	75 têtes nucléaires	entre 15 et 25 têtes nucléaires

5 ■ Quel pays semble le plus puissant des trois ? Pourquoi ?

6 ■ Votre réponse est-elle toujours valide si le moins puissant utilise l'arme atomique ? Pourquoi ?

S'ENTRAÎNER

COMPRENDRE LE CONTENTIEUX DES ÎLES KOURILES

Doc 1 Des relations tendues entre la Russie et le Japon



À son arrivée au Japon, le président Poutine s'est dit optimiste sur le renforcement des relations entre les deux pays, perturbées par le différend territorial sur les quatre îles Kouriles du Sud (occupées par la Russie depuis 1945), que revendiquent les autorités japonaises. M. Poutine a réaffirmé qu'il n'était pas question de rendre ces îles occupées par les Russes depuis 1945. Le différend empêche la conclusion d'un traité de paix qui officialiserait la fin des hostilités de la Seconde Guerre mondiale.

◀ Vladimir Poutine en visite officielle au Japon Agence France Presse, 3 septembre 2000.

Doc 2 Un marin japonais tué par des militaires russes

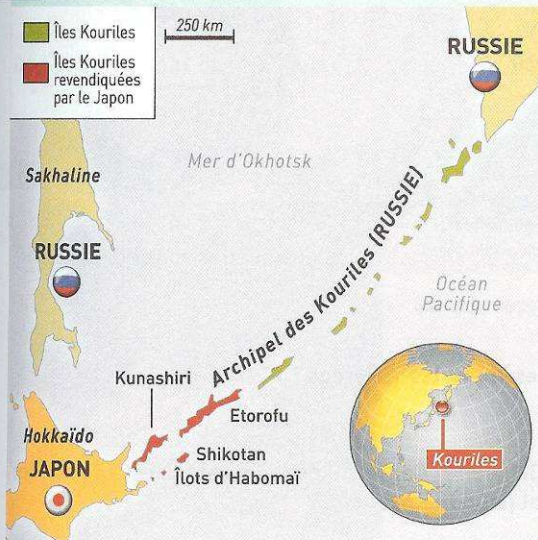
Les gardes-côtes russes ont tué un marin japonais au large de l'archipel des Kouriles. Moscou regrette, mais nie toute responsabilité et considère qu'il s'agit là d'une violation de ses eaux territoriales. Le Japon fait de son côté valoir que l'incident a eu lieu dans les eaux japonaises. Vladimir Poutine a proposé de rendre deux des quatre îles, ce que les Japonais jugent inacceptable. Ces îles représentent un double intérêt : géopolitique puisqu'elles constituent une porte d'entrée sur le Pacifique, et économique car les zones de pêche qui les entourent sont vastes et riches en poissons.

Agence Reuters, 16 août 2006.

1 ■ (Doc 3) Où se localisent les îles Kouriles ?

2 ■ (Doc 1 à 3) Pour quelles raisons les deux États mentionnés se disputent-ils ces îles ?

Doc 3 Carte des îles Kouriles



3 ■ (Doc 2) Quelle proposition nouvelle a fait le président russe en 2006 ?

4 ■ Que permettrait un accord entre les deux pays ?

RETENIR

UN CONFLIT TERRITORIAL OU IDENTITAIRE

- ▶ Le Cachemire et les îles Kouriles sont des territoires stratégiquement importants. Leur possession, qui n'est pas réglée, a parfois provoqué des guerres entre de puissants États.
- ▶ Souvent, ces conflits territoriaux demeurent limités géographiquement et politiquement. Mais la situation peut inquiéter le monde entier lorsque

des pays comme la Chine, l'Inde et le Pakistan sont concernés, car tous les trois sont des puissances nucléaires.

Vocabulaire

Puissance nucléaire : pays qui dispose de la bombe atomique.