

Nom : Prénom : 6ème Pays-Bas

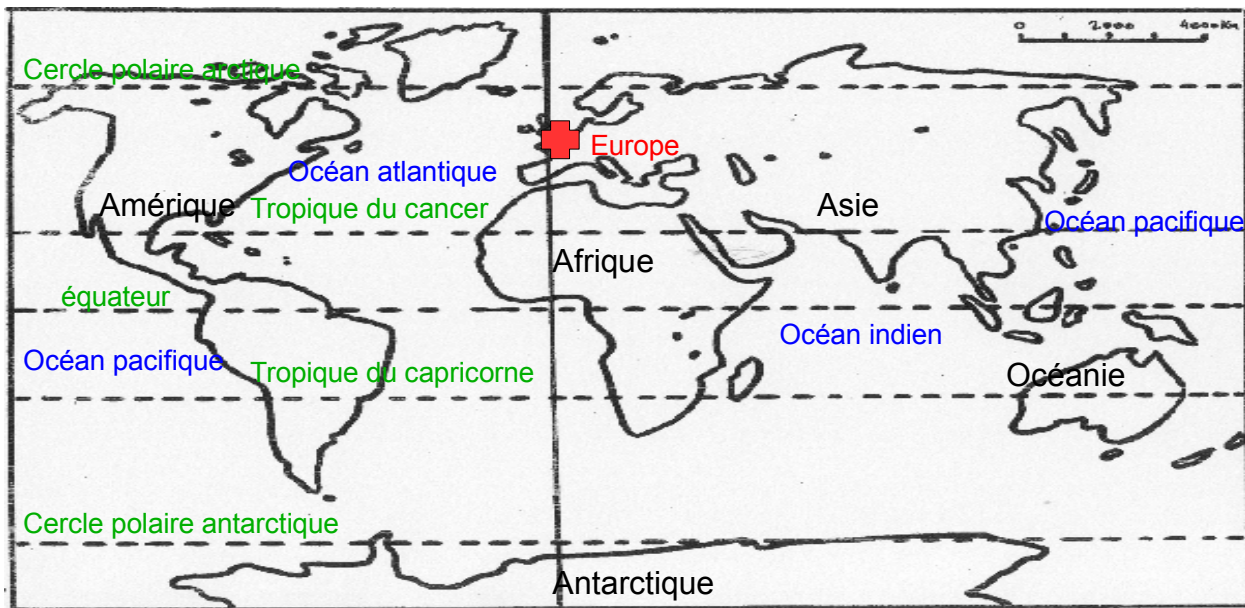
20/10/2011 - Mon espace proche -

HIGEO 6.R20	[S] situer les grands repères terrestres	
HIGEO 6.R21	[-] utiliser les points cardinaux pour se repérer	
HIGEO 6.R22	[S] situer continents et océans	
HIGEO 6.R25	[S] situer son espace proche	
HIGEO 6.D21	[S] décrire un document	
HIGEO 6.D31	[S] mettre en relation deux documents de nature différente	
HIGEO 6.E22	[-] réaliser un croquis simple de paysage en construisant la légende (limites de l'espace à simplifier données par le professeur)	

Exercice 1 - Je localise mon espace proche

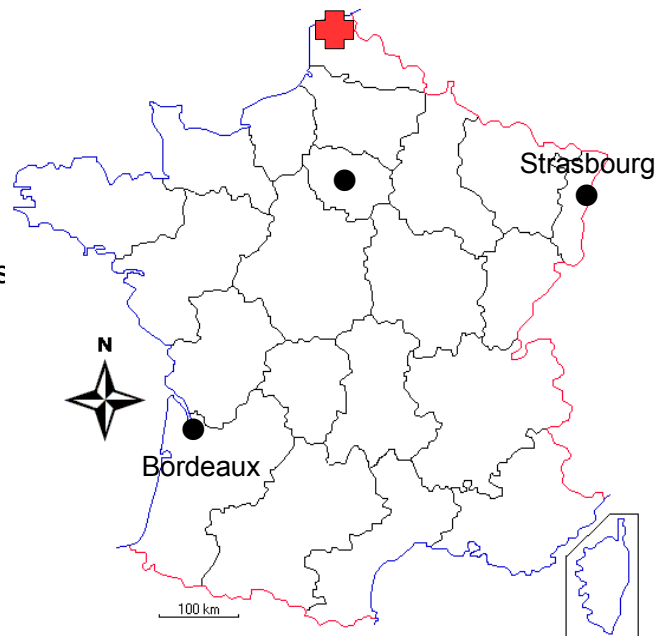
Sur le planisphère :

- 1) indique par une croix rouge Ardres
- 2) écris en rouge le nom du continent sur lequel nous nous trouvons
- 3) écris en noir le nom des autres continents
- 4) écris en vert le nom des 5 lignes imaginaires tracées sur ce planisphère
- 5) écris en bleu là où ils sont le nom des océans suivants : pacifique - atlantique - indien (attention un des trois doit être écrit deux fois !)



Sur cette carte :

- 6) indique par une croix rouge Ardres
- 7) écris le nom de la région dans laquelle nous vivons **le Nord-Pas-de-Calais**
- 8) Complète les phrases suivantes en utilisant les points cardinaux :
 - Ardres est située **au Nord** de Paris
 - Ardres est située **au Nord-Ouest** de Strasbourg
 - Ardres est située **au Nord-Est** de Bordeaux



Exercice 2- Je me repère

1) Sous chacun des documents, indique s'il s'agit d' ...

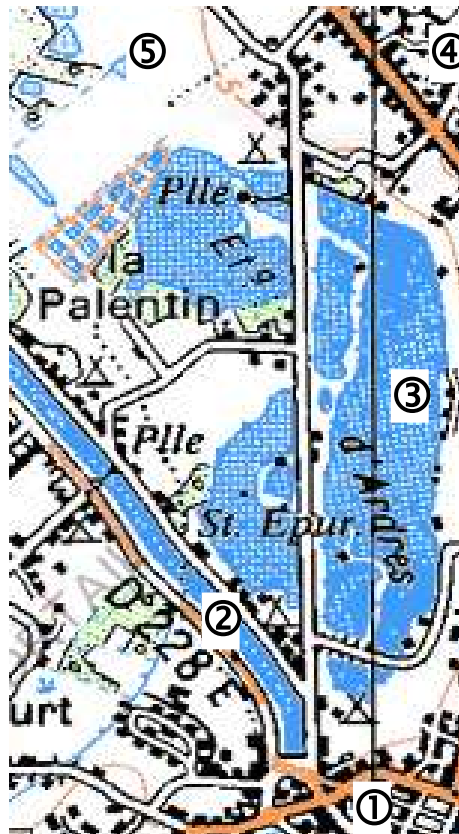
- une photo aérienne verticale
- une photo aérienne oblique
- une carte IGN

2) Sur le doc n°1, il y a 5 éléments numérotés.

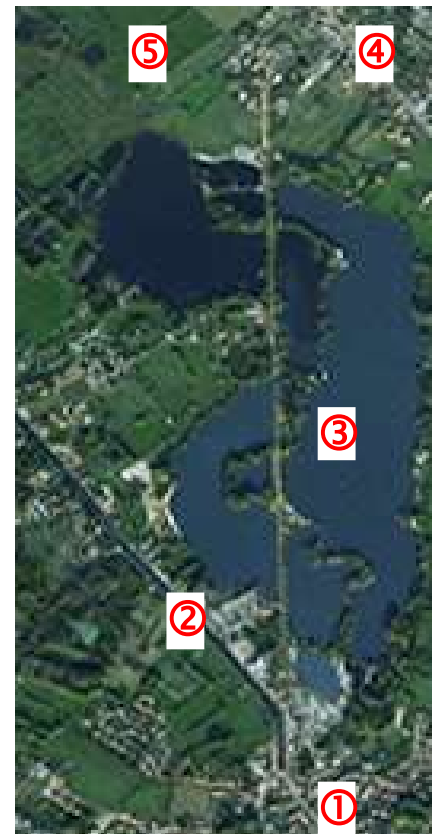
Indique les mêmes numéros aux bons emplacements sur les deux autres documents

3) Puis nomme ces éléments :

- ① La ville d'Ardres
- ② le canal
- ③ le lac
- ④ Bois-en-Ardres
- ⑤ Champs et marais



une carte IGN



une photo aérienne verticale

Exercice 3 - J'étudie un paysage de mon espace proche

1) Décris cette photographie plan par plan (tu peux tracer les plans sur la photo pour t'aider / il y en a 3 !)


Au premier plan, on aperçoit le **centre-ville d'Ardres** avec sa place, son église, ses vieilles maisons.

Au second plan, nous voyons **les lacs** et la route qui les traverse. A gauche, le canal.

A l'arrière-plan, à gauche on aperçoit à perte de vue **des champs** et des marais, à droite Bois-en-Ardres.



une photo aérienne oblique



2) Propose une légende au croquis et colorie-le

Il y avait plusieurs légendes possibles, celle que je propose ici ressemble à celle qu'on a construite en classe

- Espace bâti (urbain)
 - Espace rural agricole
 - lac
 - marais
 - Voies de communication
- } Espaces naturels

3) termine en donnant un titre à ton croquis :
Un espace rural périurbain