

Exercice maison pour le 13 mai 2008 :

**Première étape :**

lire l'introduction du chapitre dans votre manuel p.98

**2ème :** compléter le règne des rois importants à l'aide des pages 101,104 et DOC 2 p.106

**3ème :** avant de commencer l'exercice ci-dessous, chercher la définition du domaine royal p.101 que vous recopierez sur une copie.

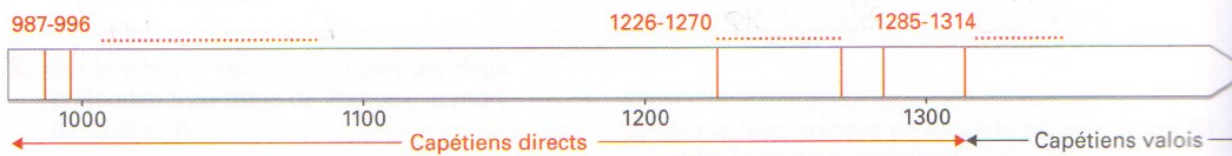
**4ème :** faire l'exercice ci-dessous en vous aidant du blog pour le retrouver en couleur

(<http://lewebpedagogique.com/malraux75017/>)

Attention la carte 2 ne correspond pas à la carte 3 p.102 de votre manuel: expliquez pourquoi.

**5ème :** A l'aide de votre manuel (cours p103 ) expliquez comment les rois agrandissent le domaine royal de trois manières, comment les rois contrôlent ce royaume agrandi (en une phrase) et retrouvez quelle ville devient la capitale sous Philippe Auguste.

4. Sur la frise, placez les trois grands rois capétiens : Philippe IV le Bel, Hugues Capet et Louis IX, et coloriez leur règne en rouge.



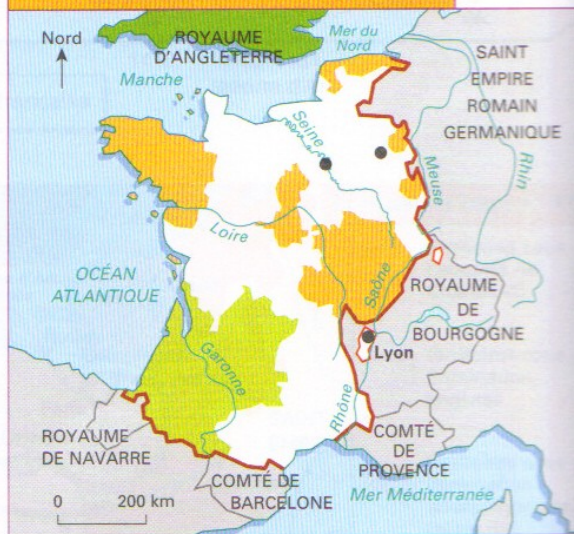
**B Comment les Capétiens renforcent-ils leur pouvoir sur le royaume ?**

1. La France en 987 à l'avènement d'Hugues Capet



- limites du royaume de France
- domaine royal
- fiefs du roi de France
- royaume d'Angleterre
- capitale des Capétiens
- ville du sacre
- nécropole royale

2. La France en 1314 à la mort de Philippe IV le Bel



- limites du royaume de France
- domaine royal
- fiefs du roi de France
- royaume d'Angleterre
- possessions anglaises

5. Sur la carte 1 et en respectant la couleur de la légende, écrivez le nom :
- de la capitale des Capétiens
  - de la ville où les rois sont sacrés
  - de la ville où ils sont enterrés.
6. Sur les cartes 1 et 2, coloriez en rouge le domaine royal.

Comment a-t-il évolué ?

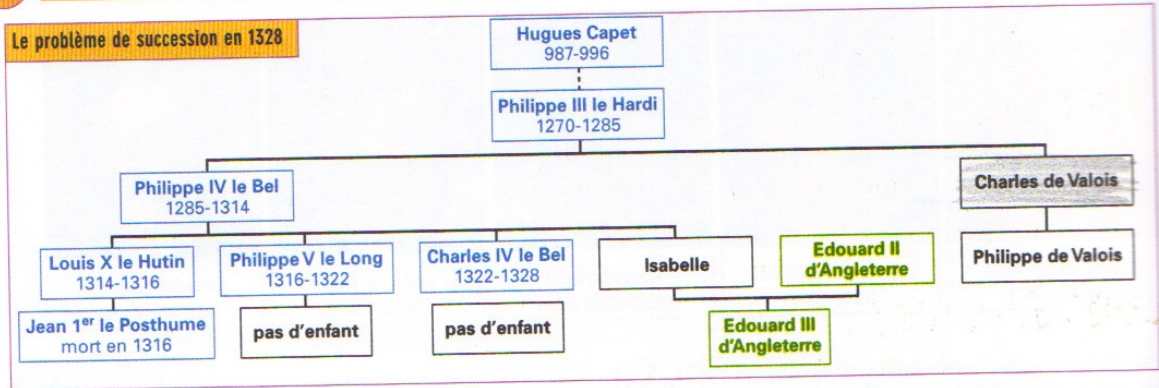
7. Quel royaume menace les rois de France ?

**6ème étape :** faire l'exercice ci-dessous en vous aidant de votre manuel si nécessaire p.107  
**7ème et dernière étape :** pour vérifier que vous avez bien compris cette guerre de Cent ans, répondez aux questions p.109.

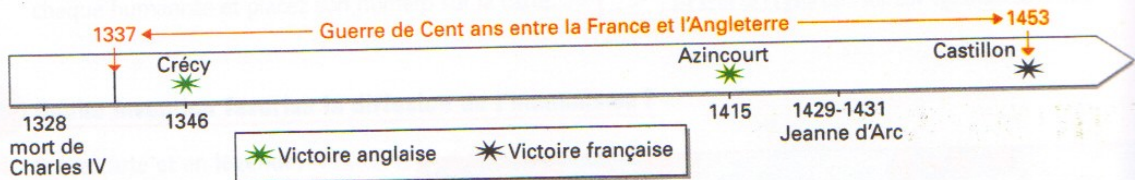
# La France en guerre (XIV<sup>e</sup>-XV<sup>e</sup> siècles)

FIGURE  
20

## A Quelle est l'origine de la guerre en France ?



1. Pourquoi y a-t-il un problème de succession à la mort de Charles IV ?
2. Sur le schéma, coloriez les cases des deux prétendants au trône de France à la mort de Charles IV.
3. Lequel devient roi de France ?
4. Après cet événement, quels rois s'opposent ?
5. Sur la frise, coloriez en rouge la période de conflit entre leurs deux royaumes.



## B Quel rôle Jeanne d'Arc a-t-elle joué dans la guerre ?

6. Sur la carte, coloriez en vert les territoires sous domination anglaise et en bleu ceux sous l'autorité de Charles VII.
7. Repassez en rouge la chevauchée de Jeanne d'Arc.
8. Écrivez le nom de la ville où Jeanne d'Arc rencontre Charles VII.
9. Pourquoi le conduit-elle à Reims ?
10. D'après la carte, comment se termine sa chevauchée ?

