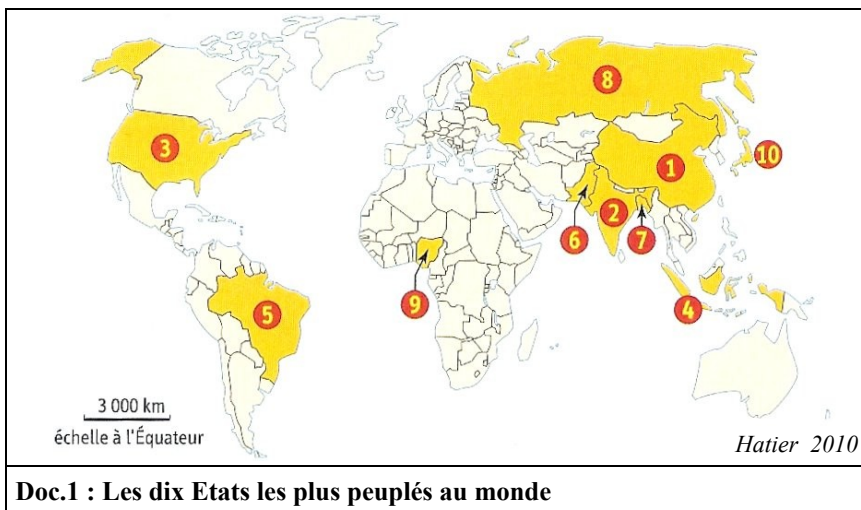


**Exercice n°1 : Les Etats les plus peuplés**

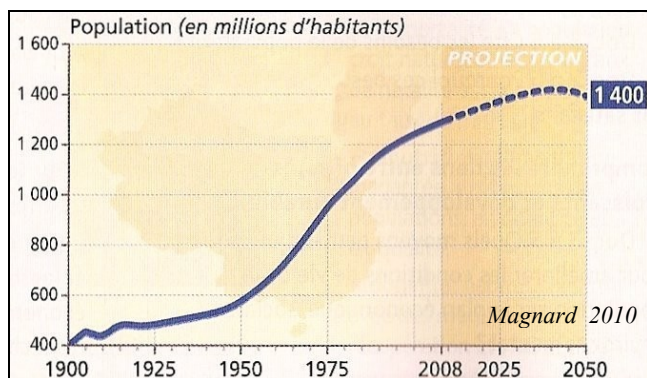
I- Nomme les six Etats les plus peuplés du monde.

**3 pts**

Rang	Pays
1	<b>Chine</b>
2	<b>Inde</b>
3	<b>Etats-Unis</b>
4	<b>Indonésie</b>
5	<b>Brésil</b>
6	<b>Pakistan</b>



**Doc.1 : Les dix Etats les plus peuplés au monde**

**Exercice n°2 : La croissance démographique**

**Doc.2 : L'évolution de la population chinoise**

L'agriculture chinoise, qui emploie encore 40 % de la population active, réalise quasiment l'autosuffisance du pays. La Chine est le premier producteur mondial de blé, de riz et de viande de porc. Les hauts rendements des cultures sont obtenus par la consommation d'engrais chimiques et le recours à l'irrigation. La Révolution verte des années 1970 fondée sur des variétés croisées de blé et de riz a été prolongée grâce à de nouvelles avancées technologiques au début des années 2000. Toutefois, cette agriculture reste fragile. Déficit en eau dans la Chine du Nord, concurrence entre usages agricoles, industriels et urbains, pollution des eaux ne cessent de s'aggraver. Surtout, le fossé se creuse entre les revenus ruraux et citadins. Ces derniers sont le triple de ceux des paysans. Cette différence est la source de migrations touchant quelques 150 millions de ruraux allant tout ou partie de l'année travailler en ville. *D'après Th. Sanjuan, Dictionnaire de la Chine contemporaine, Armand Colin, Paris, 2006*

**Doc.3 : Le prix du développement de la Chine**

1- Donne les définitions suivantes : **2 pts**

. croissance démographique : **augmentation de la population**

. croissance économique : **augmentation des richesses produites**

2- Décris l'évolution de la population chinoise en distinguant quatre périodes. **2 pts**

1900-1950 **faible augmentation**

1980-2008

**croissance ralentie**

1950-1980 **forte augmentation**

2008-2040 (projections)

**croissance ralentie**

3- Comment la Chine a-t-elle fait face à l'évolution de sa population (doc.3) ?

**La Chine a augmenté les rendements agricoles afin de nourrir toute sa population. 2 pts**

4- Place les enjeux du développement durable de la Chine dans ce tableau : **2 pts**

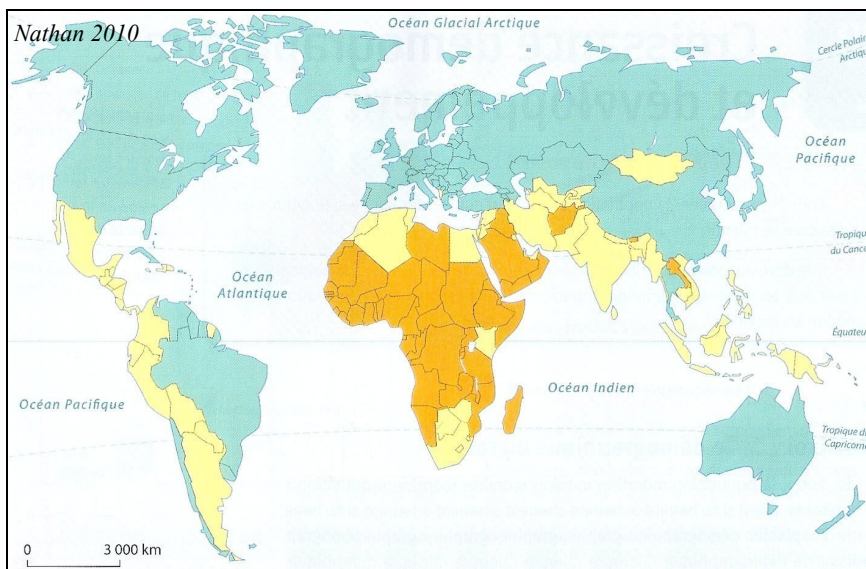
. Réduire les inégalités sociales

. Mieux gérer les ressources en eau

. Assurer à tous des conditions de vie décentes

. Réduire les inégalités de richesse entre les régions




Les enjeux du développement durable de la Chine		
Enjeu économique	Enjeu social	Enjeu environnemental
<b>Assurer à tous des conditions de vie décentes</b>	<b>Réduire les inégalités sociales</b>	<b>Mieux gérer les ressources en eau</b>
<b>Réduire les inégalités de richesse entre les régions</b>		



Doc.4 : La croissance démographique annuelle

- 5- Place correctement les trois grands types d'évolution démographique en légende : **1 pt**
- . Moyenne (de 1 à 2 %)
  - . Négative ou faible (moins de 1 %)
  - . Forte (plus de 2 %)



Légende

-  **Négative ou faible (moins de 1 %)**
-  Moyenne (de 1 à 2 %)
-  **Forte (plus de 2 %)**

**Exercice n°3 : Un front pionnier**

Doc.5 : Un paysage de front pionnier pour la culture du manioc (Vietnam)

Légende

-  **Forêt inexploitée**
-  **Zone défrichée**
-  **Culture de manioc**

1- Donne la définition d'un front pionnier (et précise où ils sont localisés dans le monde). **2 pts**

- . **espace mis en valeur le long d'une zone inexploitée ; il gagne cette zone peu à peu**
- . **les fronts pionniers sont localisés près de certains foyers de population**

2- Fais le croquis de ce paysage de front pionnier (colorie le croquis et fais la légende). **3 pts**

3- Décris et explique ce paysage de front pionnier. **3 pts**

**A l'arrière plan, s'étend une forêt encore inexploitée.**

**Au second plan, la forêt a été abattue pour y cultiver du manioc, comme on le voit au premier plan.**