

# Croissance démographique et développement



Template Magnard 2010  
Clipart [www.margotgrimal.fr](http://www.margotgrimal.fr)

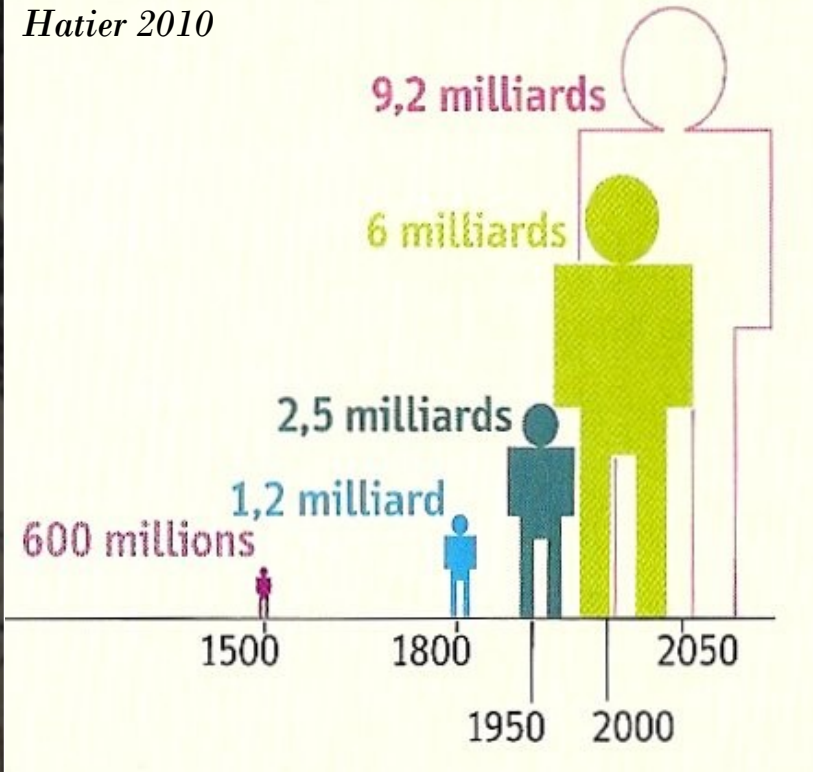


*Comment la population a-t-elle évolué à l'échelle mondiale ?  
Quels sont les enjeux en terme de développement durable ?*



Comment a évolué la population mondiale depuis 1950 ?  
Justifie ta réponse en faisant un calcul.

Hatier 2010



L'évolution de la population mondiale



Voici la correction.

## Comment évolue la population mondiale ?

**évolution**

**la population mondiale a fortement augmenté**

**chiffres**

**elle est passée de 2,5 milliards en 1950  
à 6 milliards en 2000**

**évolution  
chiffrée**

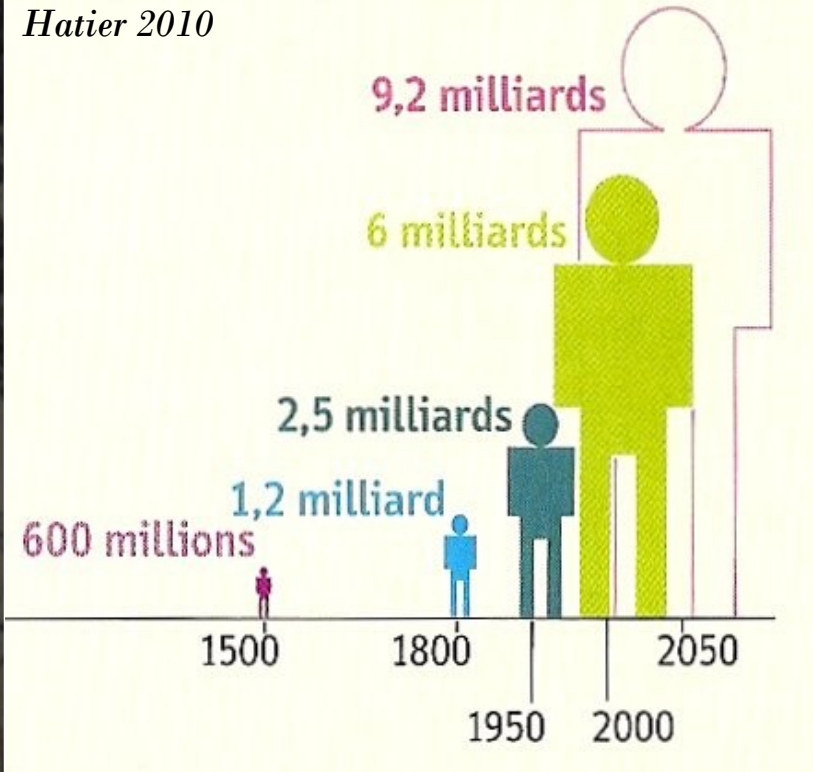
**elle a donc été multipliée  
par 2,4 en 50 ans**

**projections**



# D'après les projections, comment va évoluer la population mondiale d'ici 2050 ?

*Hatier 2010*



L'évolution de la population mondiale



Voici la correction.

## Comment évolue la population mondiale ?

**évolution**

**la population mondiale a fortement augmenté**

**chiffres**

**elle est passée de 2,5 milliards en 1950  
à 6 milliards en 2000**

**évolution  
chiffrée**

**elle a donc été multipliée  
par 2,4 en 50 ans**

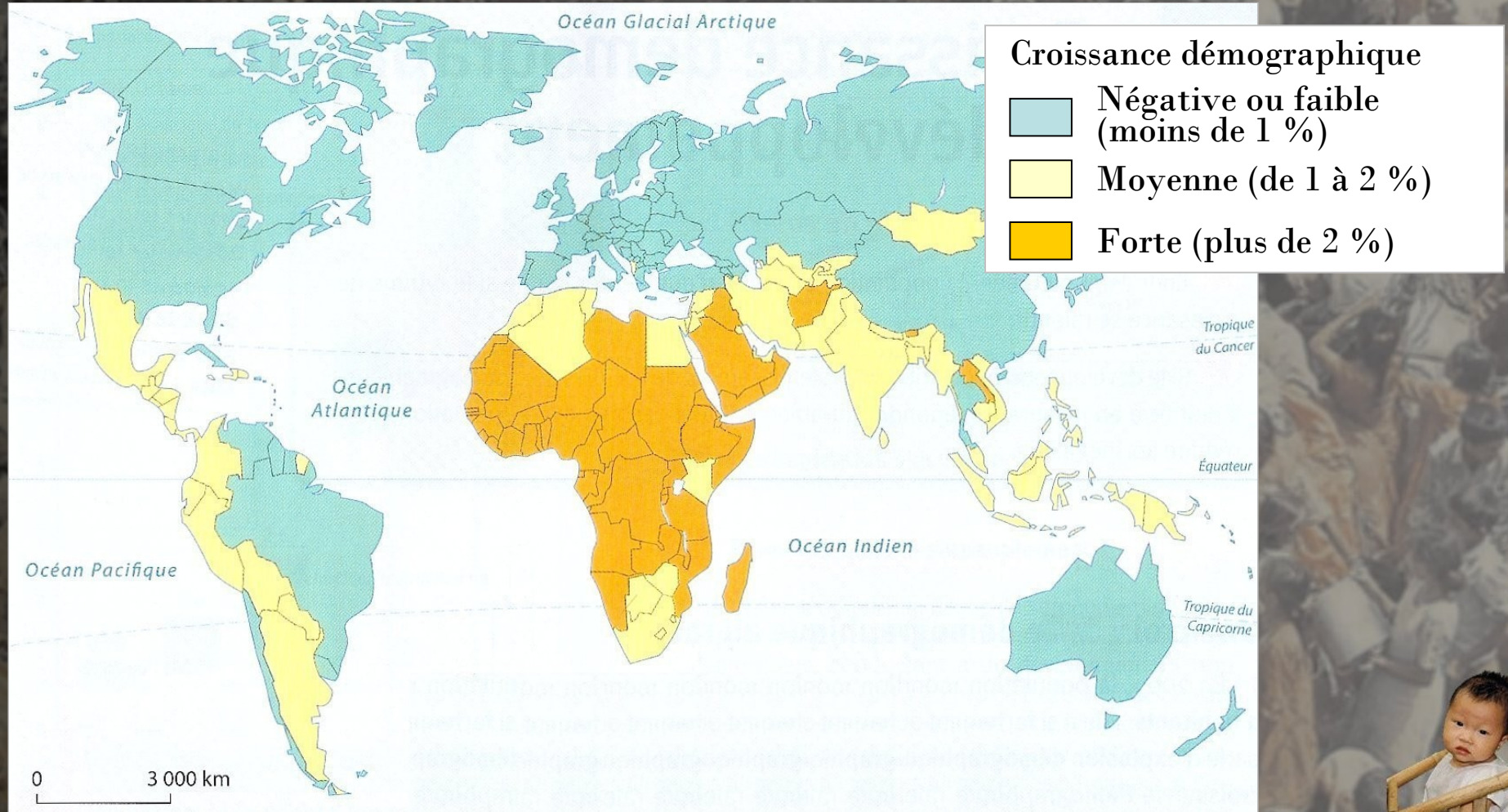
**projections**

**elle va continuer d'augmenter  
mais à un rythme moins rapide  
(elle va être multipliée par 1,5 entre 2000 et 2050)**



Voici une carte de la croissance démographique : encadre en rouge les trois types d'évolution de cette croissance.

La croissance démographique annuelle

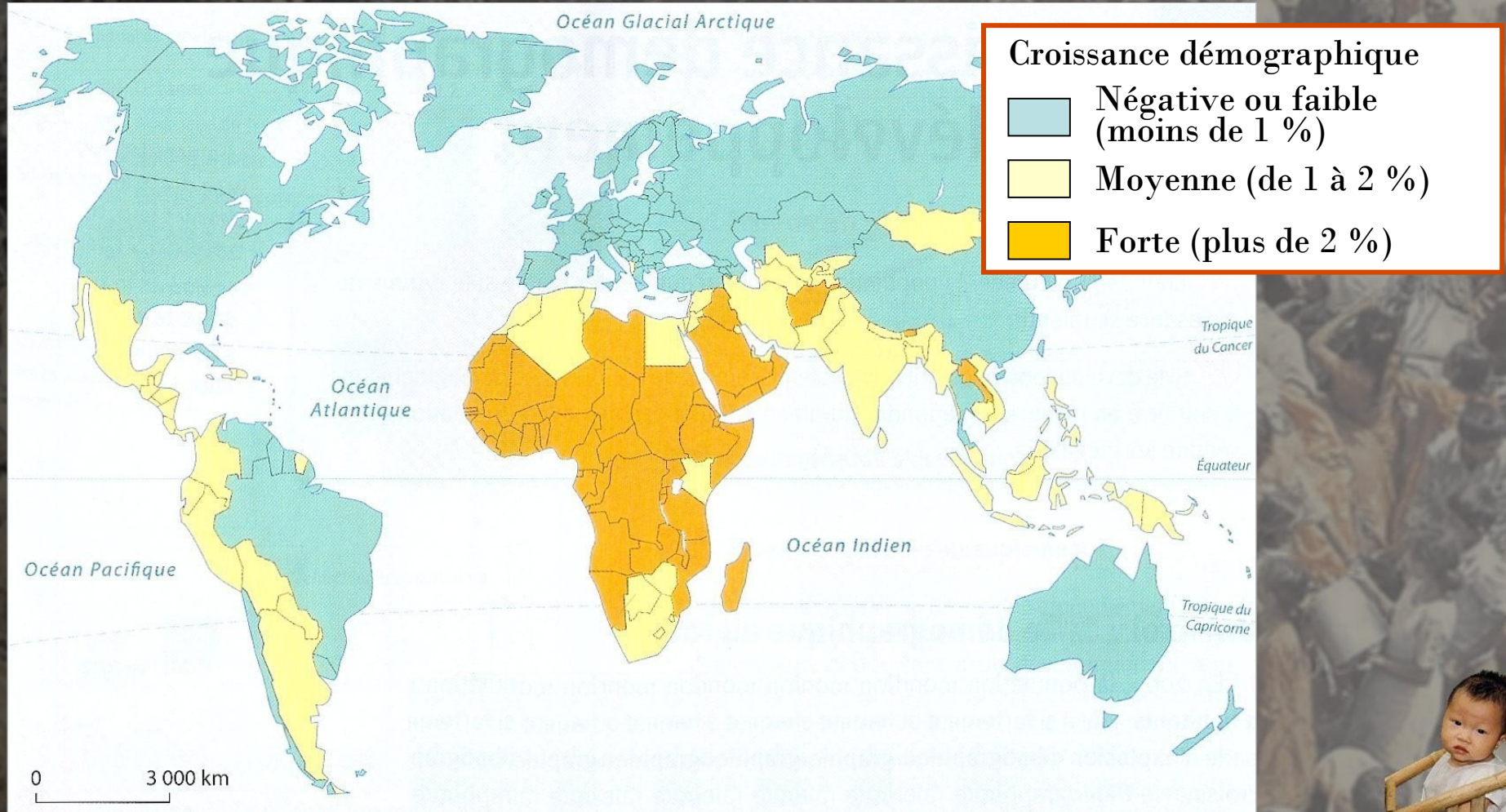


Nathan 2010



# Voici la correction.

## La croissance démographique annuelle



# Que signifient ces trois types de croissance démographique ?

## Les types de croissance démographique



La natalité est très supérieure à la mortalité

Croissance démographique

moyenne

faible ou négative

forte



La natalité diminue mais elle reste supérieure à la mortalité

Croissance démographique



La natalité a beaucoup diminué. Elle est égale ou inférieure à la mortalité.

Croissance démographique

*Hatier 2010*




# Voici la correction.

## Les types de croissance démographique




La natalité est très supérieure à la mortalité

Croissance démographique



La natalité diminue mais elle reste supérieure à la mortalité

Croissance démographique



La natalité a beaucoup diminué. Elle est égale ou inférieure à la mortalité.

Croissance démographique

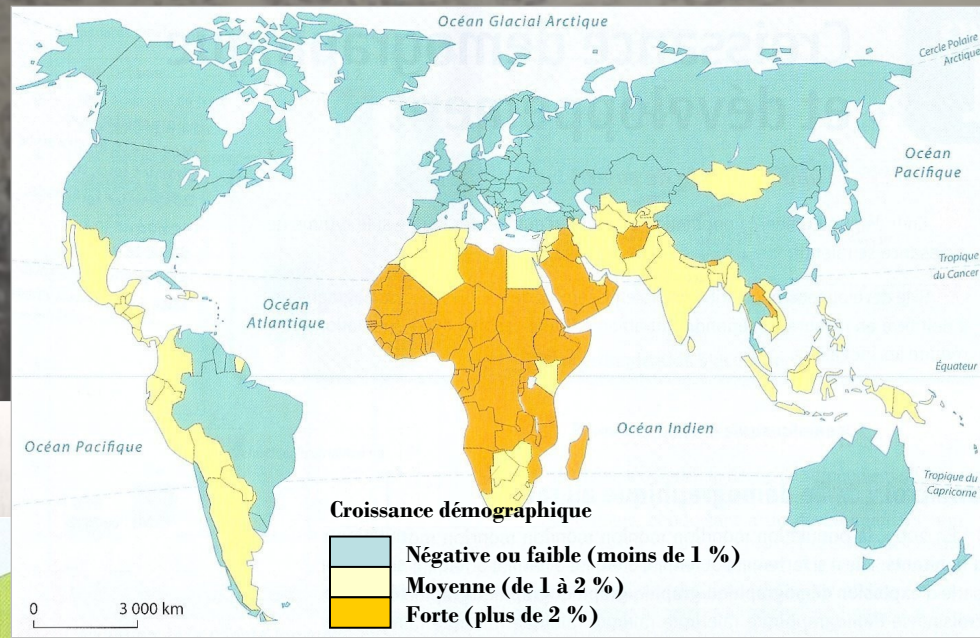
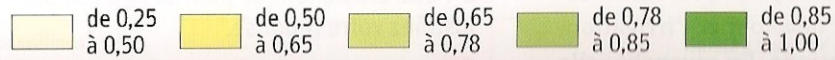


*Hatier 2010*

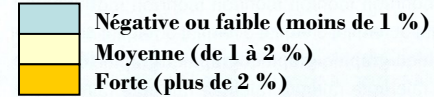


Montre le lien entre la croissance démographique et l'IDH en prenant comme exemples la France et le Tchad.

Indice de développement humain (IDH)



Croissance démographique



Nathan 2010



Hatier 2010

Voici la correction.

## La croissance démographique mondiale

**Plus un pays a un IDH élevé, plus sa croissance démographique est faible : par exemple la France.**

**Plus un pays a un IDH faible, plus sa croissance démographique est forte : par exemple le Tchad.**



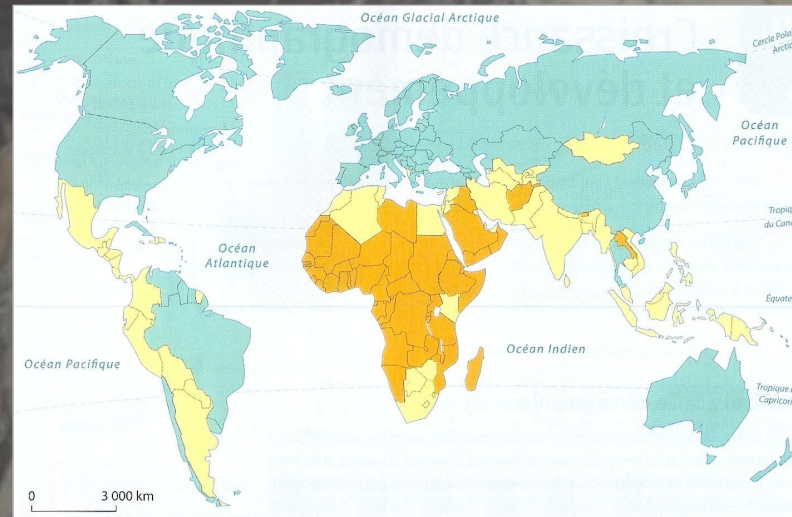
# Où les défis du développement durable sont-ils les plus difficiles à relever ?

- dans les pays développés
- dans les pays les moins développés
- parce que la croissance démographique y est faible
- parce que la croissance démographique y est forte

## L'IDH



## La croissance démographique



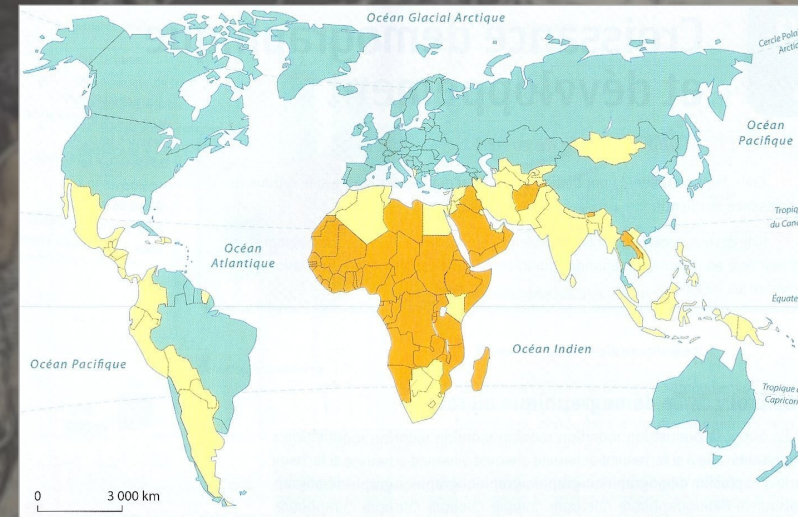
# Voici la correction.

- ❑ dans les pays développés
- ❑ dans les pays les moins développés
- ❑ parce que la croissance démographique y est faible
- ❑ parce que la croissance démographique y est forte

## L'IDH



## La croissance démographique



En guise de conclusion, en quoi cette image d'arrière-plan illustre-t-elle l'idée selon laquelle la croissance démographique est un frein au développement ?



Magnard 2010



Voici la correction (*ne pas noter*).

**Cette foule indienne est massée autour d'un puits : la population de cette région est trop nombreuse pour les ressources en eau existante.**



Magnard 2010



