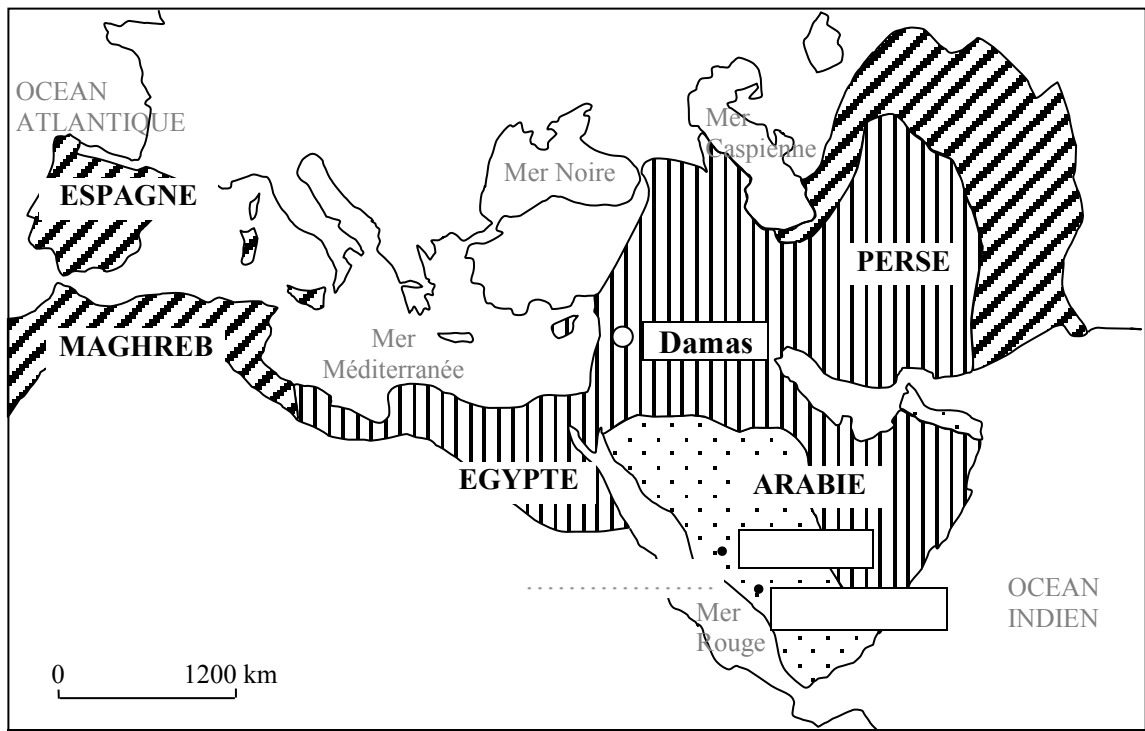


Exercice n°1 : Se repérer dans l'espace et dans le temps




Légende

- Islam à la mort de Mahomet (.....)
- Conquêtes par les premiers califes (.....-661)
- Conquêtes par les Omeyyades (661-750)
- Omeyyades

Doc.1 : L'extension de l'islam

- 1- Complète les carrés de légende.
- 2- Ecris en minuscules noires le nom des deux villes de cette région.
- 3- Colorie en rouge le point correspondant à la capitale de l'empire sous les Omeyyades (ainsi que dans la légende) et écris son nom en minuscules noires.
- 4- Représente par une flèche rouge la fuite de Mahomet à Médine et écris à côté (à gauche de la flèche) le nom de cet événement et sa date en minuscules bleues.
- 5- Ecris dans la légende en bleu la date de la mort de Mahomet (deux premiers carrés de légende).

Exercice n°2 : Raconter et expliquer




Doc.2 : La révélation

- 1- Où et comment Dieu aurait-il transmis son message à Mahomet ?  
.....  
.....  
.....  
.....
- 2- Complète cette phrase.  
  
Mahomet est le ..... (nom d'un homme choisi par Dieu pour transmettre son message) de Dieu, ..... (nom de Dieu); il doit transmettre son message, l'..... (nom de la religion) ; ceux qui se convertissent à cette nouvelle religion sont les ..... (nom des croyants de cette nouvelle religion).

**Exercice n°3 : Les croyances**

1- Place au bout des branches de cette étoile les cinq piliers de la religion que Dieu aurait révélée à Mahomet.

**Exercice n°4 : Décrire la ville de Bagdad**

Décris la ville de Bagdad :

1- Localise Bagdad et dis quand elle a été fondée.

.....

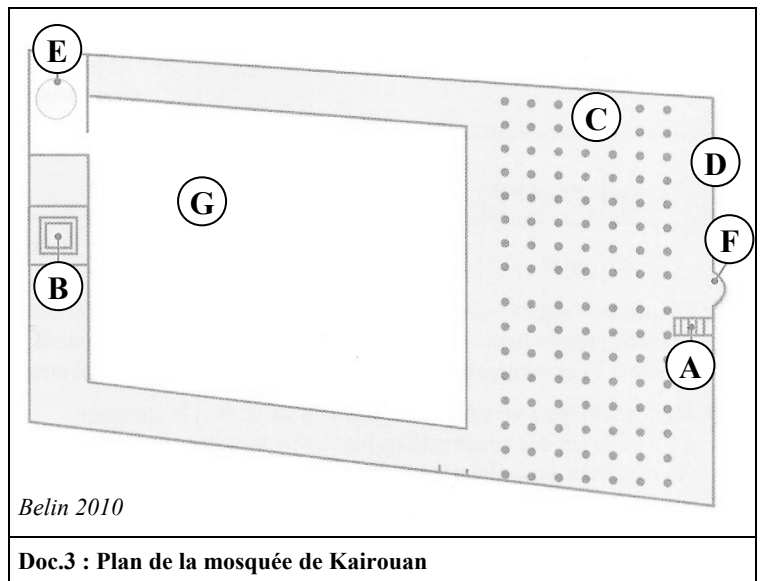
2- Décris le plan et cite les principaux lieux et monuments.

.....  
 .....  
 .....  
 .....  
 .....  
 .....

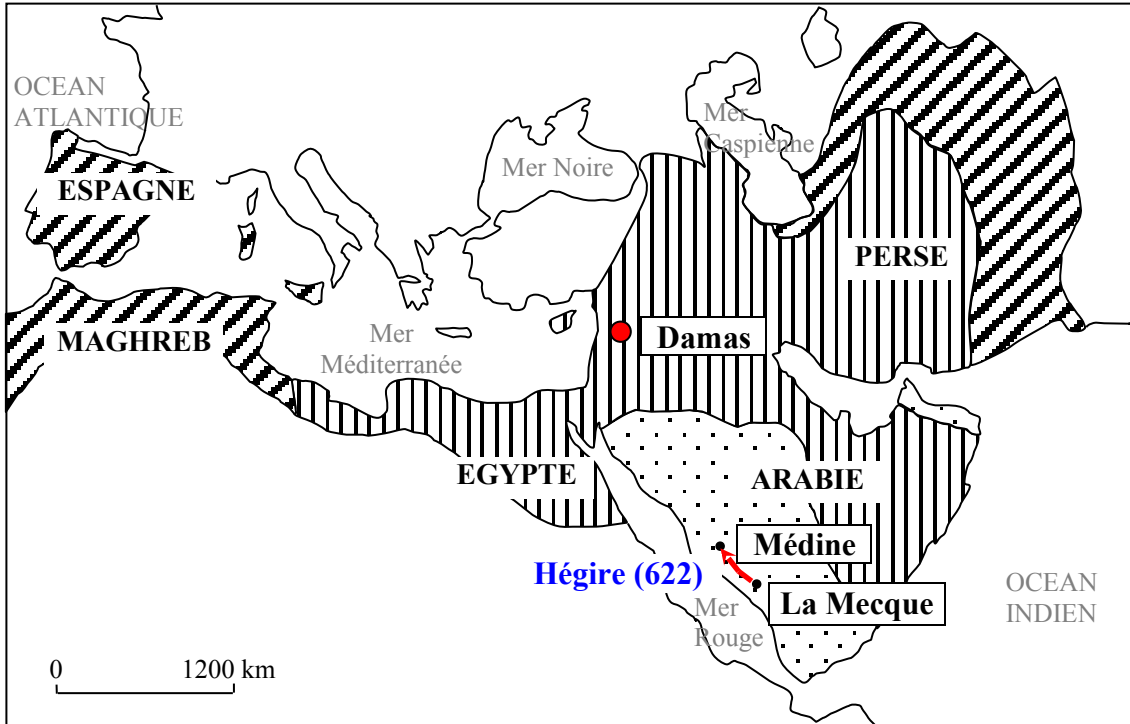
**Exercice n°5 : Décrire la mosquée de Kairouan**

1- Complète le tableau suivant.

Définition	Lettre	Nom
Mur indiquant la direction de La Mecque	D	
Cavité symbolisant la présence de Mahomet	F	
Tour du haut de laquelle le muezzin appelle à la prière	B	
Lieu où les fidèles se réunissent	C	
Chaire d'où l'imam s'exprime	A	
Bassin servant aux fidèles à se purifier	E	
Espace découvert entouré de murs	G	







## Exercice n°1 : Se repérer dans l'espace et dans le temps



Doc.1 : L'extension de l'islam

## Légende

-  Islam à la mort de Mahomet (632)
-  Conquêtes par les premiers califes (632-661)
-  Conquêtes par les Omeyyades (661-750)
-  Omeyyades

1- Complète les carrés de légende. **1,5 pt**


2- Ecris en minuscules noires le nom des deux villes de cette région. **1 pt**

3- Colorie en rouge le point correspondant à la capitale de l'empire sous les Omeyyades (ainsi que dans la légende) et écris son nom en minuscules noires. **0,5 pt**

4- Représente par une flèche rouge la fuite de Mahomet à Médine et écris à côté (à gauche de la flèche) le nom de cet événement et sa date en minuscules bleues. **1 pt**

5- Ecris dans la légende en bleu la date de la mort de Mahomet (deux premiers carrés de légende). **0,5 pt**

## Exercice n°2 : Raconter et expliquer



Doc.2 : La révélation

1- Où et comment Dieu aurait-il transmis son message à Mahomet ? **2 pts**

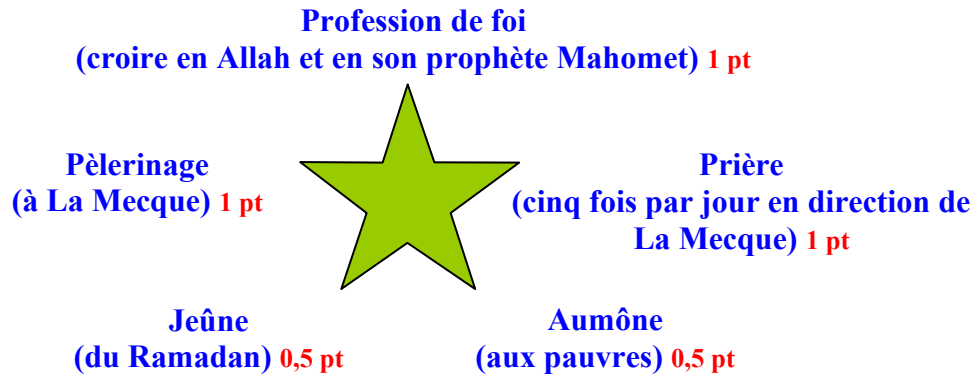
**Dieu aurait envoyé l'ange Gabriel à Mahomet, en méditation sur le mont Hira (près de La Mecque) pour lui transmettre son message.**

2- Complète cette phrase. **2 pts**

Mahomet est le **prophète** (nom d'un homme choisi par Dieu pour transmettre son message) de Dieu, **Allah** (nom de Dieu); il doit transmettre son message, l'**islam** (nom de la religion) ; ceux qui se convertissent à cette nouvelle religion sont les **musulmans** (nom des croyants de cette nouvelle religion).

**Exercice n°3 : Les croyances**

1- Place au bout des branches de cette étoile les cinq piliers de la religion que Dieu aurait révélée à Mahomet. **4 pts**

**Exercice n°4 : Décrire la ville de Bagdad**

Décris la ville de Bagdad :

1- Localise Bagdad et dis quand elle a été fondée. **1 pt**  
**Bagdad a été fondée sur le Tigre, en Irak, (0,5 pt) en 762 (0,5 pt).**

2- Décris le plan et cite les principaux lieux et monuments. **3 pts**

**C'est une ville ronde. (1 pt)**

**Capitale politique de l'empire musulman, elle abrite le palais du calife, les ministères et un quartier des fonctionnaires. (0,5 pt)**

**Très religieuse, elle compte de nombreuses mosquées. (0,5 pt)**

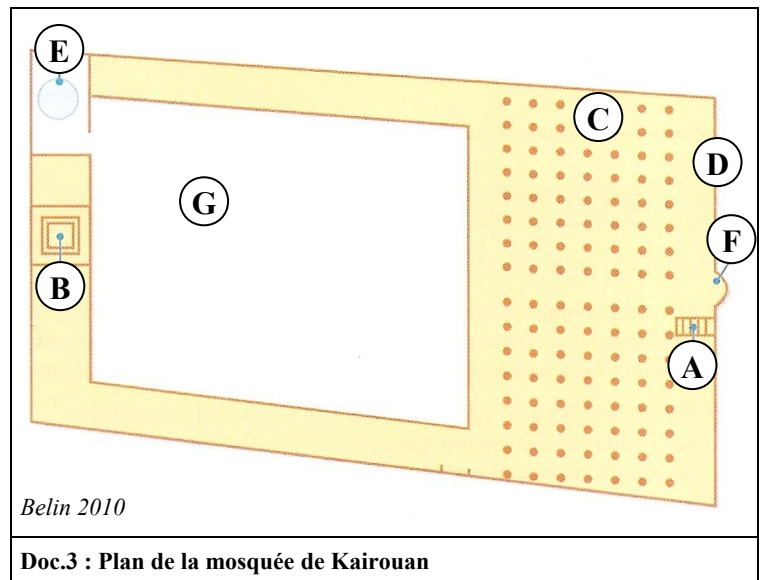
**On y a construit des ports et des souks, ce qui en fait un centre commercial important. (0,5 pt)**

**Sa bibliothèque et ses hammams en font un grand centre culturel. (0,5 pt)**

**Exercice n°5 : Décrire la mosquée de Kairouan**

1- Complète le tableau suivant. **3,5 pts**

Définition	Lettre	Nom
Mur indiquant la direction de La Mecque	D	<b>qibla</b>
Cavité symbolisant la présence de Mahomet	F	<b>mihrab</b>
Tour du haut de laquelle le muezzin appelle à la prière	B	<b>minaret</b>
Lieu où les fidèles se réunissent	C	<b>salle des prières</b>
Chaire d'où l'imam s'exprime	A	<b>minbar</b>
Bassin servant aux fidèles à se purifier	E	<b>fontaine des ablutions</b>
Espace découvert entouré de murs	G	<b>cour</b>



Doc.3 : Plan de la mosquée de Kairouan