

# L'ORIENT ANCIEN

## L'EXEMPLE DE UR

Ur est une puissante  **cité-état**  de  **Mésopotamie**  du  **III<sup>e</sup> millénaire avant J.-C.**

Elle est gouvernée par un  **roi** , qui honore les  **dieux protecteurs de la cité**  dans des bâtiments religieux, notamment une  **ziggourat** .



La ville est entourée de  **remparts**  et est défendue par des  **soldats** . Les habitants de la ville vivent de l' **artisanat**  et du  **commerce** .

Les autres habitants de la cité habitent dans des  **villages**  et vivent de l' **agriculture** .

**Cité-état** : petit état constitué d'une ville et de sa campagne alentour.

**Mésopotamie** : région située entre les fleuves Tigre et Euphrate.

**Ziggourat** : monument religieux monumental composé de plusieurs niveaux.

## PREMIERS ETATS / ECRITURES

L'écriture apparaît à  **Sumer** , dans le sud de la  **Mésopotamie** , vers  **3300 avant J.-C.** Les marchands, les rois et les temples l'utilisent pour  **compter leurs biens**  et les rois pour faire payer l'impôt. Elle est composée de  **dessins**  représentant l'image simplifiée des objets : ce sont les  **pictogrammes**  (1).

Puis l'écriture évolue et devient  **cunéiforme**  (2).


Vers  **3000 avant J.-C.**, les  **Egyptiens**  inventent leur propre écriture, les  **hiéroglyphes**  (3).



Les premiers  **Etats**  apparaissent en  **Mésopotamie** , dans le  **Croissant fertile**  entre 4000 et 3000 avant J.-C.

Voir carte du TD 2.

## Exercice n°1 : Je découvre Ur

Doc.1 : Maquette de la ville de Ur, III<sup>e</sup> millénaire avant J.-C., musée de Jérusalem (Belin, 2000)

1-Identifie les principaux éléments du site de Ur d'après le DV.

A **ziggourat de Nanna**

B **palais de Ur-Nammu**

C **ville**

D **remparts**

E **canal**

F **port**

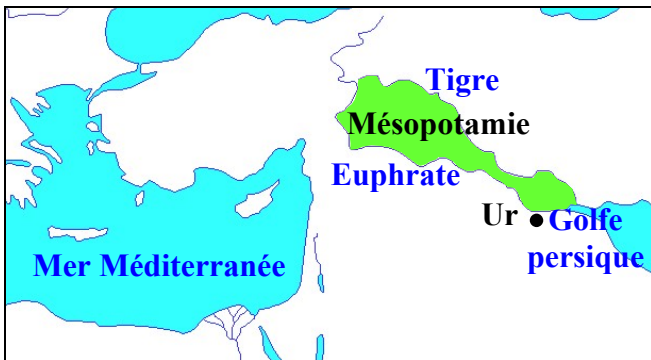
2- Localise Ur sur le doc.2 en t'aidant de ton livre :

a- Place les mers et les fleuves en minuscules bleues.

b- Place la région délimitée par les deux plus grands fleuves en minuscules noires et colorie-la en vert.

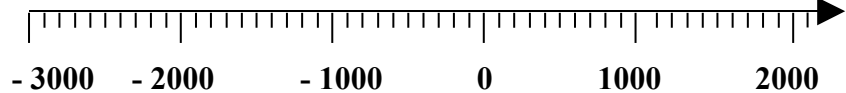
c- Place Ur en minuscules noires.

3- Pour dater Ur, cherche une élément sur le doc.1, date-le sur internet puis place Ur sur le doc.3 en traçant un trait vertical rouge (et complète les titres).



Doc.2 : Carte me permettant de localiser Ur (d'après A. Houot)

Ur (vers 2 100 avant J.-C.)



Doc.3 : Axe chronologique me permettant de dater Ur

Doc.5 : Etendard d'Ur. [www.ciolamuse.org](http://www.ciolamuse.org). C'est un petit coffre de bois de 27 cm de haut et 48 de long, incrusté d'une mosaïque de nacre, de calcaire rouge et de lapis-lazuli. Il est constitué de deux panneaux, que les historiens ont nommés « Guerre » et « Paix ».



## Exercice n°2 : J'étudie Ur

Doc.4 : **Ur-Nammu, le roi d'Ur**, [www.wikipedia.org](http://www.wikipedia.org)

1- Qui gouverne Ur (doc.1 et 4) ? Comment connaît-on son nom ? **Le roi Ur-Nammu (2112-2094 avant J.-C.) est connu grâce aux textes écrits : les Mésopotamiens connaissent l'écriture.**

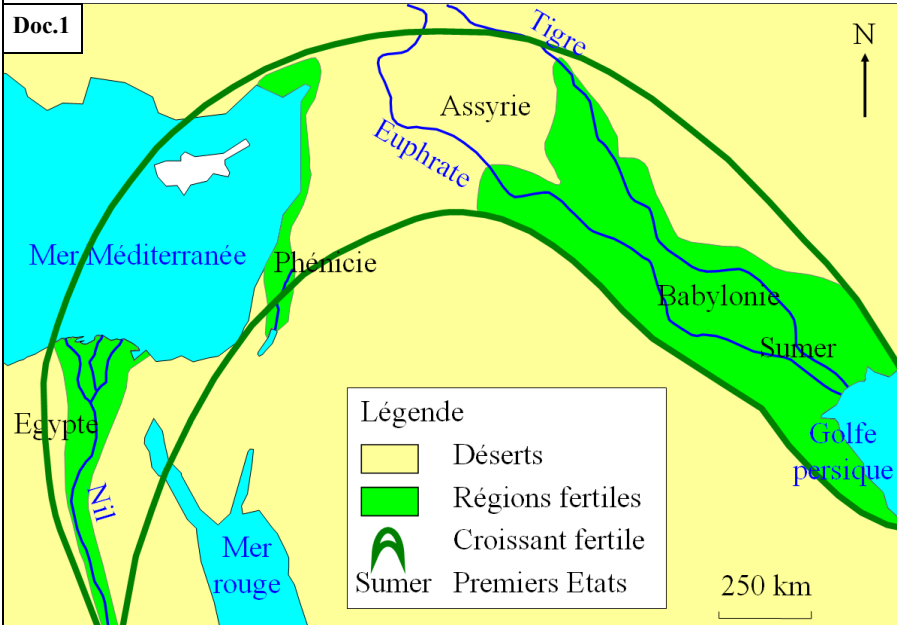
2- Pour qui et pourquoi a-t-on fait édifier les principaux monuments (doc.1 et diaporama) ? **Les dieux protecteurs de la cité (Nanna, dieu de la Lune, et son épouse Ningal) sont honorés dans des bâtiments religieux, notamment la ziggourat, immense bâtiment en terrasses.**

3- Comment les habitants de la ville se défendent-ils (doc.1 et doc.5, « Guerre ») ? **Les habitants de la ville sont défendus par des soldats et les remparts.**

4- De quelles activités vivent-ils (doc.1) ? **Ils vivent de l'artisanat et du commerce (présence des ports et du canal).**

5- Où trouvent-ils leur nourriture (doc.1 et doc.5, « Paix ») ? **La ville est entourée de champs, exploités par des paysans vivant dans des villages.**

## Exercice n°1 : Les premiers Etats

Les premiers Etats, Croissant fertile, III<sup>e</sup> millénaire av. J.-C.

Complète la carte des premiers Etats au III<sup>e</sup> millénaire avant J.-C. (doc.1) en t'aidant de ton livre.

- 1- Colorie les mers et repasse les cours d'eau en bleu.
- 2- Ecris le nom des mers et des cours d'eau en minuscules bleues.
- 3- Colorie les déserts en jaune.
- 4- Colorie les régions fertiles en vert clair.
- 5- Repasse les deux traits qui délimitent les régions fertiles en vert foncé. Comment s'appelle cette vaste région ? **Le Croissant fertile.**
- 6- Place en minuscules noires les premiers Etats.
- 7- Vérifie que ta carte respecte bien la règle TOLE (Titre, Orientation, Légende, Echelle).

8- Observe bien ta carte : où les hommes ont-ils fondé les premiers Etats ? pourquoi ? **Les premiers Etats ont été fondés dans le Croissant fertile, c'est-à-dire une région**

## Exercice n°2 : Les premières écritures


## Doc.2 : Les débuts de l'écriture en Mésopotamie

Ecritures	Pictogrammes		Cunéiforme (en forme de clou)		
	- 3 300	- 2 800	- 2 400	- 1 800	- 700
Dates approximatives					
L'étoile (signe du ciel et du dieu)					
Le poisson					

Doc.3 : L'écriture cunéiforme. Tablette d'argile présentant des salaires.



Doc.4 : Des hiéroglyphes. Ces signes, au nombre de plusieurs milliers, désignent un objet, un son ou une syllabe.



Réponds aux questions sur un cahier de brouillon puis participe à la correction collective. Rédige tes réponses en faisant des phrases sans faute (syntaxe, orthographe, accords, accents, ponctuation). La correction se fait après chaque question.

- 1- Pourquoi invente-t-on l'écriture (DV) ? **On écrit d'abord pour se souvenir de ce que l'on possède.**
- 2- Quelle est le nom de la première écriture ? Quand apparaît-elle ? Où ? (doc.2) **Les pictogrammes apparaissent vers 3 300 av. J.-C. en Mésopotamie (à Sumer).**
- 3- Explique son nom. **Les signes de cette écriture sont des images, qui représentent des objets ou des idées.**
- 4- Comment évolue cette première écriture ? Quel nouveau nom prend-elle ? **Progressivement, les pictogrammes deviennent plus géométriques : c'est l'écriture cunéiforme.**
- 5- Sur quel support écrit-on (doc.3) ? Quelle forme donne-t-on au roseau utilisé pour écrire (d'après le nom de cette nouvelle écriture) ? **On écrit sur des tablettes d'argile molle (qui sèchent ensuite), à l'aide d'un roseau taillé (coin ou clou).**
- 6- Vers 3 000 avant J.-C., les Egyptiens inventent leur propre écriture. Laquelle (doc.4) ? **Les hiéroglyphes.**
- 7- Relis la légende du doc.4 et observe l'extrait vidéo que te montre le professeur et dis pourquoi les premières écritures sont réservées aux scribes. **Seuls les scribes savent écrire car c'est très complexe.**
- 8- Complète la phrase suivante avec les mots naissance, écriture, histoire : L'**histoire** commence avec la **naissance** de l'**écriture**.