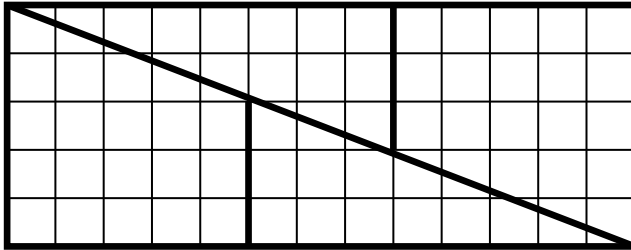



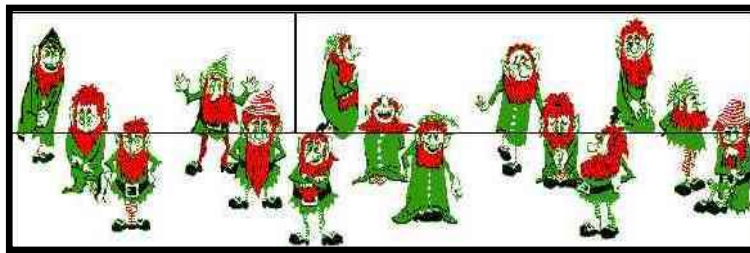
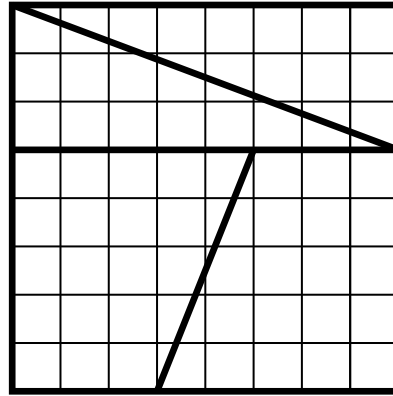
Peut-on faire confiance à ce que l'on voit ?



$$13 \times 5 = 65$$

$$8 \times 8 = 64$$

Or les deux aires sont identiques, donc $64 = 65$



Comptez le nombre de lutins sur la première figure et sur la seconde.
Les dessins sont identiques donc $14 = 15$

Voyez-vous des cercles ou des spirales ?

Voyez-vous des droites parallèles ?

