



## Proportionnalité

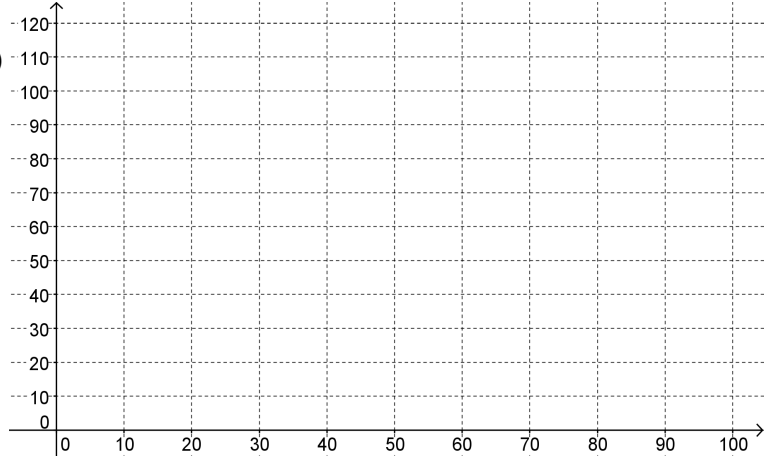
1. 50 mph (miles per hour) correspondent à 80 km/h.

Compléter le tableau de proportionnalité et placer les points correspondants sur le graphique.

Vitesse en mph	50	75	20		
Vitesse en km/h				40	100



Vitesse  
(en km/h)



Vitesse (en mph)

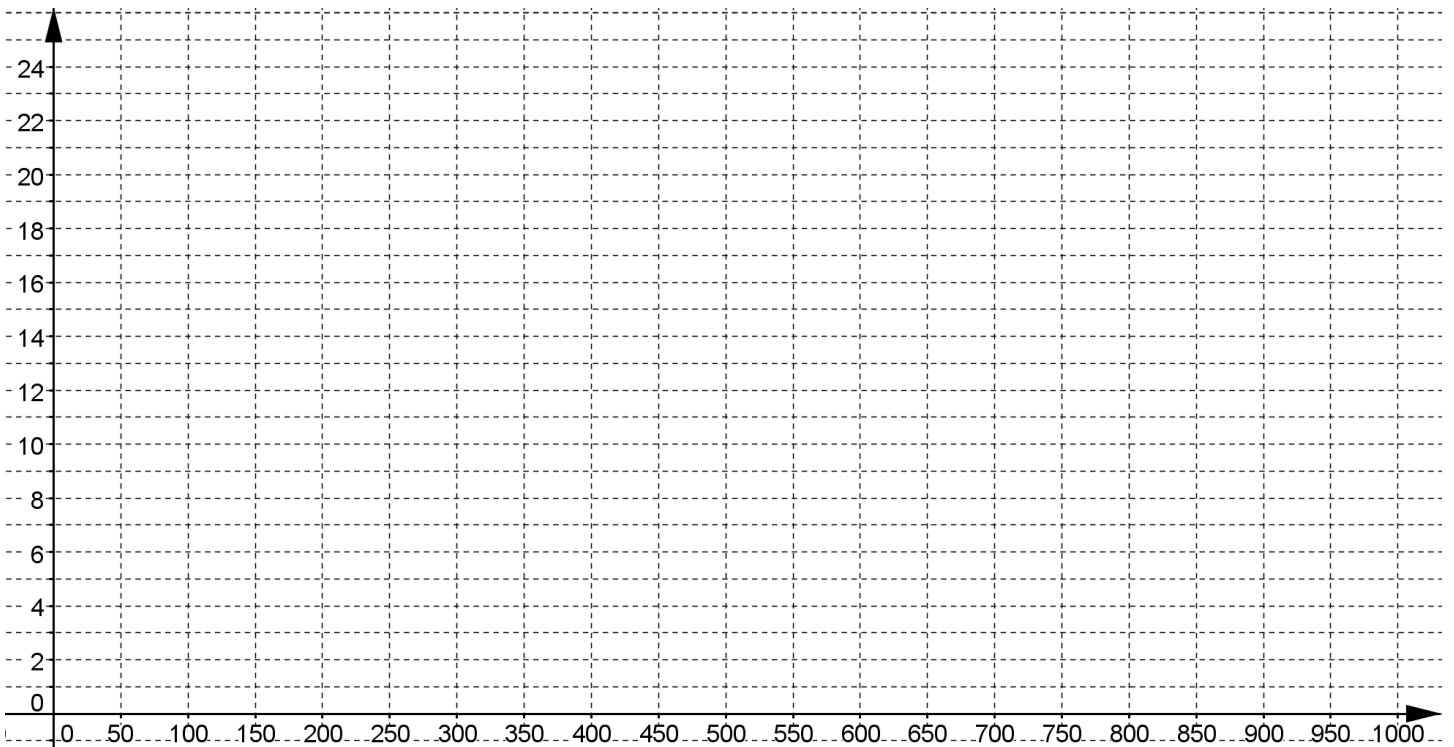
2. Avec 1000 Roupies Mauriciennes on peut obtenir 25 €.

Répondre aux questions ci-dessous en utilisant un tableau de proportionnalité et placer les points correspondants sur le repère (en y ajoutant une légende).

Combien d'euros peut-on obtenir avec 360 Roupies ? .....

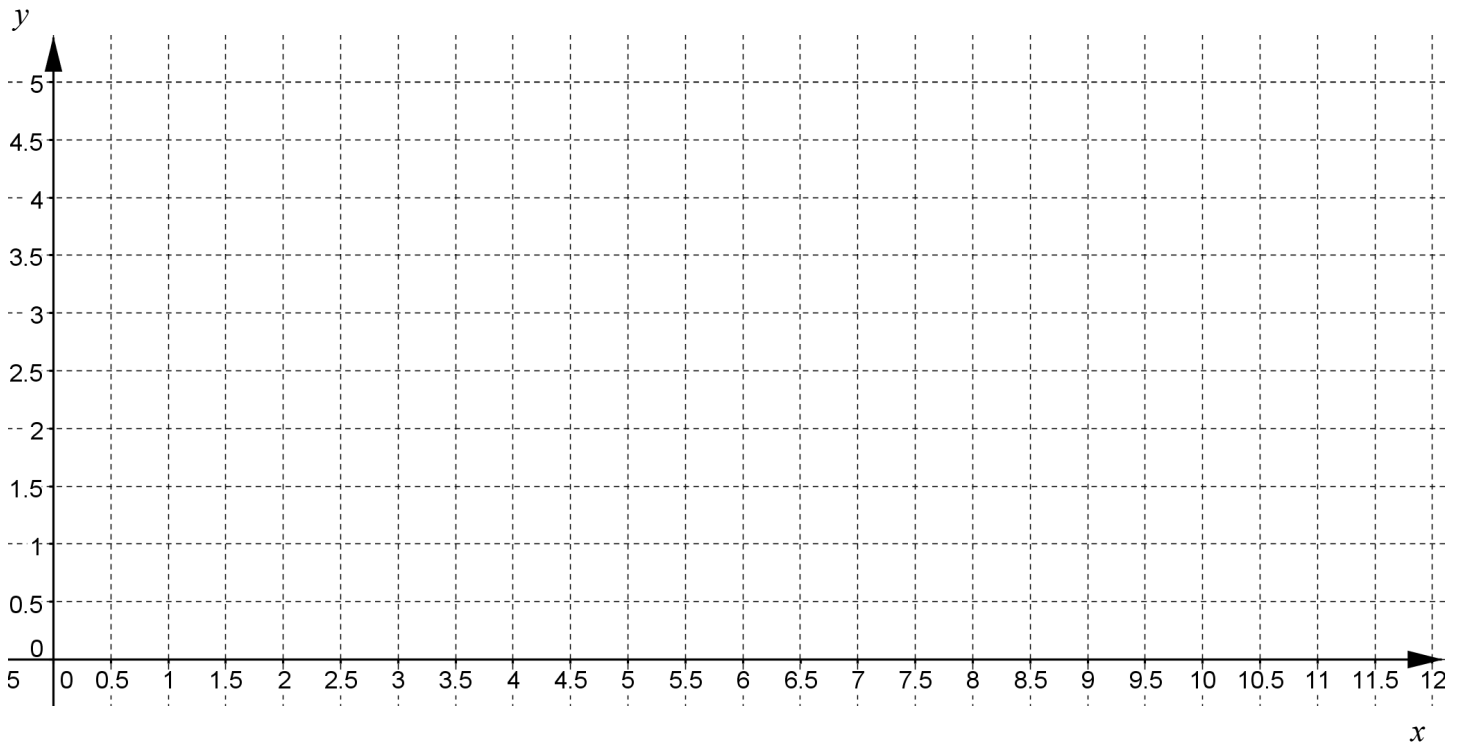
Combien de roupies représentent 17,50 € ? .....

Montant en Roupies			
Montant en Euros			



3. Compléter le tableau de proportionnalité suivant et placer les points correspondants sur le repère.

$x$	7	5		10,5	
$y$	3		4		1,8



4. Compléter les tableaux de proportionnalité suivants :

21	33
49	

7	5	
1		4

11	5		$\frac{2}{3}$	
13		4		$\frac{3}{4}$

5	$\frac{5}{6}$	
6		$\frac{6}{5}$

8		0,32
25	3,125	