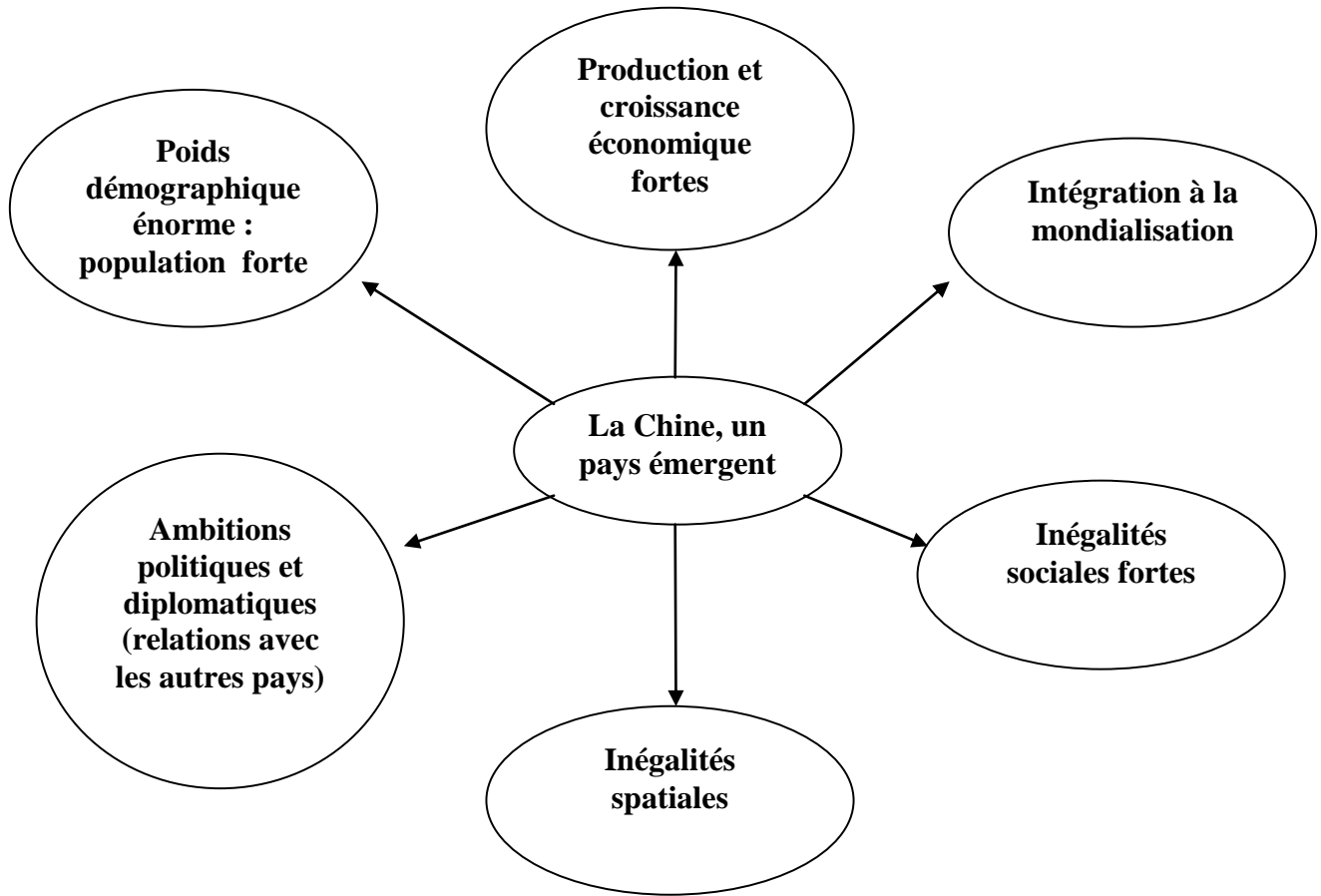


66 LES PUISSANCES ÉMERGENTES : RÉSUMÉS, SCHÉMAS ET CROQUIS ET FICHE DE RÉVISIONS








SYNTHÈSE TEMPORAIRE : CARACTÉRISTIQUES D'UN PAYS ÉMERGENT







CROQUIS DE L'ORGANISATION DU TERRITOIRE CHINOIS

LÉGENDE :



I. LES ESPACES DYNAMIQUES INTÉGRÉS À LA MONDIALISATION

-  La Chine littorale, très fortes densités, très industrialisée et ouverte sur le monde
-  Grands ports / ZIP
-  Façade maritime
-  Grandes métropoles
-  Métropoles mondiales

II. LES ESPACES À L'ÉCART DE LA MONDIALISATION

-  La Chine de l'Ouest, isolée mais réservoir de matières premières
-  La Chine de l'intérieure, rurale mais de plus en plus ouverte sur le monde
-  Axe majeur de développement
-  Exode rural
- Grandes métropoles

III. LES DYNAMIQUES LIÉES À LA MONDIALISATION

-  IDE / Investissements étrangers
-  Echanges commerciaux avec le monde

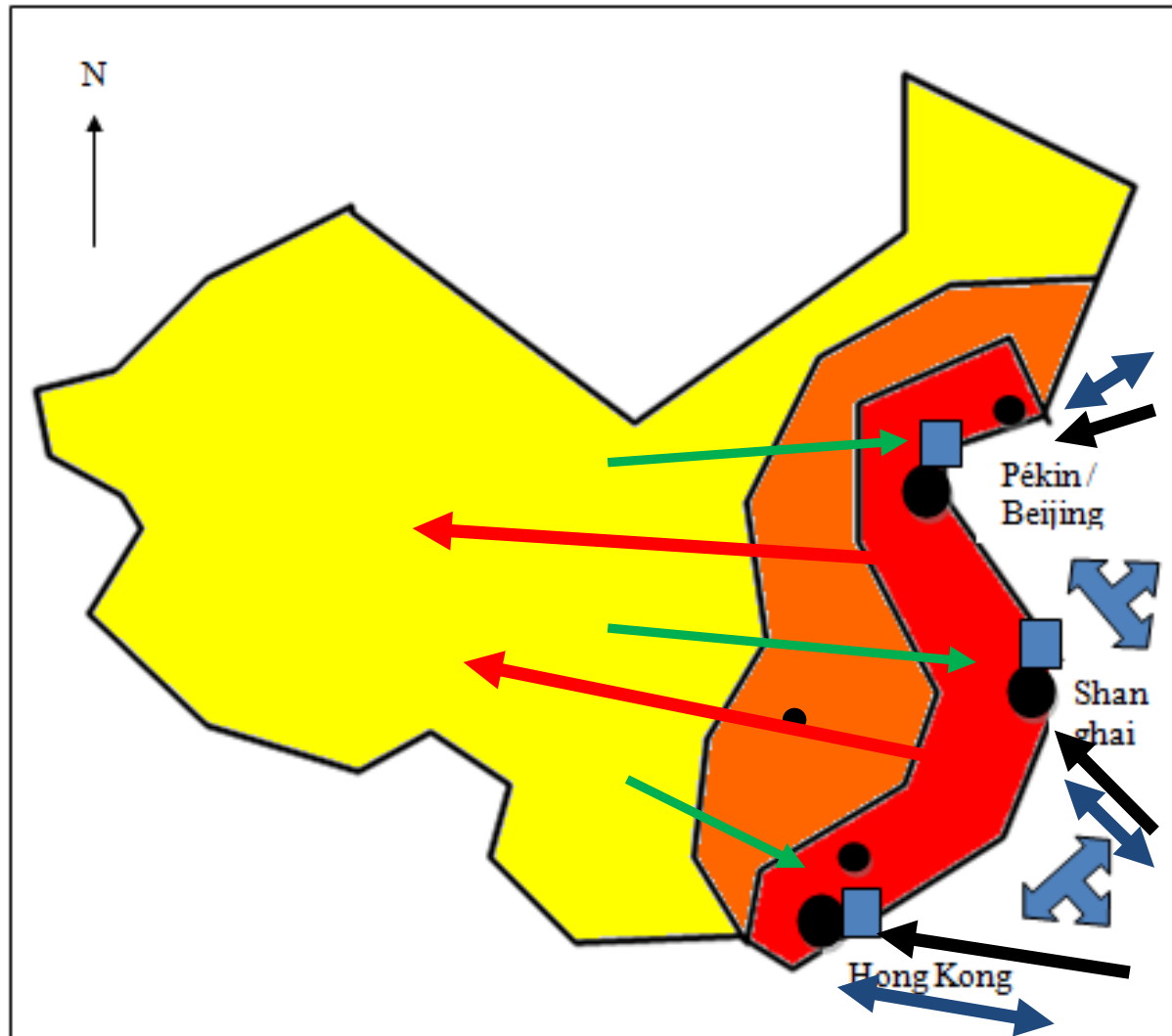
CROQUIS : L'ORGANISATION DU TERRITOIRE CHINOIS

CONCLUSION SUR L'ORGANISATION DU TERRITOIRE CHINOIS

Le territoire chinois est beaucoup plus dynamique sur le littoral. Cet espace comporte les plus grandes métropoles du pays et les plus grandes ZIP. C'est aussi la région la plus peuplée.

Les espaces sont de plus en plus en difficultés et de moins en moins intégrée à la mondialisation lorsque l'on s'avance à l'intérieur des terres.

Cependant, des tentatives de développement de ces espaces sont réalisées par le gouvernement chinois.



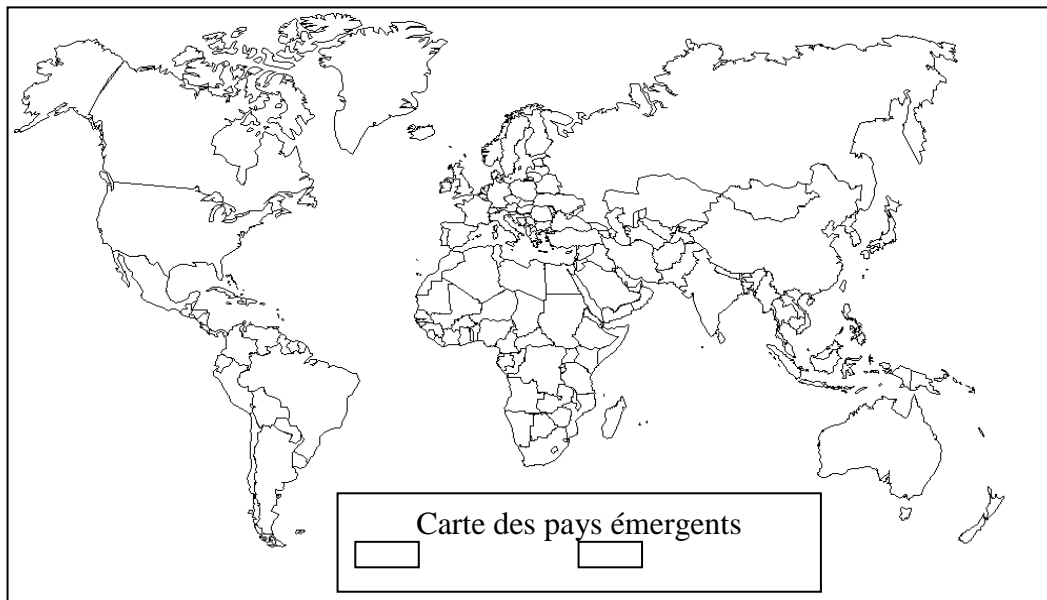
66 LES PAYS ÉMERGENTS : FICHE DE RÉVISIONS



I. SUIS- JE CAPABLE DE RESTITUER DES CONNAISSANCES ?

1. Qu'est-ce qu'un pays émergent ?
2. Qu'est-ce que le développement ?
3. Qu'est-ce que la croissance économique ?
4. Quelles sont les caractéristiques d'un pays émergent ?

| | CROISSANCE ECONOMIQUE | CROISSANCE COMMERCIALE | INTÉGRATION À LA MONDIALISATION |
|---|-----------------------|------------------------|---------------------------------|
| UNE FORTE CROISSANCE (RÉSUMÉ A) | | | |
| | AMBITIONS | | CULTURE |
| DES AMBITIONS POLITIQUES ET DIPLOMATIQUES (RELATIONS INTERNATIONALES) (RÉSUMÉ A) | | | |
| | CONDITIONS DE VIE | INÉGALITÉS SOCIALES | INÉGALITÉS SPATIALES |
| UN DÉVELOPPEMENT RAPIDE MAIS DES INÉGALITÉS (RÉSUMÉ B) | | | |
| DÉFINITION D'UN PAYS ÉMERGENT | | | |



II. SUIS- JE CAPABLE DE PRÉLEVER DES INFORMATIONS

Durant l'évaluation, il faudra faire une étude de cas, comme celles que nous avons fait en cours. Il faudra donc être capable d'étudier des photos, des cartes, des statistiques et des textes... L'étude de cas ne sera pas sur la Chine mais sur un autre pays émergent.

Il faudra aussi faire des phrases correctes qui reprennent la question.





III. SUIS- JE CAPABLE DE M'EXPRIMER EN LANGAGE GRAPHIQUE ?

Je dois être capable de réaliser le croquis de l'organisation du territoire d'un pays émergent. Ce ne sera bien sur pas la Chine. Revois bien la méthode et la fiche méthode et le barème.

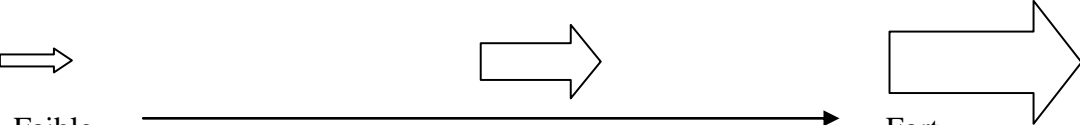
C7_RÉALISER UN CROQUIS : LA FICHE MÉTHODE

1. CHOISIR DES FIGURÉS

Toutes les informations représentées sur un croquis doivent être traduites par les figurés du langage cartographiques.

| Figurés | Pour représenter | Autres figurés possibles |
|--|---|--------------------------|
|  Figurés de surfaces | Des régions, des espaces | |
|  Figurés Ponctuels | Des agglomérations, des ports | |
|  Des traits | Des limites, des axes | |
|  Des flèches | Des axes de communication, des flux, des ouvertures vers l'extérieur | |

Pour montrer des hiérarchies entre les phénomènes cartographiés, tu dois faire varier les figurés ainsi.

| LA COULEUR (en respectant l'ordre de l'arc-en-ciel) | | | | | | | | | | |
|---|--------|--------|-------|---|-------|--------|-------|------|------|------|
| <p>Les densités de population / les contrastes spatiaux</p> <table border="1" style="width: 100%; text-align: center;"> <tr> <td>jaune</td> <td>orange</td> <td>rouge</td> </tr> </table> <p>Faible → fort</p> | jaune | orange | rouge | <p>Les couleurs chaudes : Les espaces dynamiques (positif)</p> <table border="1" style="width: 100%; text-align: center;"> <tr> <td>rouge</td> <td>orange</td> <td>jaune</td> <td>rose</td> </tr> </table> <p>Les couleurs froides : les espaces en difficultés (négatif)</p> <table border="1" style="width: 100%; text-align: center;"> <tr> <td>bleu</td> <td>vert</td> </tr> </table> | rouge | orange | jaune | rose | bleu | vert |
| jaune | orange | rouge | | | | | | | | |
| rouge | orange | jaune | rose | | | | | | | |
| bleu | vert | | | | | | | | | |
| LA TAILLE | | | | | | | | | | |
|  <p>Faible → Fort</p> | | | | | | | | | | |

La nomenclature doit fournir des repères (Régions, océans, Etats...). L'écriture doit être horizontale (sauf pour les fleuves) et la taille des noms identique pour un même type d'informations.

| Océans, mers (en bleu) | Etats (en rouge) | Régions (en noir) | Fleuves (en bleu) |
|------------------------|---------------------------------------|-------------------|-------------------|
| PACIFIQUE | RUSSIE MONGOLIE INDE VIETNAM | Tibet Xinjiang | Yangzi Huanghe |

EVALUATION DU CROQUIS

| Mise en page et Fond de carte (/3) | | |
|--|-----|--|
| - Il y a un titre | 0,5 | |
| - L'orientation (direction du nord) est indiquée par une flèche dans un coin de la carte | 0,5 | |
| - Le tracé qui délimite les régions est simplifié | 1 | |
| - nomenclature : le nom des villes, des océans, des régions ... sont écrits sur la carte | 1 | |
| Elaboration de la légende (/11) | | |
| - Les informations dans la légende sont correctes | 6 | |
| - le choix du titre est pertinent (en rapport avec ce qui est représenté sur la carte) | 1 | |
| - Utilisation d'un vocabulaire géographique précis | 1 | |
| - Le choix du codage est pertinent | 3 | |
| Réalisation de la carte (/6) | | |
| - La carte est soignée (exemple : pas de tracé au crayon à papier, pas de ratures ...) | 2 | |
| - Le codage représenté sur la carte est identique à celui de la légende | 1 | |
| - la localisation des lieux nommés est exacte | 1,5 | |
| - Les régions sont correctement délimitées | 1,5 | |