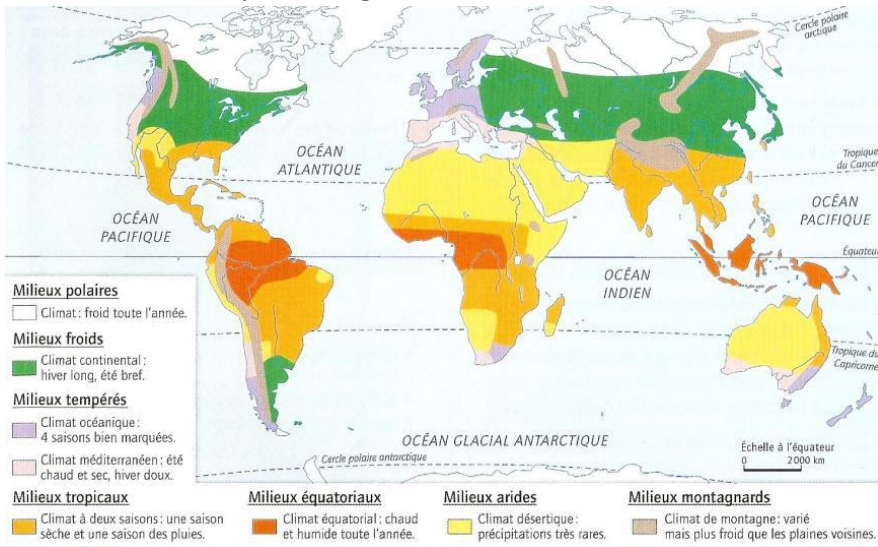


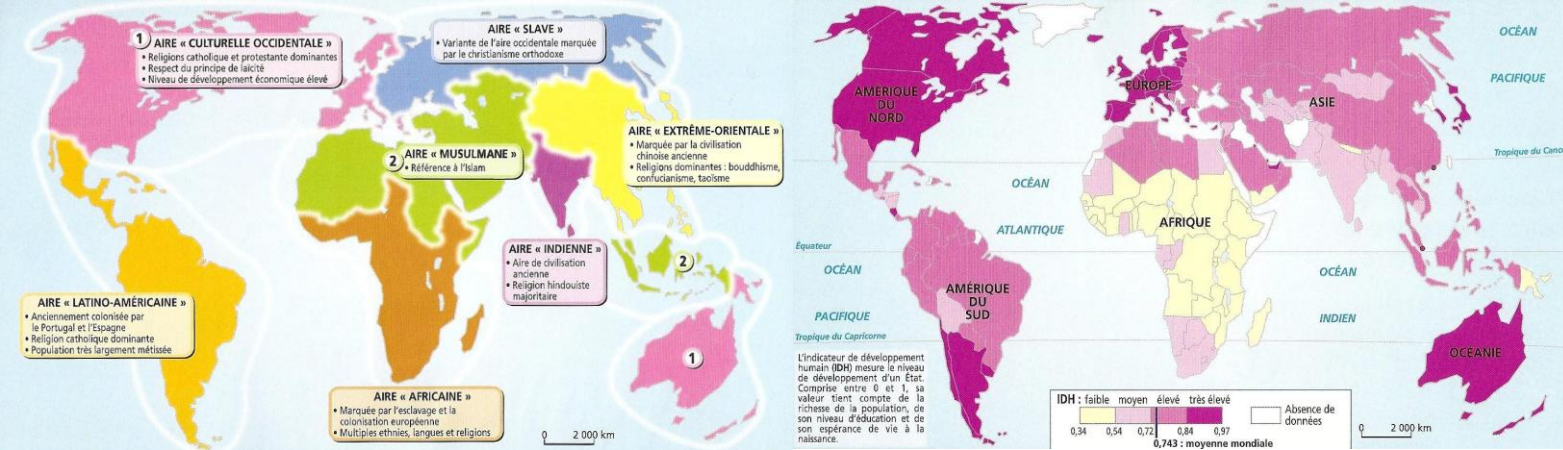
Habiter la ville

I) Bombay, une mégapole du sud



a. Localiser la ville

- 1) A partir de la carte P.213-213, localise la ville de Bombay (hémisphère, continent, pays...)
- 2) A quel climat appartient Bombay ?
- 3) Au bord de quel océan est située Bombay ?
- 4) A quelle aire culturelle appartient Bombay ? Explique.
- 5) Quel est le niveau de développement de Bombay ?



b. Quelles sont les caractéristiques de Bombay ?

Doc.1



Doc.3

Doc.2



Doc.4

1) Complete le tableau ci-dessous avec les mots suivants : immeuble moderne, bidonville, centre des affaires (CBD), espace de loisirs, population pauvre, population aisée.

	Bandra (doc.1)	Millénium project (doc.2)	Nariman point (doc.3)	Dharavi (doc.4)
Constructions				
Population				

Comme un cobra, Bombay ondule le long de la mer. Toujours en mouvement, la foule s'accroche aux trains ou s'entasse dans des taxis. Pour le visiteur débarqué de l'aéroport, le quartier général des grands hôtels offre le premier contact avec la ville et sa mer. A quelques encablures, pas de grattes ciels en vue mais, partout, de gigantesques campements de carton mou sans eau, électricité, ni égouts. Une population misérable y survit, trop pauvre pour se loger « en dur ». Contraste absolu avec les beaux quartiers que sillonnent des limousines aux vitres teintées.

E. Morère, « Mumbai : le monde des possibles », Les Echo n°47 du 13 octobre 2006.



- 2) Quelles populations rencontre-t-on à Bombay ?
- 3) Qu'est-ce qu'un bidonville ? Décris ses caractéristiques.
- 4) Réalise le croquis de paysage du document ci-dessus.

Légende :

- Bidonville
- Quartier des affaires
- Bord de mer

Titre :

5) Dans un court texte, présente la ville de Bombay, décris-la ainsi que ses différents quartiers, puis présente les différences de richesse au sein de la population.

c. Les transformations de l'espace urbain

Neil Pereira ne reconnaît plus son quartier. En moins de deux ans, son petit pavillon a sombré dans l'obscurité, cerné par des immeubles de 7 étages. Ponts, lignes de métro, centres commerciaux, gratte-ciels en construction, la capitale économique de l'Inde a l'air d'un vaste chantier à ciel ouvert. De grands centres commerciaux ultramodernes s'élèvent à la place des vieilles usines. Les bidonvilles où logeaient les ouvriers sont en réhabilitation et déjà les cols blancs remplacent les cols bleus.

A.-G. Rico, A l'autre bout du monde, Bombay s'enflamme. Site le figaro, 30 mai 2008

- 1) A partir de l'extrait vidéo et du texte, explique quelles sont les transformations de la ville ?
- 2) Cela favorise-t-il tous les habitants ?

II) New-York, une mégapole du nord

a. Localiser la ville

- 1) A partir de la carte P.213-213, localise la ville de New-York (hémisphère, continent, pays...)
- 2) A quel climat appartient New-York ?
- 3) Au bord de quel océan est située New-York ?
- 4) A quelle aire culturelle appartient New-York ? Explique.
- 5) Quel est le niveau de développement de New-York ?

b. Quelles sont les caractéristiques de New-York ?



Doc.1

1) Complete le tableau ci-dessous avec les mots suivants : immeuble moderne, ghetto, centre des affaires (CBD), quartier rénové, banlieue résidentielle chic, population pauvre, population aisée.

Doc.4



Doc.3



Doc.2


	Manhattan (doc.1)	New Jersey (doc.2)	Harlem (doc.3)	Bronx (doc.4)
Construction				
Population				

Les établissements financiers, les assurances et les grandes compagnies internationales occupent les gratte-ciels de Manhattan. Ils font de New-York un centre majeur des décisions mondiales. C'est aussi un grand lieu touristiques avec 43 millions de visiteurs chaque année.

Pourtant, New-York compte aussi des habitants très défavorisés. Un New-yorkais sur cinq appartient à la catégorie des pauvres, constituées principalement d'hispaniques, de noirs, d'enfants et de mères célibataires vivant le plus souvent dans des ghettos. Mais des projets de réhabilitation existent, comme dans le Bronx.

D'après le revue d'urbanisme, septembre octobre 2006.

- 2) Quels populations rencontre-t-on à New-York ?
- 3) Qu'est-ce qu'un CBD ? Décris ses caractéristiques.
- 4) Réalise le croquis de paysage du document ci-dessus.



- Légende :
- Quartier des affaires (CBD)
 - Banlieue pavillonnaire
 - Habitat collectif (ghetto)
 - Voies de communication
 - Mer

c. Les transformations de l'espace urbain



Dans les années 70, les populations blanches aisées ont quitté les quartiers de Queens ou du Bronx, devenus des ghettos, pour les banlieues. Mais vivre jusqu'à 150km de son lieu de travail oblige à des temps de transport particulièrement longs. Les New-Yorkais ont de plus en plus tendance à vouloir vivre à proximité de leur travail. C'est en banlieue que se développent les nouveaux centres des affaires, les centres de loisir, les logements, les centres commerciaux.

D'après Hérodote, n°122, 2006

- 1) Explique quelles sont aujourd'hui les évolutions du paysage urbain new-yorkais.
- 2) Quels aménagements sont nécessaires pour permettre ces changements ?
- 3) Voici la définition de la périurbanisation, selon toi cela s'applique-t-il à la banlieue new-yorkaise : « extension des banlieues sur la campagne environnante ». Justifie ta réponse.

III) Habiter la ville dans le monde

a. Points communs

De fortes densités de population :

-
-

La ville c'est :

Des paysages variés :

-
-

Des activités variées :

-
-

Des aménagements :

-
-

Des niveaux de vie différents :

-
-

b. Eléments de différenciation

	New-York	Bombay
Population		
Niveau de développement		
Culture		
Composition ethnique		
Place dans le monde		

