



GÉOGRAPHIE - Thème n°3

La France et l'U.E.

Chapitre 1

L'U.E., un nouveau territoire de référence et d'appartenance

Exercice préparatoire

Placez sur le fond de carte :

- les pays membres de l'UE en 2020 (*coloriez en gris les États ne faisant pas partie de l'U.E.*).
- les mers et océan (*coloriez-les en bleu*)
- utilisez si besoin une légende*





Irlande

Irlande

Océan
Atlantique

Portugal

Espagne

Mer
Du
Nord

Pays-Bas

Belgique

Lux.

France

Mer

Suède

Danemark

Pays-Bas

Allemagne

Italie

Malte

Finlande

Mer

Baltique

Pologne

Rép. Tchèque

Hongrie

Autriche

Slovénie

Croatie

Hongrie

Méditerranée

Estonie

Lettonie

Lituanie

Pologne

Rép. Tchèque

Slovaquie

Autriche

Hongrie

Slovénie

Croatie

Roumanie

Bulgarie

Grèce

Mer Noire

Chypre

0 500 km

Réalisation: F. Souza

Accroche : un parcours européen

LE PARCOURS D'UNE EUROPÉENNE

Dany est née au Luxembourg en 1974, elle parle donc le luxembourgeois, une langue proche de l'allemand. Elle y grandit et après son diplôme de fin d'études du lycée, elle doit quitter son pays parce qu'il n'y a pas d'université. Elle décide de suivre des études à l'université libre de Bruxelles, en Belgique. Elle y étudie la photographie et la communication de 1995 à 2001. Elle travaille ensuite deux ans au Luxembourg dans le Marketing. Lors de vacances en France, elle rencontre Michel qui est un professeur de mécanique français, et elle en tombe amoureuse. Mais Michel a demandé sa mutation dans une Collectivité d'Outre Mer française de l'océan pacifique : la Nouvelle-Calédonie. Dany décide de le suivre. Mais au bout de 6 mois là-bas, elle apprend qu'elle a besoin d'un visa pour habiter sur place car la Nouvelle-Calédonie ne fait pas partie de l'Union européenne, même si elle est française, elle n'est donc pas dans l'espace Schengen, c'est-à-dire dans l'espace qui regroupe les pays d'Europe où l'on peut circuler librement. Avec Michel, ils se marient, ce qui permet à Dany de rester 4 ans en Nouvelle-Calédonie avec une autorisation temporaire de résidence. Elle suit ensuite Michel qui part enseigner dans une région française d'Outre-mer qui se situe sur le continent américain. Ils arrivent ensemble, en 2006, en Guyane où ils ont un enfant. Cette fois-ci le passeport européen de Dany lui permet de vivre en Guyane sans autorisation. Elle peut même y travailler et passer le concours pour devenir professeur d'allemand. Ensuite elle travaille dans plusieurs collèges et lycées de Cayenne et Kourou.

Depuis ce jour, Dany, Michel et leur fils ont décidé de rester en Guyane, mais ils voyagent souvent dans d'autres pays avec leur passeport européen.

Témoignage de Dany Muller, enseignante en Guyane.

Le passeport
de Michel



Le passeport
de Dany

QUESTIONS

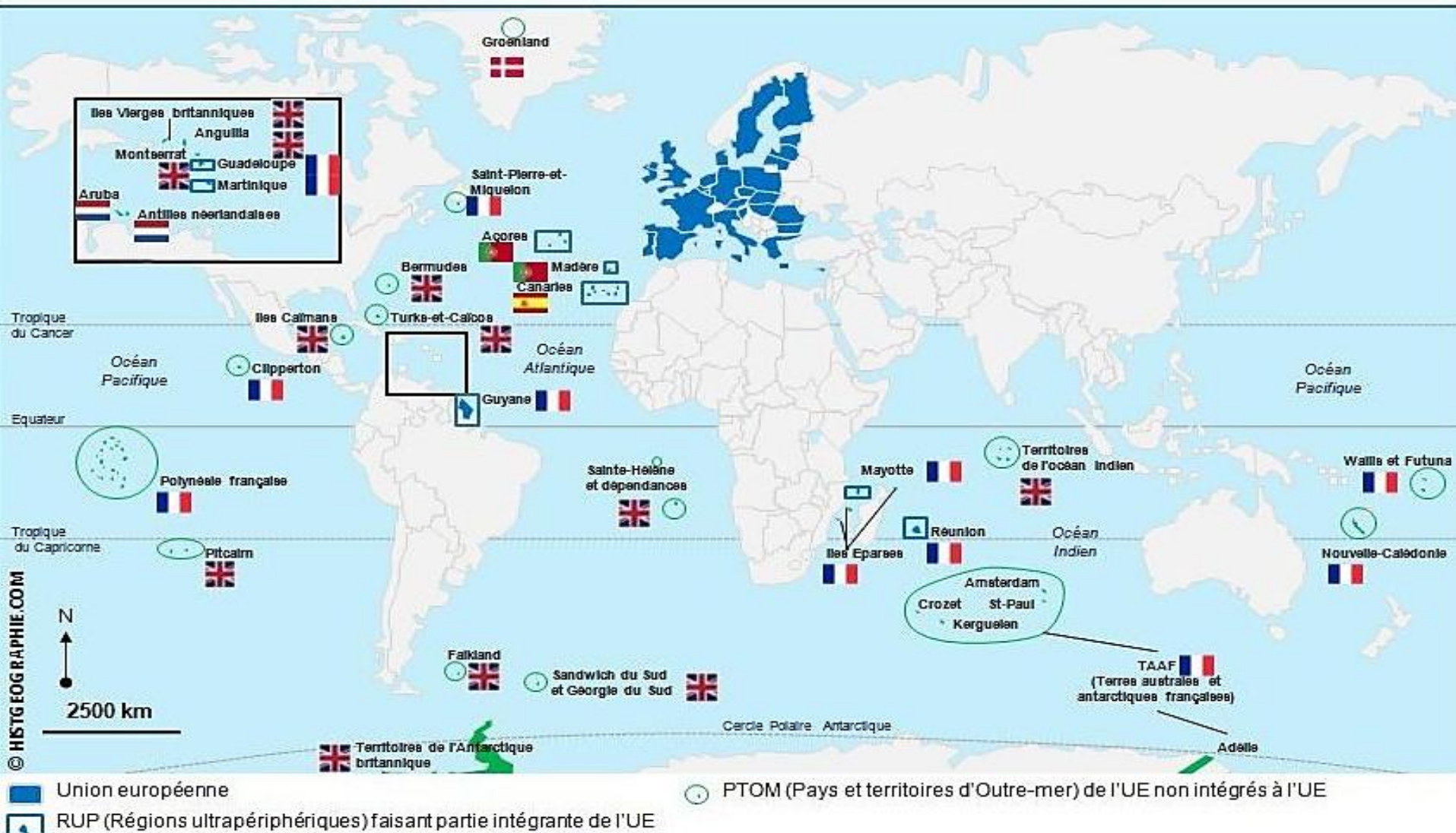
- Pourquoi peut-on dire que Dany est une Européenne?

De part sa nationalité, son mariage avec Michel et ses différents lieux de résidence et de travail, Dany représente l'unité européenne.

- Pourquoi peut-on dire que l'Union européenne est à la fois un territoire unique et une multitude de territoires?

L'U.E., comme son nom l'indique, tente à former un territoire uni et unique (par sa citoyenneté, sa monnaie, ...) mais chaque pays garde sa souveraineté et son identité nationale.

Les territoires ultramarins européens





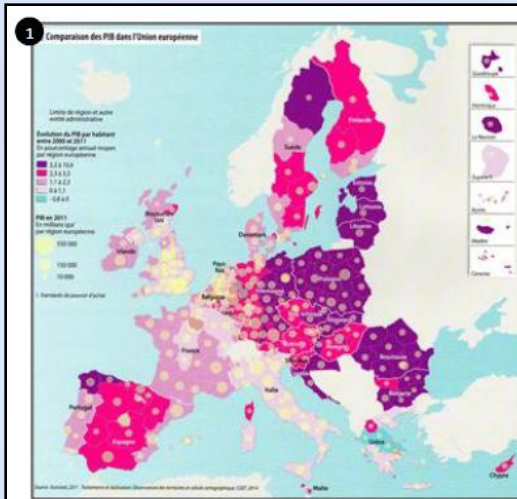
- L'Union européenne est aujourd'hui composée de 27 États et de plus de 500 millions d'habitants. C'est un espace de paix et de stabilité.
- C'est un ensemble développé, mais avec des différences entre ses territoires.

**Quelles sont les particularités de l'Union européenne?
Comment vit-on à l'intérieur de ce territoire?**

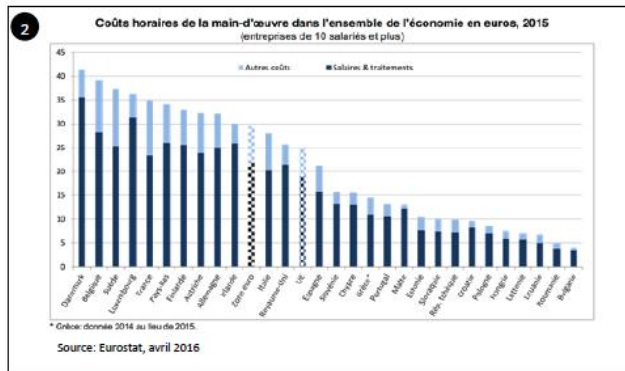
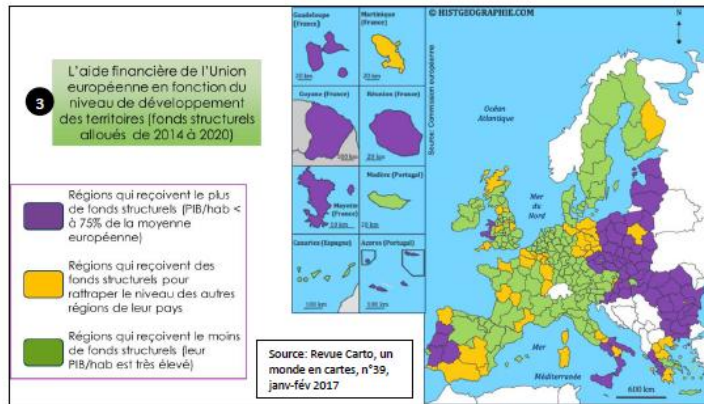


- I -

L'U.E., un ensemble de territoires très différents
qui sont connectés et qui s'entraident



L'Union européenne, une union de territoires très inégaux



Consignes :

1. Présentez le document 2.
2. A partir de l'analyse du document 2, coloriez d'une couleur sur la carte du cahier, les pays qui ont un salaire horaire inférieur à la moyenne de l'UE et d'une autre couleur, ceux qui ont un salaire horaire supérieur à la moyenne de l'UE.
3. D'après les documents 1, 2 et 3, où se trouvent les régions les plus riches de l'Union européenne ? Où sont celles en plus grande difficulté ?
4. Citez l'espace de l'Union européenne où les PIB sont les plus forts.
5. D'après le document 1, quelles sont les régions qui ont la plus forte croissance économique ?
6. En croisant les informations des documents 1 et 3, quel lien peut-on faire entre développement et appartenance à l'Union européenne ?
7. Pourquoi l'Union européenne aide-t-elle les régions et pas directement les pays ?

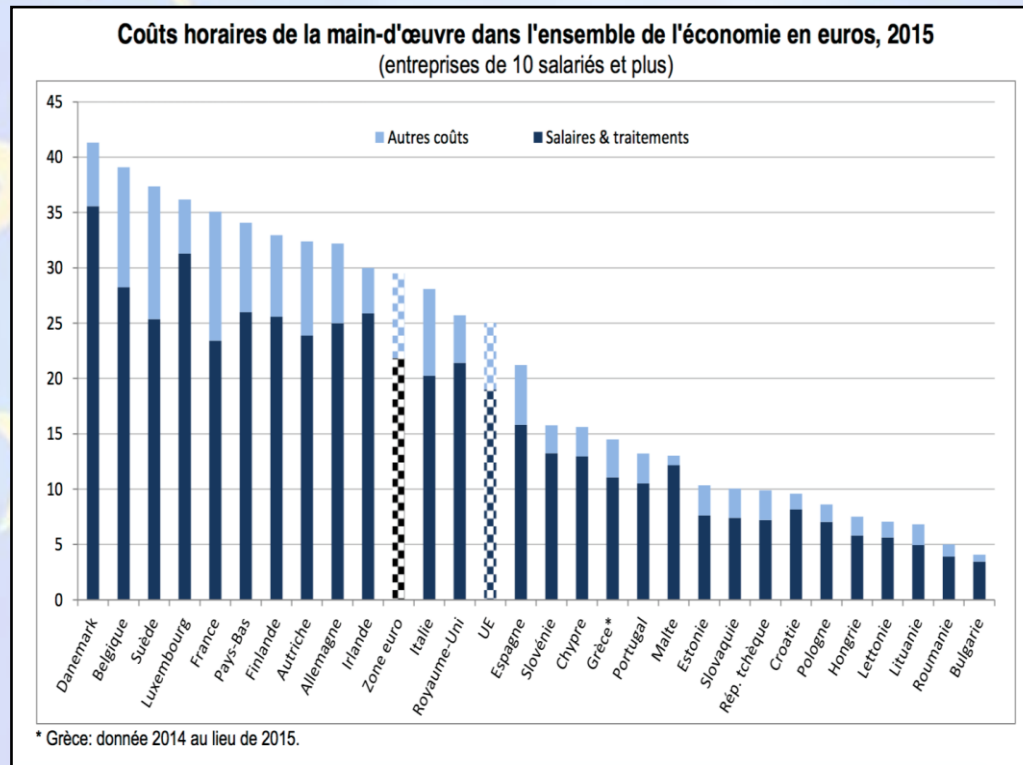
Répondre aux questions de la fiche exercice n°1

L'UE, une union de territoires inégaux



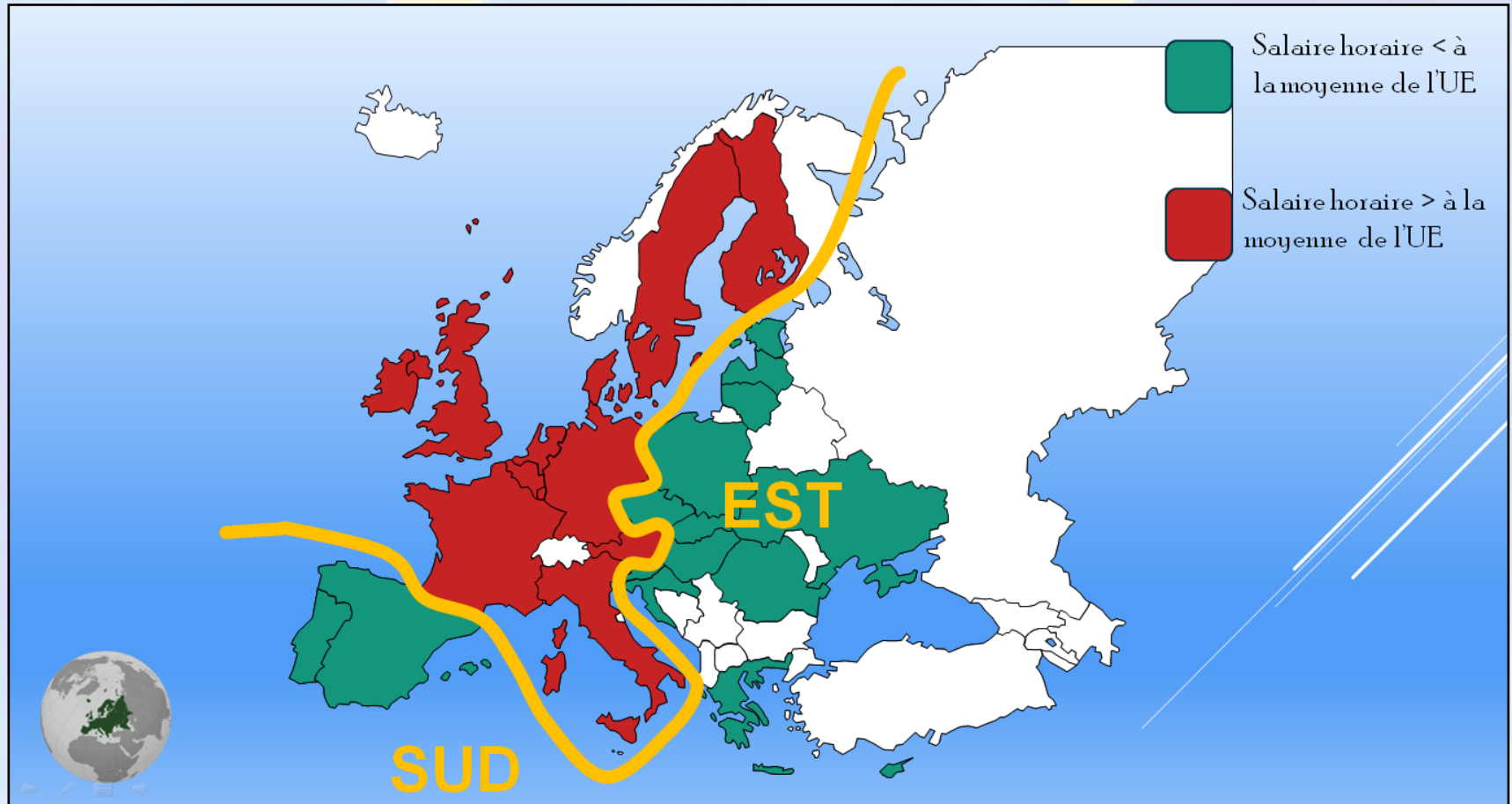
1. Présentez le document 2.

Le document n°2 est un graphique en barres des coûts horaires de la main d'œuvre (des entreprises de 10 salariés et plus) dans l'ensemble des pays (en Euros, en 2015).





2. A partir de l'analyse du document 2, dites où se situent les pays qui ont un salaire horaire inférieur à la moyenne de l'UE et ceux qui ont un salaire horaire supérieur à la moyenne de l'UE.



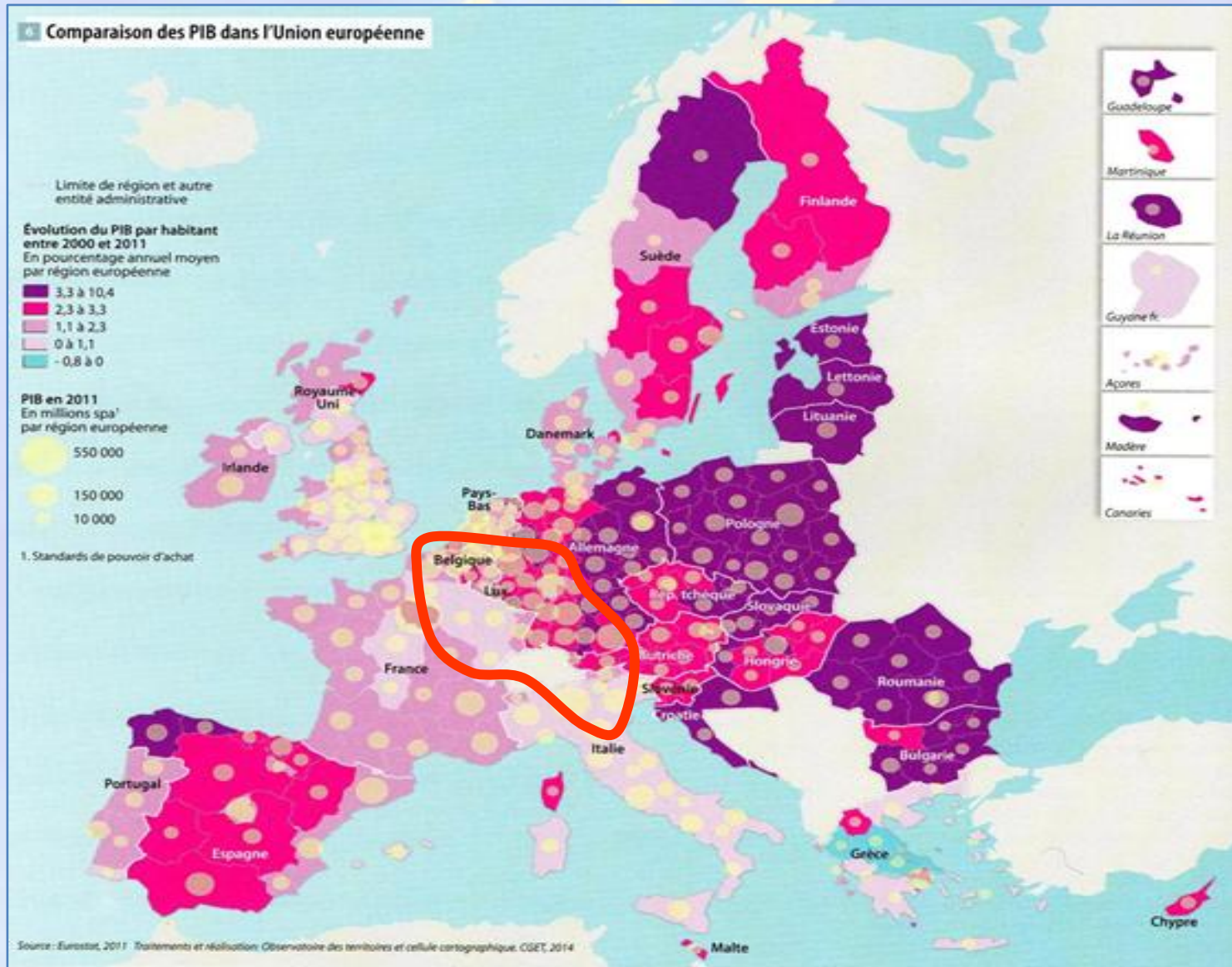


3. D'après les documents 1, 2 et 3, où se trouvent les régions les plus riches de l'Union européenne ? Où sont celles en plus grande difficulté ?

Les régions les plus riches de l'Union Européenne se situent essentiellement au centre-ouest de l'Europe (« cœur de l'Europe ») alors que les régions les plus en difficulté se trouvent essentiellement à l'Est et au Sud.

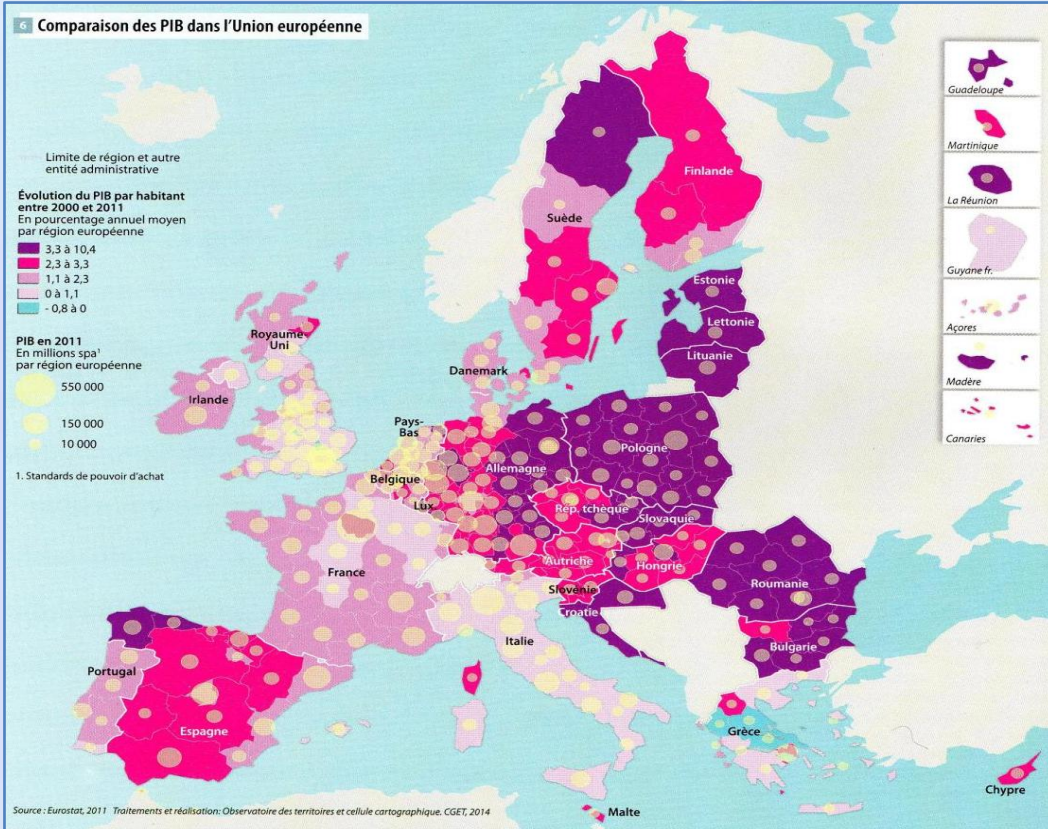


4. Citez l'espace de l'Union européenne où les PIB sont les plus forts.





5. D'après le document 1, quelles sont les régions qui ont la plus forte croissance économique ?



Ce sont les régions de l'Est de l'Europe qui connaissent la plus forte croissance économique.



6. En croisant les informations des documents 1 et 3, quel lien peut-on faire entre développement et appartenance à l'Union européenne ?

Les régions les plus en difficulté reçoivent le plus d'aides de la part de l'U.E. ce qui leur permettent d'avoir une forte croissance économique..



7. Pourquoi l'Union européenne aide-t-elle les régions et pas directement les pays ?

Le fait de venir en aide aux régions, et non aux pays, permet de ne pas pénaliser le développement de ces régions et de sa population et d'harmoniser la croissance au sein de chaque pays.

L'Union européenne est un territoire qui regroupe des régions avec des grandes différences de niveau de vie entre ses habitants.

-**La mégalopole européenne** concentre des villes mondiales et des métropoles puissantes, les institutions européennes et les régions les plus riches.

-Les régions les plus en difficultés sont souvent les régions les plus éloignées du centre dynamique de l'Europe (ce sont aussi souvent des territoires qui sont entrés récemment dans l'U.E.)

Mais l'Union européenne a mis en place une **politique d'aide** aux **territoires les plus en difficulté** pour qu'ils se développent plus rapidement : c'est la **cohésion territoriale**.

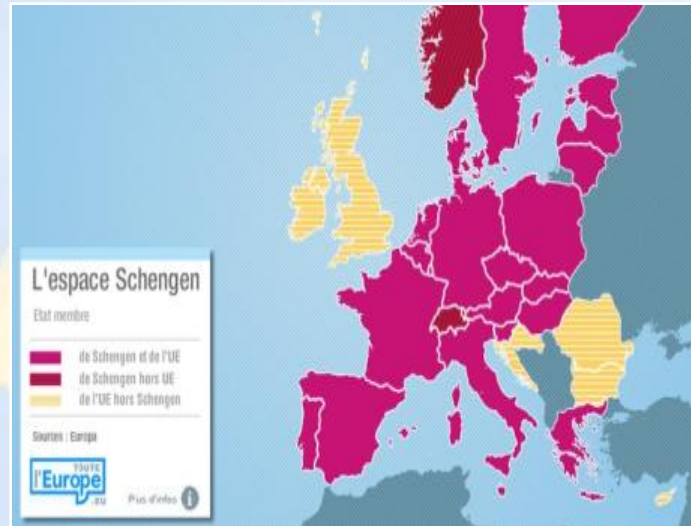


L'UE est donc devenu un acteur territorial majeur pour les populations. Des mesures concrètes ont modifié l'espace habité par les Européens :

- La **zone euro** qui facilite les échanges
- La libre circulation dans l'**espace Schengen**
- La possibilité d'étudier dans un pays européen avec **ERASMUS**.



Les 19 États membres de la zone euro



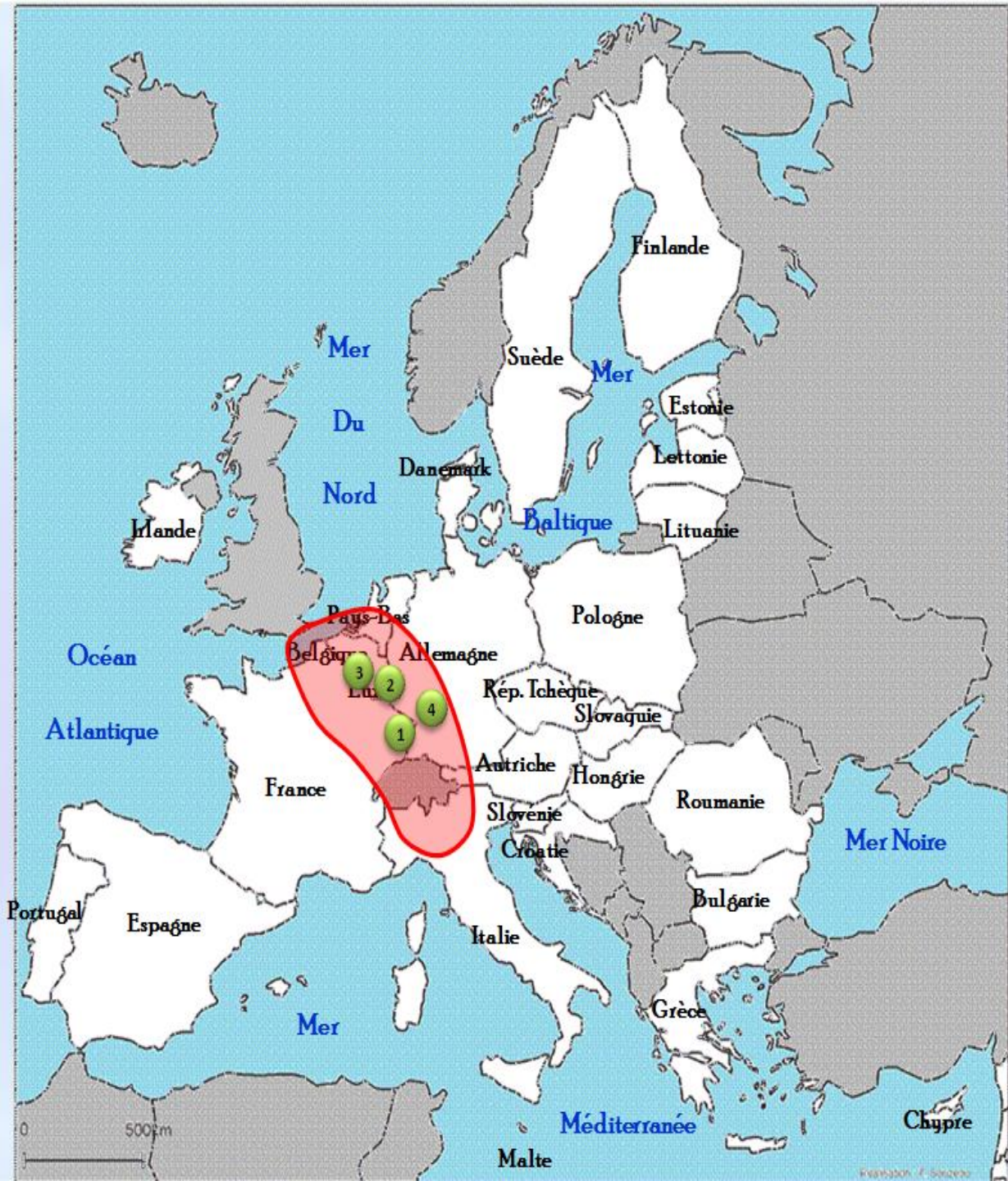



CROQUIS

- Placez les villes accueillant les institutions européennes
- Dessinez la mégalopole et coloriez-la.
- Construisez la légende

Voir ci-après...





 Mégalopole européenne
(« cœur de l'Europe »)



Institutions européennes

1

Strasbourg

2

Luxembourg

3

Bruxelles

4

Francfort

Pour aller plus loin...

À votre avis, pourquoi de nouveaux pays, comme la Croatie, veulent faire partie de l'Union européenne?





- II -

La France, un territoire européen
incontournable

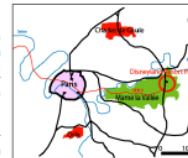
La France est l'un des six pays fondateurs de l'Union européenne et est encore aujourd'hui un des pays moteurs. Elle est la 2^{ème} puissance économique européenne. C'est aussi le pays le plus vaste de l'Union.

La France, un territoire européen incontournable

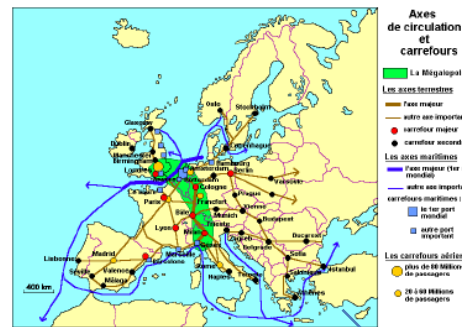
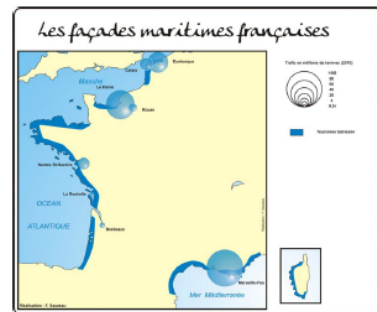
Disneyland Resort Paris, une implantation stratégique en Europe

(...) Ainsi, Disneyland Resort (DR) Paris structure un bassin d'emplois important dans l'Est parisien et il a généré la création de 55 000 emplois dont 14 500 au sein du "resort". Près de 40% de ces emplois sont situés dans le département de Seine-et-Marne. (...) Si, à l'échelle locale et régionale, DR Paris (...) polarise le développement de l'agglomération parisienne, à l'échelle nationale et européenne, c'est un complexe touristique dynamique et attractif, à proximité de l'Angleterre, de l'Allemagne, de la Belgique et du Luxembourg. En ce sens, l'État français a développé DR Paris comme un hub touristique, en aménageant une série d'équipements de transport : un RER pour relier le parc à Paris dans une perspective de loisirs ; une gare TER pour le relier au reste du Bassin parisien ; une gare TGV à deux pas de l'entrée du complexe pour le relier au reste de la France et à l'Europe du Nord. Des relations privilégiées avec l'aéroport Roissy-Charles-de-Gaulle existent par ailleurs pour accueillir des touristes de l'ensemble de l'Europe.

En s'implantant à Paris, la stratégie de la Walt Disney Company est double. D'une part, il s'agit d'établir en Europe un parc Disney susceptible de drainer un espace touristique le plus large possible. Plusieurs choix s'offraient à la firme, dont celui de Barcelone, mais ce dernier a été abandonné du fait de sa position européenne plus excentrée.



Raphaël Languillon-Aussel, Tōkyō Disney Resort et Disneyland Resort Paris : deux modèles originaux d'aménagement touristique au Japon et en France. Geococonfluences, 4 février 2011.



Localisation et contexte spatial de Disneyland Paris

A. HOUDOT - Aix-Marseille

1. Localisez les villes de Paris et de Barcelone.
2. Pourquoi la FTN Disney a-t-elle choisi de construire son parc d'attraction en France ?
3. Pourquoi peut-on dire que la France a une situation avantageuse en Europe ?
4. Pourquoi peut-on dire que la France est bien intégrée dans l'Union européenne et dans la mondialisation ?

Répondre aux questions de la fiche « Exercice n°2 »

Pour lire correctement cette carte, cliquez [ici](#)



1. Localisez les villes de Paris et de Barcelone.



Paris se situe au centre-ouest de l'U.E., en France.

Barcelone est une ville du nord-est de l'U.E., sur la côte espagnole de la Méditerranée.



2. Pourquoi la F.T.N. Disney a-t-elle choisi de construire son parc d'attraction en France ?

Disneyland Resort Paris, une implantation stratégique en Europe

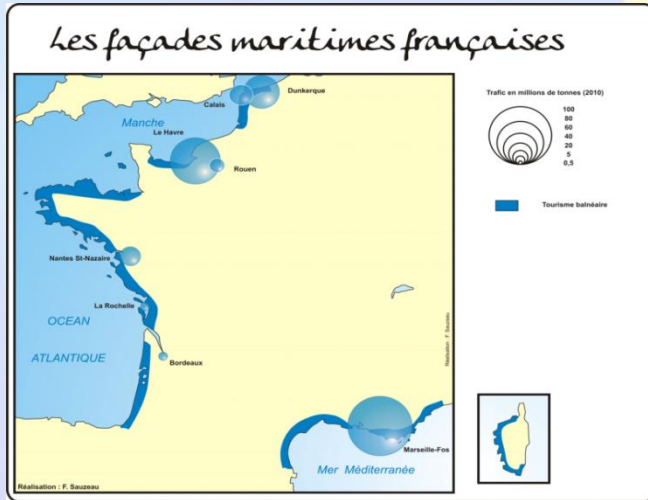
(...) Ainsi, Disneyland Resort (DR) Paris structure un bassin d'emplois important dans l'Est parisien et il a généré la création de 55 000 emplois dont 14 500 au sein du "resort". Près de 40% de ces emplois sont situés dans le département de Seine-et-Marne. (...) Si, à l'échelle locale et régionale, DR Paris (...) polarise le développement de l'agglomération parisienne, à l'échelle nationale et européenne, c'est un complexe touristique dynamique et attractif, à proximité de l'Angleterre, de l'Allemagne, de la Belgique et du Luxembourg. En ce sens, l'État français a développé DR Paris comme un hub touristique, en aménageant une série d'équipements de transport : un RER pour relier le parc à Paris dans une perspective de loisirs ; une gare TER pour le relier au reste du Bassin parisien ; une gare TGV à deux pas de l'entrée du complexe pour le relier au reste de la France et à l'Europe du Nord. Des relations privilégiées avec l'aéroport Roissy-Charles-de-Gaulle existent par ailleurs pour accueillir des touristes de l'ensemble de l'Europe.

En s'implantant à Paris, la stratégie de la Walt Disney Company est double. D'une part, il s'agit d'établir en Europe un parc Disney susceptible de drainer un espace touristique le plus large possible. Plusieurs choix s'offraient à la firme, dont celui de Barcelone, mais ce dernier a été abandonné du fait de sa position européenne plus excentrée.

La F.T.N. Disney a choisi de construire son parc d'attraction en France en raison de la position stratégique de l'agglomération parisienne (proximité des pays « riches » de l'Union comme l'Allemagne, le Royaume-Uni) et de la capacité d'accueil (hôtels) et de transports (TGV, aéroports, RER) pour les nombreux touristes.



3. Pourquoi peut-on dire que la France a une situation avantageuse en Europe ?



La France dispose d'une position stratégique en Europe : elle est un "carrefour" entre les pays du Nord et du Sud et bénéficie, de ce fait, de moyens de communication performants et très empruntés (carte n°2).

De plus, la France bénéficie d'une ouverture privilégiée sur le monde grâce à ses 3 façades maritimes (mer du Nord, Atlantique et Méditerranée)



4. Pourquoi peut-on dire que la France est bien intégrée dans l'Union européenne et dans la mondialisation ?

La France fait partie des pays fondateurs de l'U.E. (voir cours d'histoire) et est l'un des « piliers » de l'Union.

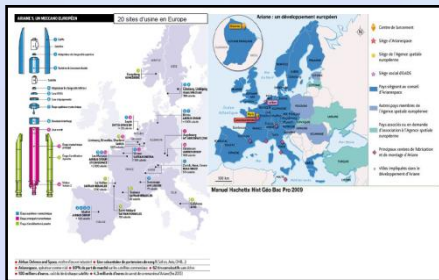
De part sa position géographique privilégiée (voir question précédente), elle participe activement aux échanges intra-communautaires (= entre les pays de l'U.E.) mais également avec le monde entier.

En outre, et ce n'est pas négligeable, elle attire des millions de touristes étrangers chaque année (1^{ère} destination touristique mondiale), se plaçant ainsi comme un pôle essentiel de la mondialisation.

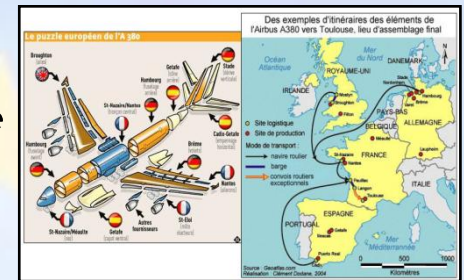
Pour aller plus loin...

La France, au cœur de l'excellence industrielle européenne

→ "Et que se passerait-il pour Ariane 5 et l'avion A380 si un des pays membres sortait de l'Union européenne?"



← Documents accessibles sur École Directe et/ou le site d'Histoire-Géo →



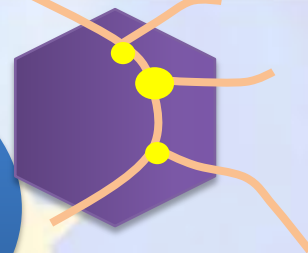
Pourquoi peut-on dire que la France est un territoire au cœur de la puissance de l'industrie spatiale européenne?

Pourquoi peut-on dire que la France est un territoire au cœur de la puissance de l'industrie aéronautique européenne?



Un pays
fondateur de
l'U.E.

Un carrefour
européen



La France, un
territoire
européen
incontournable

une ouverture sur
3 façades
maritimes



Une puissance
industrielle
majeure





- III -

Habiter un territoire franco-européen : une
région transfrontalière.

Je découvre...

L'espace Schengen au quotidien

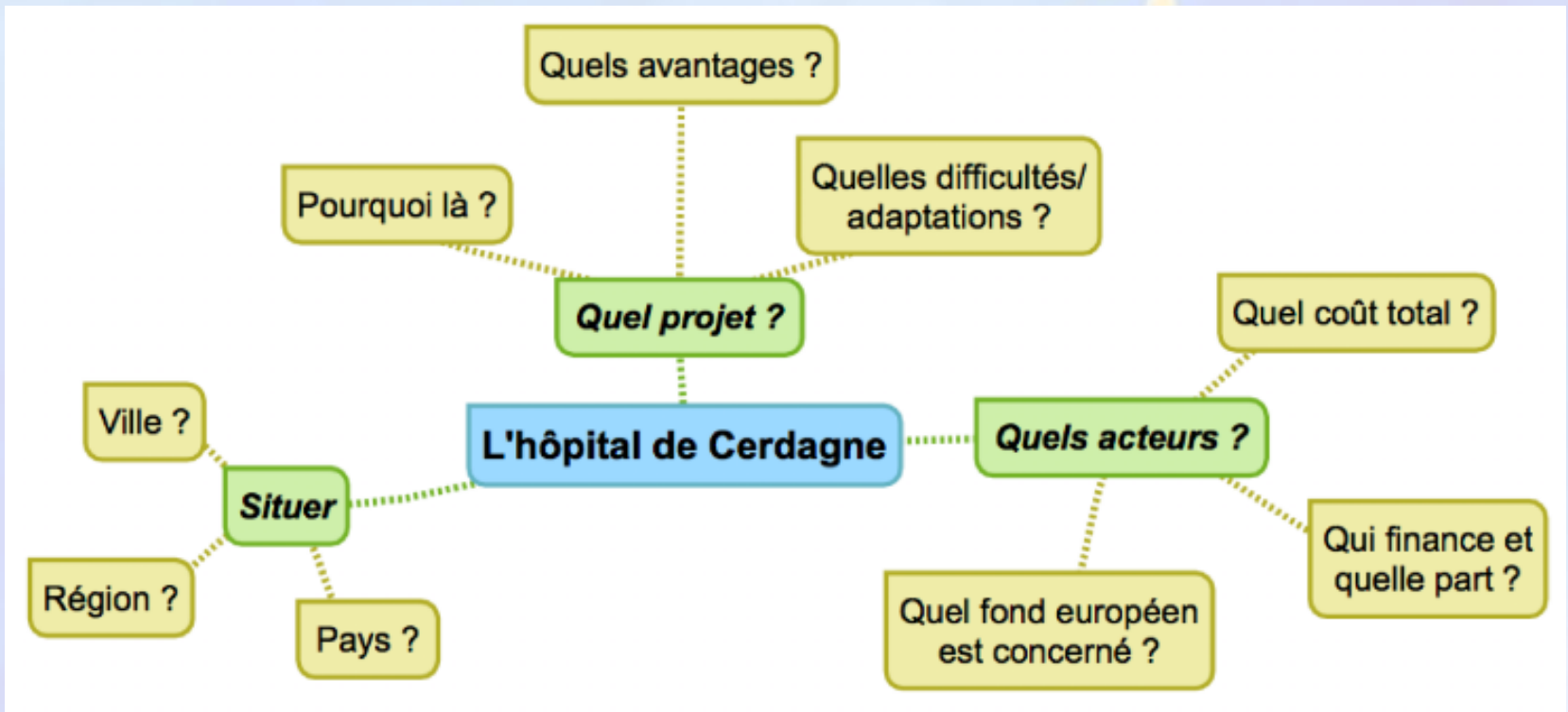
Comment Romain
habite-t-il un territoire transfrontalier?



L'aménagement transfrontalier : une nouvelle façon de construire l'Union européenne



Étudier un
projet d'aménagement
à l'échelle de l'Union.



3. Habiter un territoire franco-européen : une région transfrontalière.

normes ≠
2 systèmes de santé } "desert médical" peu de patients, transport des corps cher, personnel 80% espagnol
protocoles différents + pratique, + proche }
Soigner des 2 côtés des Pyrénées }
2 langues }
Pour permettre aux habitants des deux côtés de la frontière. (français et espagnols) d'être pris en charge + rapidement et sans faire trop de route.

Quels avantages ?

Quelles difficultés / adaptations ?

Pourquoi là ?

Quel projet ?

faire - de kilomètres pour aller s' faire soigner
31 millions d'euros

Puigcerdà Ville ?

L'Hôpital de Cerdagne

Quel coût total ?

Situer

Quels acteurs ?

Pays ?
Région ?

Quel fond européen est concerné ?

Qui finance et quelle part ?

Cerdagne catalagne

Espagne et France

Fond européen de développement Régional (FEDER)

France → 16 %
Catalagne → 24 %
Fond européen de développement Régional (FEDER) → 60 %


UE



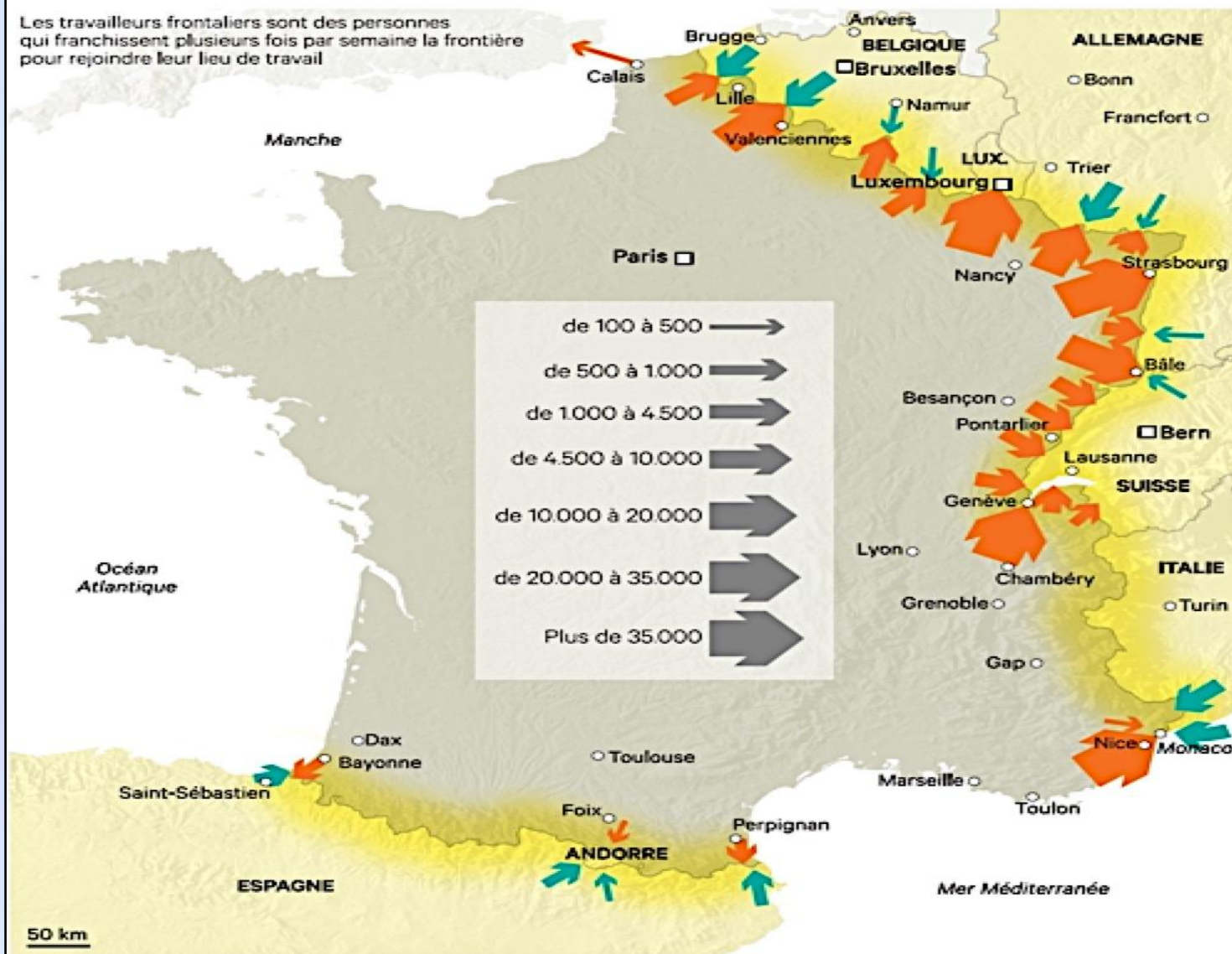
- Grâce à la **libre circulation dans l'espace Schengen**, les frontières ne sont plus des limites aux habitants de l'Union européenne. Ceux qui habitent près d'un autre pays peuvent donc vivre librement des deux côtés.
- Il y a **400 000 travailleurs transfrontaliers** français.
- Pour faciliter la vie de ces habitants transfrontaliers et pour éviter de construire des infrastructures en double de chaque côté de la frontière, **l'Union européenne finance des aménagements transfrontaliers** qui permettent de mettre les moyens en commun.
- Par exemple, les infrastructures de communication majeures sont maintenant construites à l'échelle de l'Europe.

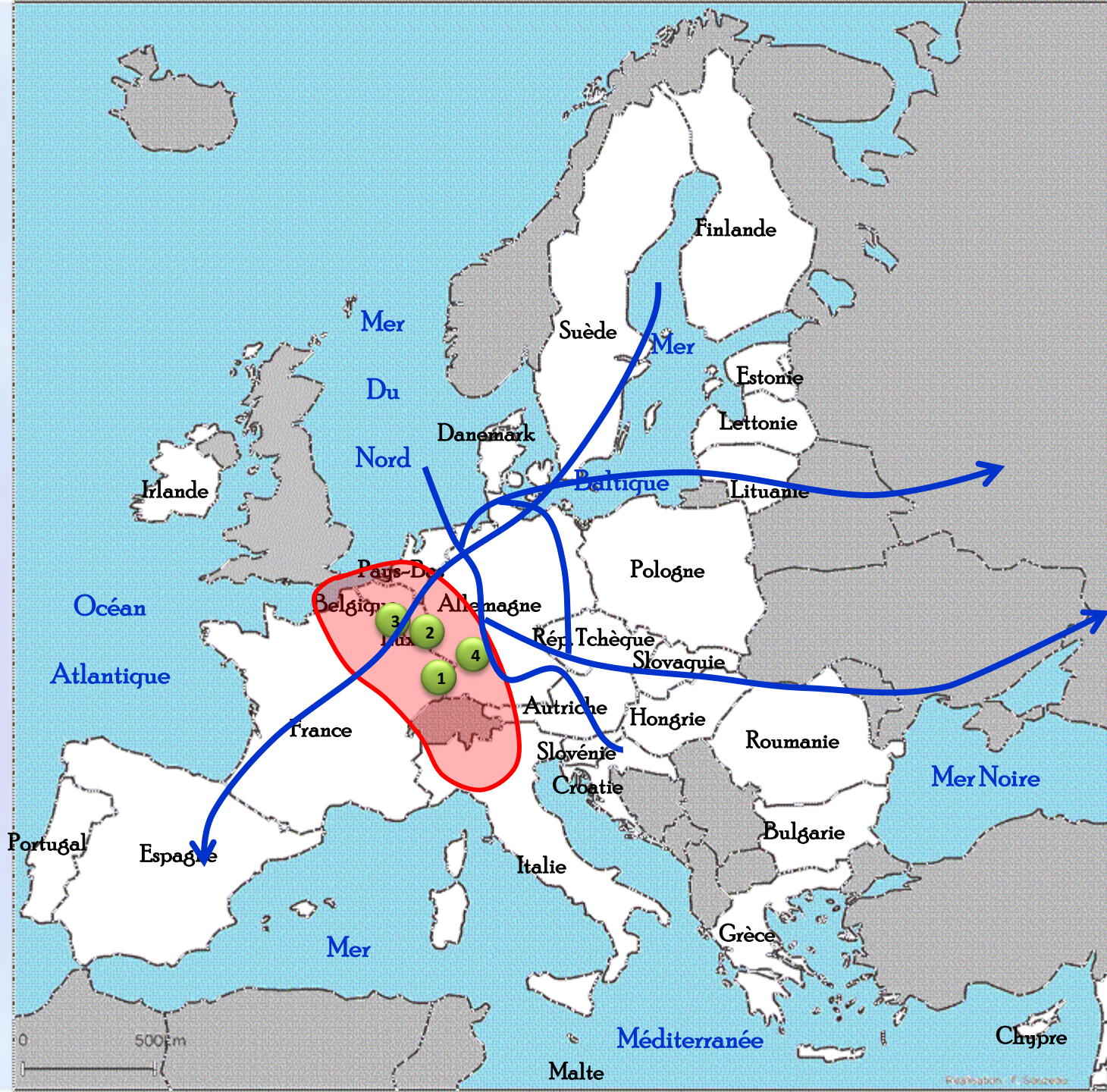
Les migrations de travailleurs transfrontaliers

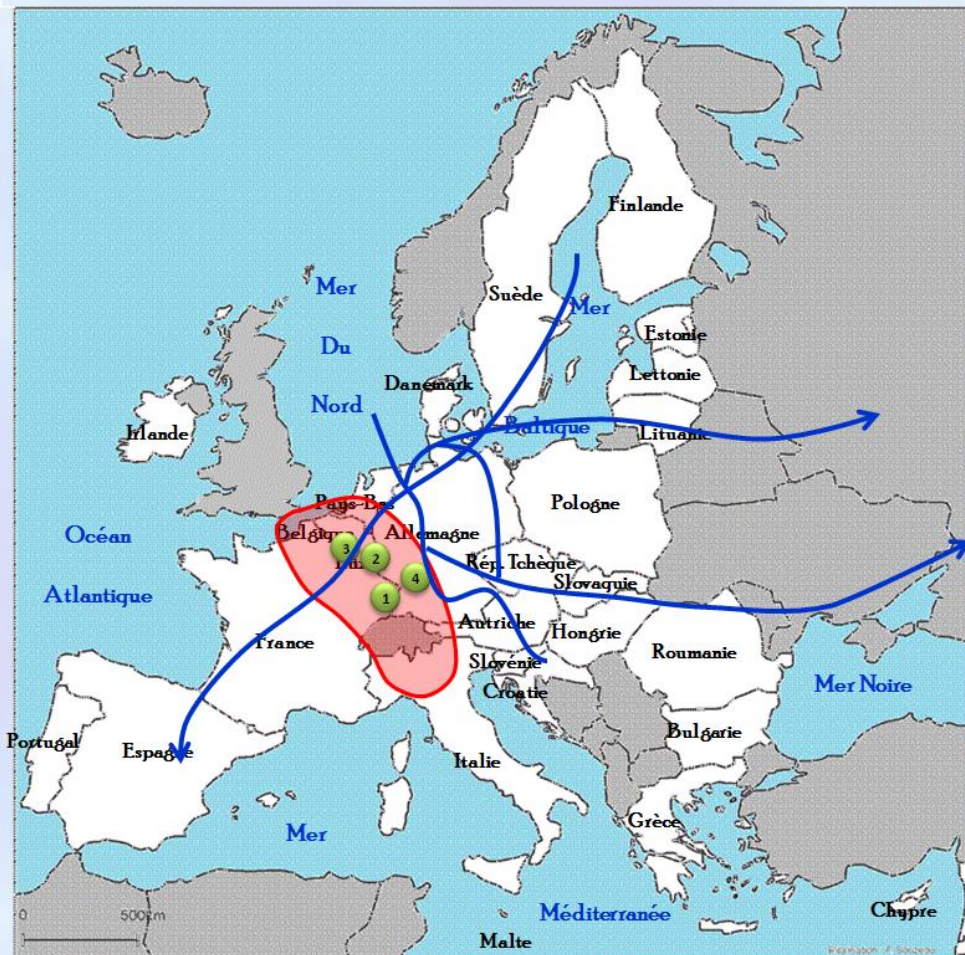
 Résidant en France, travaillant à l'étranger
(ou Monaco ou Andorre)

 Résidant à l'étranger, travaillant en France
(ou Monaco ou Andorre)

Les travailleurs frontaliers sont des personnes qui franchissent plusieurs fois par semaine la frontière pour rejoindre leur lieu de travail







Mégalopole européenne



Institutions européennes



1 Strasbourg



2 Luxembourg



3 Bruxelles



3 Francfort

*Pour plus d'infos,
cliquez [ici](#)*



Axes majeurs de
circulation