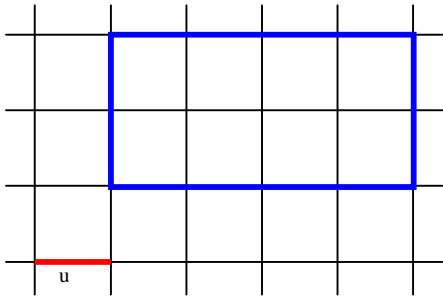
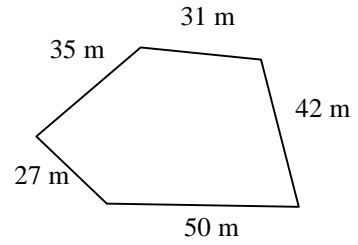


# 66 Périmètre

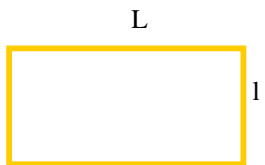


Le périmètre du rectangle est 12 u.

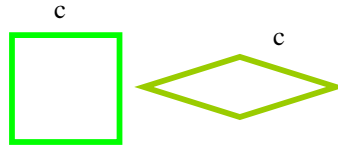


$35 + 31 + 42 + 50 + 27 = 185$   
Le périmètre du polygone est 185 mètres.

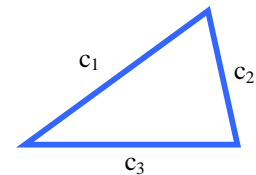
Le périmètre est la mesure de la ligne qui limite une figure fermée.



$$P = (L + l) \times 2 = 2L + 2l$$



$$P = c \times 4$$



$$P = c_1 + c_2 + c_3$$

Le périmètre des figures simples est résumé par une formule.