


61 Identifier des figures

1 - Décris la figure.



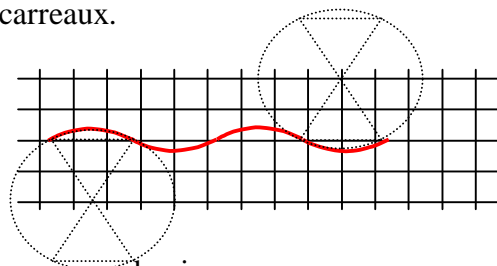
Utilise la figure ci-dessus pour constituer une frise sur une grille de deux carreaux.



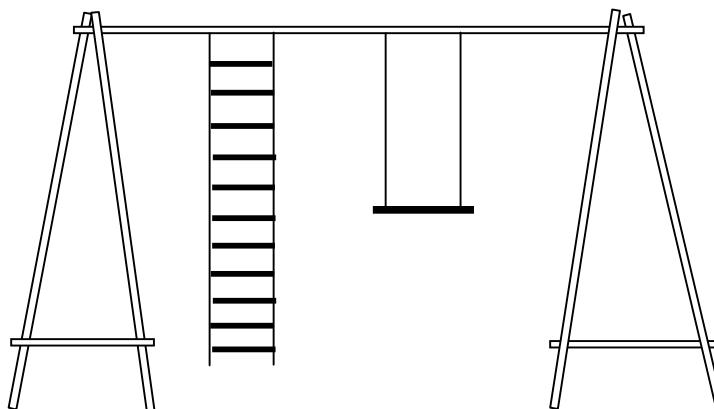
2 - Décris la figure.



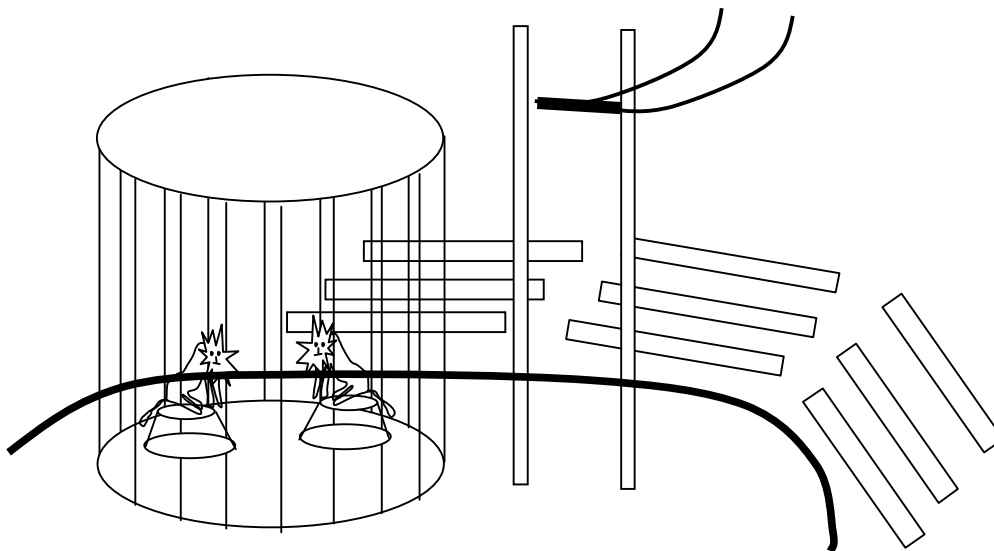
Utilise tes observations pour constituer au compas une ligne ondulante sur une grille de 4 carreaux.



3 - Colorie quelques angles droits que tu observes sur ce dessin.



4 - Colorie quelques lignes parallèles que tu observes sur le dessin.



5 - Pour fabriquer un cerf-volant Hélène entrecroise et ligature deux tiges de bois. Fais un schéma de trois formes possibles du pourtour du cerf-volant ; si tu connais leur nom, nomme les contours polygonaux

formés. Décris les tiges et indique la position de la ligature qui correspond à ces contours polygonaux.