



---

## 68 Aire et pavage

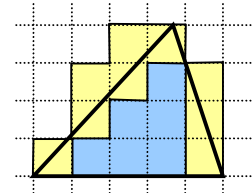
---



$12 \text{ u} < \text{aire du rectangle} < 32 \text{ u}$



aire du rectangle = 21 u



$6 \text{ u} < \text{aire du triangle} < 15 \text{ u}$

La mesure de l'aire d'une surface  
est obtenue par un pavage de la surface avec une unité d'aire.