





Les problèmes pour les cm1 :

Photo-problème	7	Photo-problème	8
 <p>A la maison, nous sommes 4 et nous prenons un yaourt chaque jour. Combien de jours pourrions nous manger des yaourts avec les yaourts d'une seule yaourtière ?</p>		 <p>Combien manque-t-il de flacons dans ce tiroir ?</p>	

Les problèmes pour les cm2 :

Photo-problème	11	Photo-problème	12
 <p>Victor a fait tomber les $\frac{2}{3}$ de la boîte d'œufs par terre !!! Combien en a-t-il fait tomber ?</p>		 <p>Ludovic possède l'ensemble de ces legos. Il en donne $\frac{1}{4}$ à son ami Maxence. Celui-ci perd $\frac{1}{3}$ de ces legos. Combien reste-t-il de legos à Ludovic ? à Maxence ?</p>	