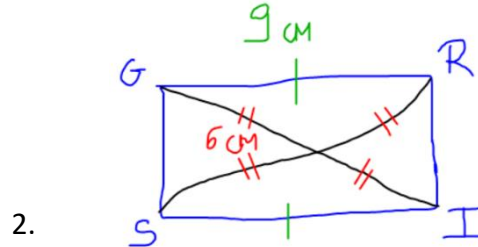
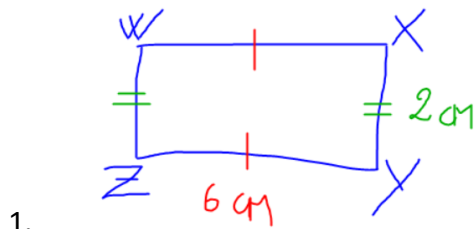


CORRECTION

Exercice 10 : Tracer à main levée et coder les figures suivantes :

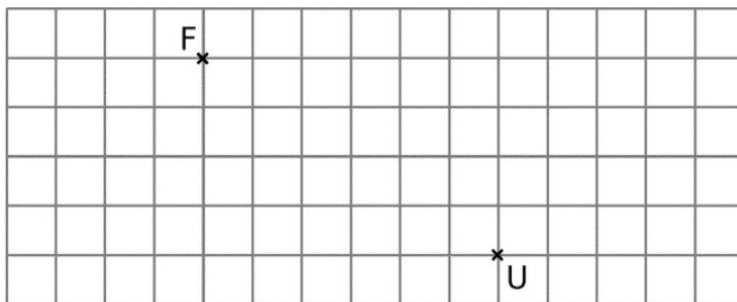
1. Le rectangle WXYZ de longueur 6 cm et de largeur 2 cm
2. Le rectangle GRIS tel que $GR = 9$ cm et $GI = 12$ cm

CORRECTION EXERCICE 10 :



ATTENTION : $GI = 12$ cm est la diagonale entière. Comme les diagonales se coupent en leur milieu, chaque longueur de de demi-diagonale est codée, soit 6 cm.

Exercice 11 : Reproduis la figure suivante :



En utilisant le quadrillage et sans instrument de géométrie, construis un rectangle FOUR et un rectangle FUME.

CORRECTION EXERCICE 11 :

Pour bien réussir le rectangle FUME il faut compter le nombre de carreaux verticalement et horizontalement.

