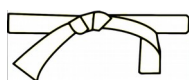
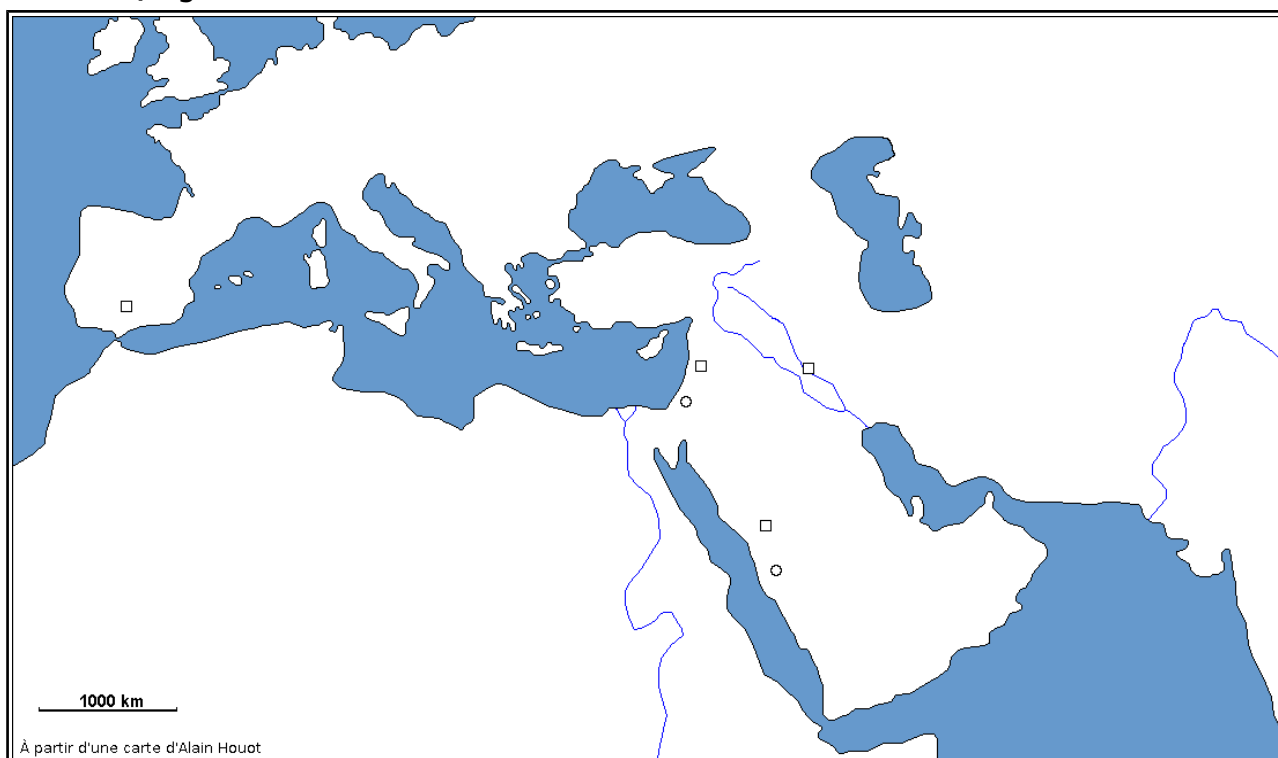


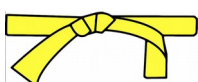


Manuel page 44/45 : Le monde musulman (VIIe – IXe siècle)



Ceinture blanche

En utilisant la carte du livre, tracer la carte du monde musulman entre le VIIe et le IXe siècle et recopier les éléments de la légende utilisés.



Ceinture jaune

De mémoire (c'est à dire sans aucun document !), réaliser la carte du monde musulman en utilisant la légende suivante :



Territoires musulmans au IXe siècle.



Capitales (préciser leurs noms).



Villes saintes pour l'Islam (préciser leurs noms)



Ceinture orange

Réaliser de mémoire (c'est à dire sans aucun document !) la carte du monde musulman au IXe siècle en plaçant également les deux empires voisins à cette époque et que nous avons étudiés.