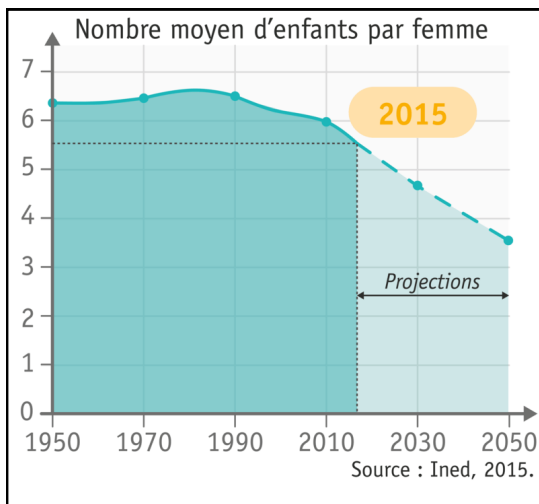
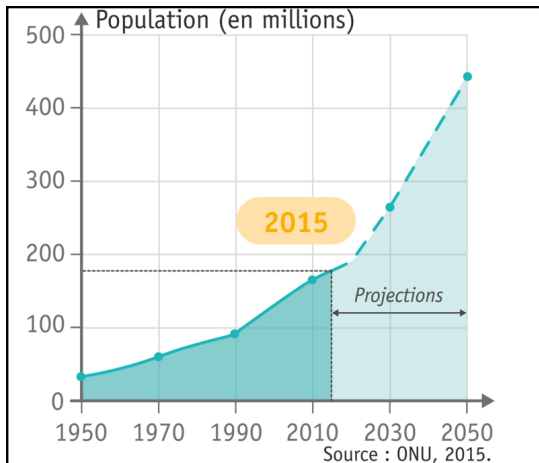




# La croissance démographique au Nigeria



1) Depuis 1950, la population a-t-elle augmenté ? \*.....

2) D'après la projection, la population va-t-elle augmenter doucement ou rapidement ? \*

.....

3) Reprends la courbe de l'Inde et compare-là avec celle-ci. Quelles différences relèves-tu entre ces deux courbes ? \*\*\*

.....

.....

4) En 1950, combien d'enfants les femmes avaient-elles ? \*\*

.....

5) Actuellement, combien en ont-elles ? \*\*

.....


6) D'après toi, pour que la population arrête d'augmenter, combien d'enfants devraient-elles avoir ? \*\*\*

.....

.....

## Le contrôle de la fécondité

Jusqu'à 50 personnes partagent une cuisine, des toilettes et un évier – bien que les canalisations du quartier soient souvent à sec. À l'école primaire de Alapere, plus de 100 élèves se serrent dans les salles de classe, avec 2 élèves par bureau. Alors que les lycées et les universités produisent toujours plus de diplômés, le taux de chômage du Nigeria avoisine les 50 % pour les jeunes âgés de 15 à



24 ans dans les zones urbaines [...]. En Afrique subsaharienne, les gouvernements paniqués ont commencé à prendre des mesures qui prennent le contrepied de décennies de politiques de natalité favorables aux familles nombreuses. Le Nigeria a mis en place la gratuité des contraceptifs l'année dernière et le gouvernement fait la promotion de « petites » familles, présentées comme la clé de la croissance économique.

Elisabeth Rosenthal, New York Times, 14 avril 2012

7) Souligne en rouge, les phrases qui montrent que la surpopulation est un problème. \*\*

8) Souligne en vert, les portions de phrases qui montrent les progrès fait par ce pays. \*\*

9) Quelles mesures le gouvernement a-t-il mis en place pour limiter les naissances ? \*\*

.....

.....