

BACCALAURÉAT GÉNÉRAL BACHIBAC

SESSION 2018

HISTOIRE-GÉOGRAPHIE

Toutes séries

DURÉE DE L'ÉPREUVE : 5 heures

COEFFICIENTS :

Série ES : 5 Série L : 4 Série S : 3

L'épreuve est composée entièrement en langue espagnole.
Le candidat traite obligatoirement UN sujet d'histoire et UN sujet de géographie.
Chacune des deux parties est notée sur 10 points.
Les calculatrices ne sont pas autorisées.

Ce sujet comporte 11 pages numérotées de 1/11 à 11/11.

Dès que le sujet vous est remis, assurez-vous qu'il est complet.

HISTORIA

TEMA 1

COMPOSICIÓN

LA EVOLUCIÓN POLÍTICA DE ESPAÑA (1939-1982)

Cronología indicativa

- 1945: Fuero de los Españoles-Ley de Referéndum nacional
- 1959: Plan de Estabilización
- 1962: "Contubernio" de Múnich
- 1969: Designación de Juan Carlos de Borbón como sucesor del general Franco
- 1975: Muerte de Franco
- 1976: Suárez presidente del Gobierno
- 1977: Legalización de todos los partidos políticos
- 1978: Adopción de la Constitución
- 1981: Tentativa de golpe de Estado por el teniente-coronel Tejero

TEMA 2

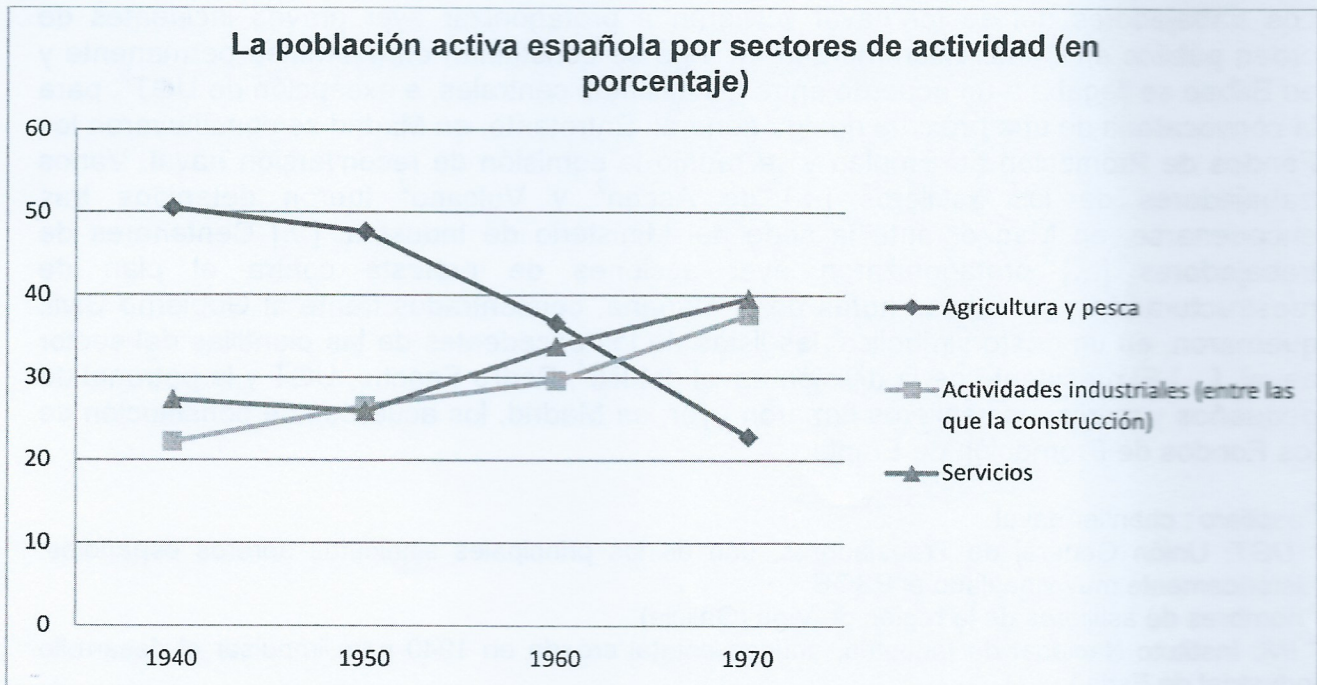
ESTUDIO DE UN CONJUNTO DE DOCUMENTOS

LAS TRANSFORMACIONES ECONÓMICAS Y SOCIALES EN EL MUNDO OCCIDENTAL DESDE 1945

Documentos:

- Documento 1:** La evolución de la población activa en España (1940-1970)
- Documento 2:** La creación de la Seguridad social en Francia (1945)
- Documento 3:** Las huelgas en los astilleros españoles (1984)
- Documento 4:** El crecimiento en algunos países occidentales (en porcentaje)
- Documento 5:** La defensa de un nuevo orden económico mundial

Documento 1: La evolución de la población activa en España (1940-1970)



Fuente: A partir de JULIÁ Santos, *Un siglo de España. Política y sociedad*, Barcelona, Marcial Pons, 1999 y CARRERAS Albert (coord.), *Estadísticas Históricas de España, Siglos XIX y XX*, Fundación BBVA, 1989.

Documento 2: La creación de la Seguridad social en Francia (1945)



“Cerremos la puerta a la miseria”
Seguridad social

Documento 3: Las huelgas en los astilleros¹ españoles (1984)

Los trabajadores del sector naval volvieron a protagonizar ayer graves incidentes de orden público en Cádiz, mientras que en Vigo se constituían en asamblea permanente y en Bilbao se llegaba a un acuerdo entre las distintas centrales, a excepción de UGT², para la convocatoria de una próxima huelga general. Entretanto, en Madrid se constituyeron los Fondos de Promoción de Empleo y se reunió la comisión de reconversión naval. Varios trabajadores de los astilleros [...] de Ascon² y Vulcano² fueron detenidos tras encadenarse, en Madrid, ante la sede del Ministerio de Industria. [...] Centenares de trabajadores [...] protagonizaron ayer acciones de protesta contra el plan de reestructuración y, a últimas horas de la mañana, concentrados frente al Gobierno Civil, quemaron, en un gesto simbólico, las listas de los excedentes de las plantillas del sector naval. [...] El presidente de la división naval del INI⁴, Pedro Sancho, UGT y la patronal de pequeños y medianos astilleros firmaron ayer, en Madrid, los acuerdos de constitución de los Fondos de Promoción de Empleo.

¹ *astillero* : chantier naval

² *UGT*: Unión General de Trabajadores, uno de los principales sindicatos obreros españoles, históricamente muy vinculado al PSOE

³ nombres de astilleros de la región de Vigo (Galicia)

⁴ *INI*: Instituto Nacional de Industria, entidad estatal creada en 1940 para impulsar el desarrollo industrial de España

Fuente: "Incidentes en los astilleros de Cádiz y convocatoria de huelga general en Vizcaya", *El País*, 8 de diciembre de 1984.

Documento 4: El crecimiento en algunos países occidentales (en porcentaje)

	1961-1975	1976-1990	1991-2005	2006-2016
Australia	4,46	3,23	3,30	2,78
Canadá	4,94	3,02	2,77	1,65
España	6,74	2,62	3	0,7
Estados Unidos	3,91	3,47	3,15	1,45
Francia	5,01	2,79	1,95	0,91
Italia	4,89	3,09	1,42	-0,32
Noruega	4,43	3,25	3,19	1,27
Reino Unido	2,82	2,72	2,54	1,26

Fuente: Banco Mundial, 2017, datos sacados del sitio web <https://datos.bancomundial.org>.

Documento 5: La defensa de un nuevo orden económico mundial

La lección de la historia económica de Europa en los años 70 y 80 es que [...] la economía controlada por el Estado es una receta para el poco crecimiento y que la libre empresa en el marco de la ley trae mejores resultados. El objetivo de una Europa abierta a la empresa es la fuerza motriz detrás de la creación del Mercado único Europeo en 1992. [...] Nuestro objetivo no debería centrarse en una regulación cada vez más detallada: hay que desregular y eliminar las restricciones sobre el comercio. [...] La ciudad de Londres ha estado desde hace mucho tiempo dando la bienvenida a las instituciones financieras de todo el mundo, por lo que es el centro financiero más grande y de mayor éxito en Europa. Hemos abierto nuestro mercado para los equipos de telecomunicaciones, hemos introducido la competencia en el mercado de servicios e incluso en la propia red [*de transportes*] [...]. Puedo yo decir que no necesitamos nuevas regulaciones que eleven el costo de la mano de obra y que hagan al mercado de trabajo menos flexible y competitivo que el de nuestros proveedores¹ extranjeros [...]. La extensión de la economía mundial requiere que nosotros sigamos el proceso de eliminación de las barreras al comercio, y que se haga en las negociaciones multilaterales en el GATT.

¹ *proveedores*: fournisseurs

Fuente: THATCHER Margaret, Primera Ministra británica, discurso pronunciado en el Colegio Europeo de Brujas, 20 de septiembre de 1988, consultado en el sitio web constitucionweb.blogspot.com.

PREGUNTAS

Primera parte

Contestar a las siguientes preguntas:

1. ¿Cuáles fueron las mayores evoluciones económicas del mundo occidental desde 1945? Documentos 1 y 5
2. ¿Qué cambios se pueden apreciar en el papel del Estado en la vida socioeconómica desde mediados del siglo XX? Documentos 2, 3 y 5
3. ¿Cómo se manifestaron las dificultades económicas en el mundo occidental desde los años 1970? Documentos 3 y 4
4. ¿Cómo fue afectada la mano de obra de los países industrializados por las grandes evoluciones económicas desde los años 1970? Documentos 3 y 5

Segunda parte

A partir de las respuestas dadas a las distintas preguntas, de las informaciones contenidas en los documentos y de sus conocimientos personales, redacte una respuesta organizada sobre el tema:

LAS TRANSFORMACIONES ECONÓMICAS Y SOCIALES EN EL MUNDO OCCIDENTAL DESDE 1945

GEOGRAFÍA

TEMA 1

COMPOSICIÓN

LA GLOBALIZACIÓN: PROCESO, ACTORES Y DEBATES

TEMA 2

ESTUDIO DE UN CONJUNTO DE DOCUMENTOS

CHINA, JAPÓN: COMPETIDORES Y SOCIOS EN ASIA Y EN EL MUNDO

Documentos:

Documento 1: El dragón chino contra el samurái japonés en el siglo XXI

Documento 2: China y Japón: cara a cara en su espacio marítimo

Documento 3: China y Japón acreedores en los Estados Unidos

Documento 4: El comercio, la inversión y la cooperación entre Japón y América Latina

Documento 5: China y Japón motores de la globalización

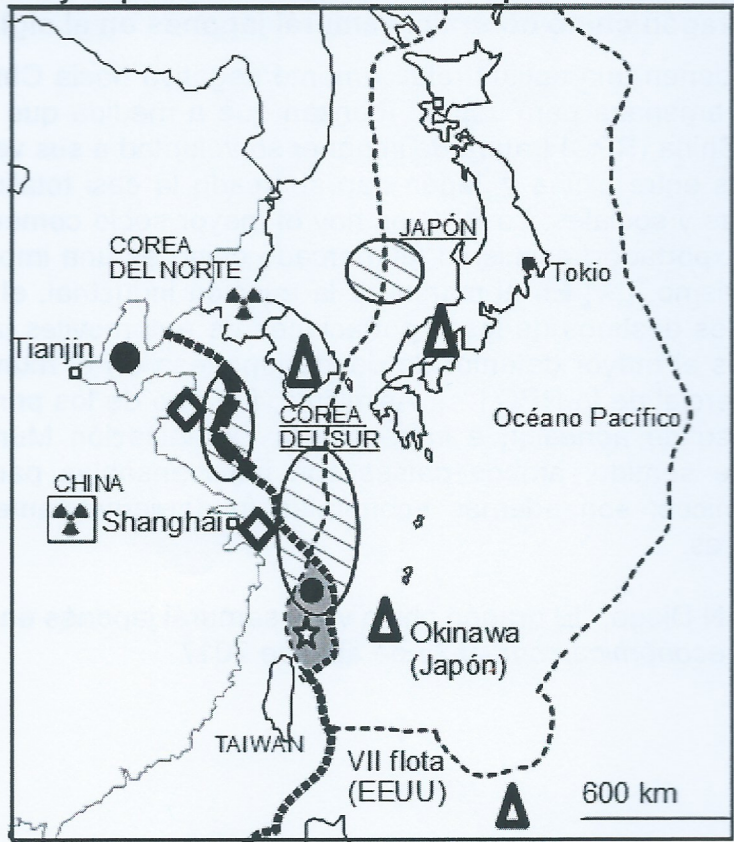
Documento 1: El dragón chino contra el samurái japonés en el siglo XXI

Muchos japoneses tienen una actitud relativamente negativa hacia China, percibiendo su ascenso como una amenaza para Japón. Piensan que a medida que crece su poder, la República Popular China (RPC) tratará de imponer su voluntad a sus vecinos. [...]

[Pero] las relaciones entre China y Japón han abarcado la casi totalidad de actividades políticas, económicas y sociales. La RPC es hoy el mayor socio comercial de Japón y su principal mercado exportador, asimismo, el mercado chino es una importante y cada vez mayor fuente de turismo. [...] En el marco de la relación industrial, el mercado chino es uno de los principales destinos de las exportaciones de automóviles japoneses. [...] Por otro lado, la RPC es el mayor detentor de deuda japonesa en el mundo [y] Japón es el segundo socio comercial de la RPC [...]. Asimismo, fue uno de los principales apoyos de China en su proceso de adhesión e ingreso a la Organización Mundial del Comercio (OMC). [...] En ese sentido, ambos países son indispensables para sus respectivos bienestar económicos; son además economías fundamentalmente complementarias más que competidores.

Fuente: BELEVÁN Diego, "El dragón chino vs el samurái japonés en el siglo XXI", in la *SEMANAeconómica.com*, el 25 de abril de 2017.

Documento 2: China y Japón: cara a cara en su espacio marítimo



Zonas de tensiones marítimas

- - - - - Espacio marítimo reivindicado por Japón
- Espacio marítimo reivindicado por China
- — — — Límite contestado por Corea del Sur
- ☆ Archipiélago japonés reivindicado por China (Islas Senkaku / Diaoyu)
- Zona marítima contestada por China

El juego de las potencias

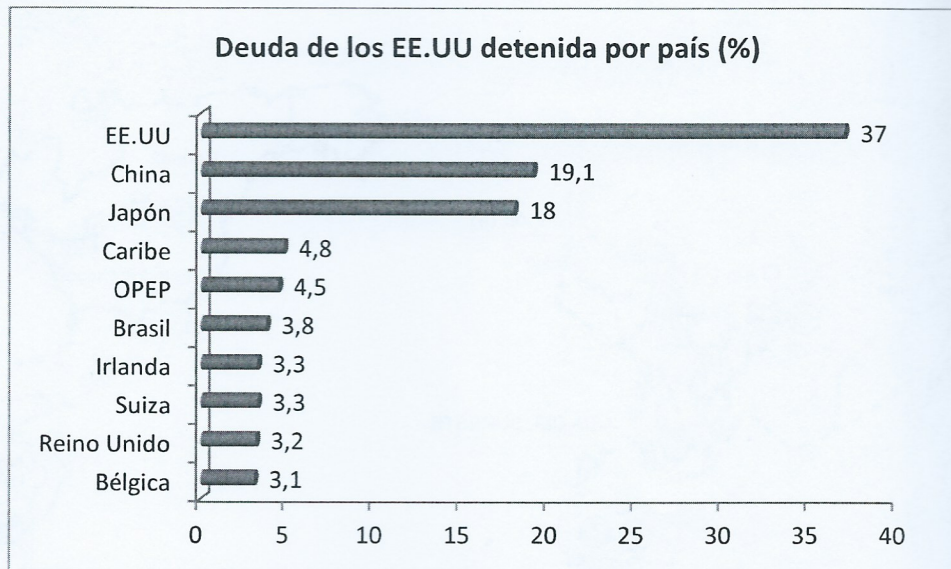
- Japón Aliados de los EEUU
- ☢ ☢ Potencia nuclear oficial-supuesta
 - ▲ Fuerzas militares norteamericanas (base o flota)
 - ◇ Fuerzas militares chinas (flota)

Los recursos en la región

- Zona de recursos pesqueros
- Explotación off-shore gas y petróleo

Fuente: A partir de BONIFACE Pascal (dir.), *L'Année stratégique 2016*, A. Colin, 2015; *Inde-Chine, Atlas des mondes de l'Asie*, l'Histoire et Légendes Cartographie, 2014

Documento 3: China y Japón acreedores¹ en los Estados Unidos (2015)



1 *Acreedor*: persona que prestó dinero y que tiene derecho a recuperar una deuda.

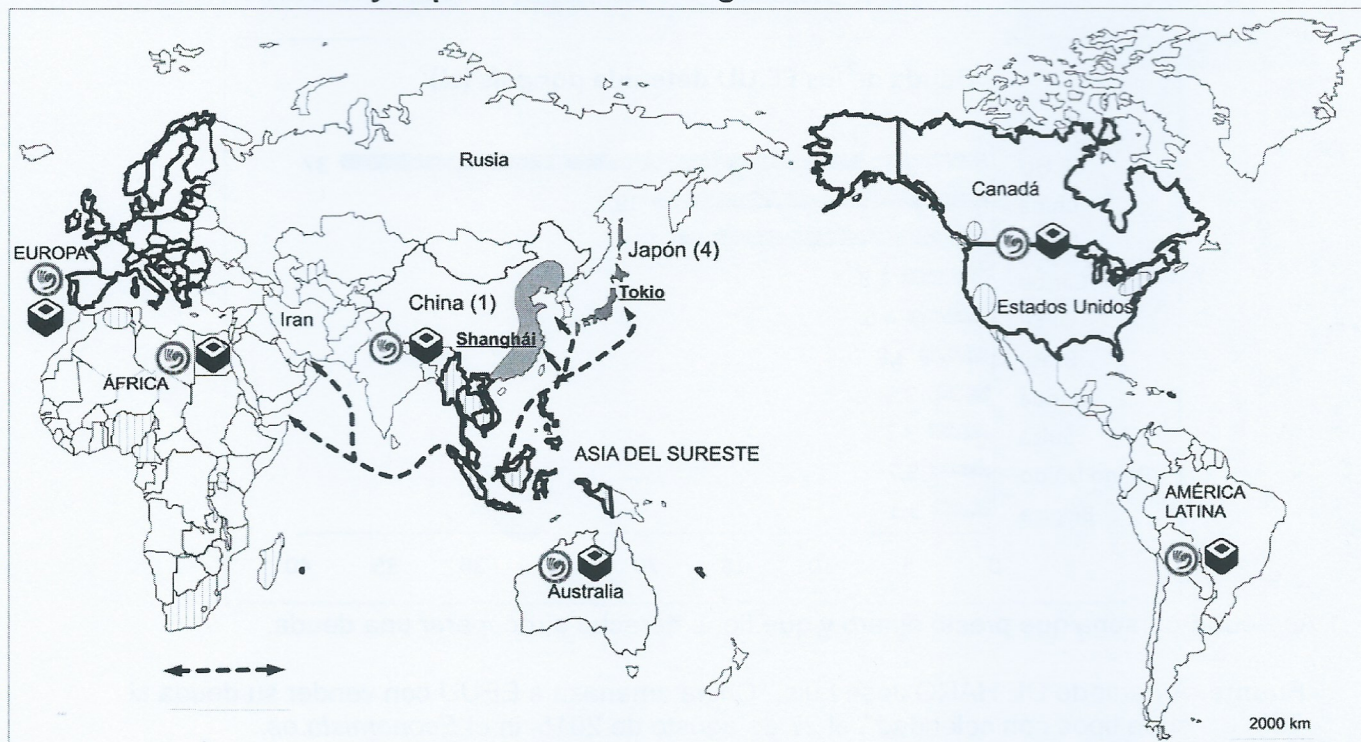
Fuente: A partir de DE HARO Jose Luis, "China amenaza a EEUU con vender su deuda si sube tipos con celeridad", el 27 de agosto de 2015, in el *Economista.es*.

Documento 4: El comercio, la inversión y la cooperación entre Japón y América Latina

Desde la perspectiva del comercio de América Latina y el Caribe (ALC), la primera década del siglo XXI giró en torno de Asia. Impulsado por el fuerte crecimiento de China y la escalada de su demanda de recursos naturales, el comercio entre América Latina y Asia creció a una tasa media anual del 24% entre 2003 y 2011. [...] Si bien muchos observadores se han preocupado precisamente por esta característica del comercio de la región con China, la historia entre Japón y ALC muestra que el intercambio de productos básicos por manufacturas no necesariamente tiene que ser motivo de desesperación. [...] El auge comercial inicial estuvo seguido por importantes flujos de inversión extranjera directa (IED) de empresas japonesas en ALC. Aunque inicialmente se centraron en los recursos naturales, posteriormente dicha IED se diversificó hacia los sectores manufactureros y de servicios. [...] La presencia de empresas japonesas de primer nivel mundial en sectores que van desde los automóviles hasta la tecnología de la información y la energía limpia le aporta a la región tecnología de vanguardia, experiencia en gestión empresarial y puestos de trabajo altamente calificados.

Fuente: ESTEVADEORDAL Antoni, "Cómo el comercio, la inversión y la cooperación entre Japón y América Latina y el Caribe pueden inspirar nuestra futura relación comercial con Asia", in el *Blog del Banco interamericano de Desarrollo*, 1 de noviembre de 2016.

Documento 5: China y Japón motores de la globalización



Dos Estados integrados en la globalización




Espacios impulsores de la globalización

Shanghái

Gran metrópolis en el centro de la globalización

Dos potencias comerciales y financieras a escala global



Los primeros socios comerciales en el mundo de China y Japón



Importante diáspora china

(1)

Rango en el comercio mundial



Vía marítima estratégica para los dos Estados

Dos manifestaciones del soft power (poder blando) de los dos Estados en el mundo



Institutos Confucio (número de institutos de aprendizaje del idioma chino por continente -2017): América 170; Europa -con Rusia- 160; Asia 115; África 48; Oceanía 18.



Restaurantes japoneses en el mundo (número -2013): Asia 27000; Europa occidental 5500; América de norte 17000; América del sur 2900; Rusia 1200; África y Oriente Medio 400; Oceanía 700.

Fuente: A partir de: BALARESQUE Nicolas, OSTER Daniel, « Le territoire chinois et la mondialisation, le Japon à un croisement », *La Cartographie*, Nathan 2014; CHABERT Christophe, « Commerce extérieur de biens et marchandises de la Chine », in *Diploweb.com*, el 29 de septiembre de 2017; Sébastien Colin, « La Chine, puissance mondiale », *Documentation photographique* n° 8108, nov.-déc. 2015 ; CONFUCIUS INSTITUTE HEADQUARTER, « Confucius institute classrooms around the world », in <http://spanish.hanban.org/>, 2014; ZOOM Japon, « Carte des restaurants japonais dans le monde », n°36, diciembre de 2013, in zoomjapon.info/

PREGUNTAS

Primera parte

Contestar a las preguntas siguientes:

1. ¿Cuáles son las fuerzas económicas de China y Japón a escala mundial?
Documentos 3 y 4
2. A escala regional ponga de relieve las características de la interdependencia económica entre los dos Estados. Documentos 1,2 y 5
3. ¿Cuáles son las tensiones entre los Estados en el mar del Japón? Documento 2
4. Compare las dinámicas de integración de los dos Estados en la globalización.
Documentos 4 y 5

Segunda parte

A partir de las respuestas dadas a las distintas preguntas, de las informaciones contenidas en los documentos y de sus conocimientos personales, redacte una respuesta organizada sobre el tema:

CHINA, JAPÓN: COMPETIDORES Y SOCIOS EN ASIA Y EN EL MUNDO