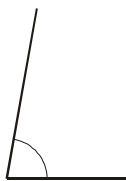


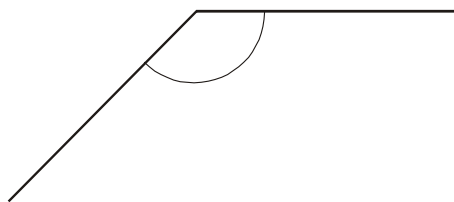
Exercice n°1

À vue d'œil, entoure la bonne nature de l'angle et la bonne mesure.



100° ; 80° ; 50°

Aigu - Obtus



170° ; 55° ; 135°

Aigu - Obtus

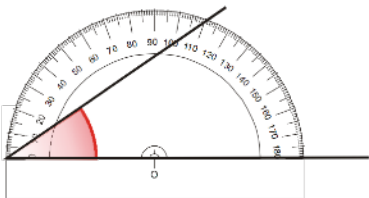


40° ; 140° ; 15°

Aigu - Obtus

Exercice n°2

Explique en utilisant les mots « centre du rapporteur », « zéro de la graduation », « sommet de l'angle », « côté de l'angle », pourquoi le rapporteur est mal placé.



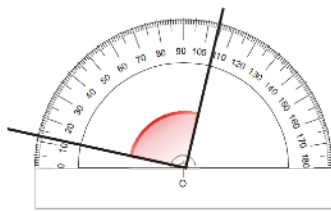
.....

.....

.....

.....

.....



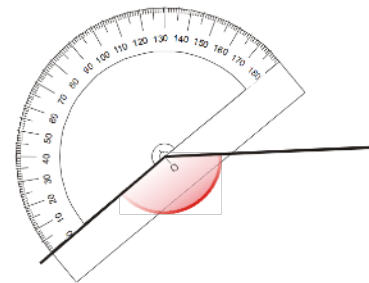
.....

.....

.....

.....

.....



.....

.....

.....

.....

.....

Exercice n°3

Construis les figures suivantes en vraie grandeur :

