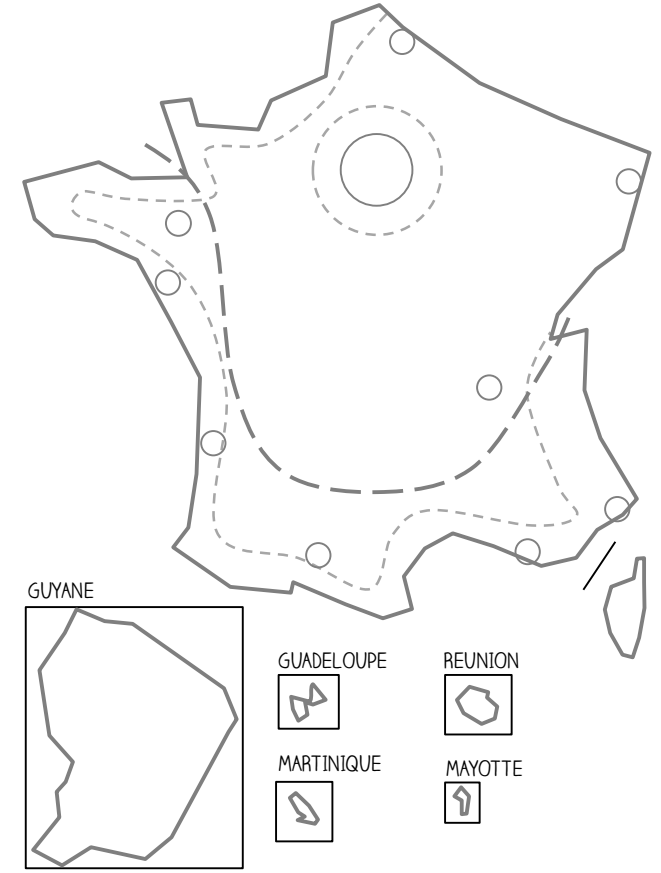
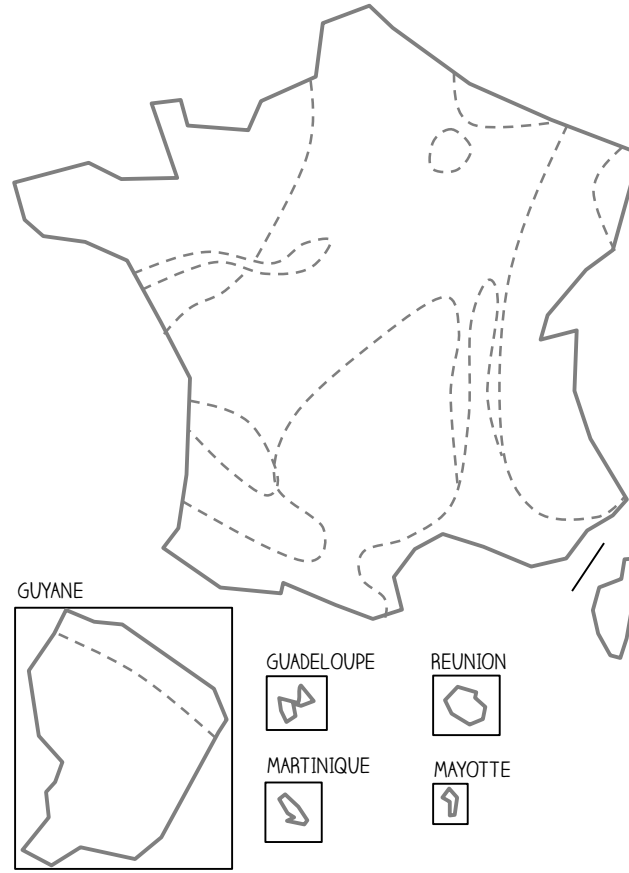
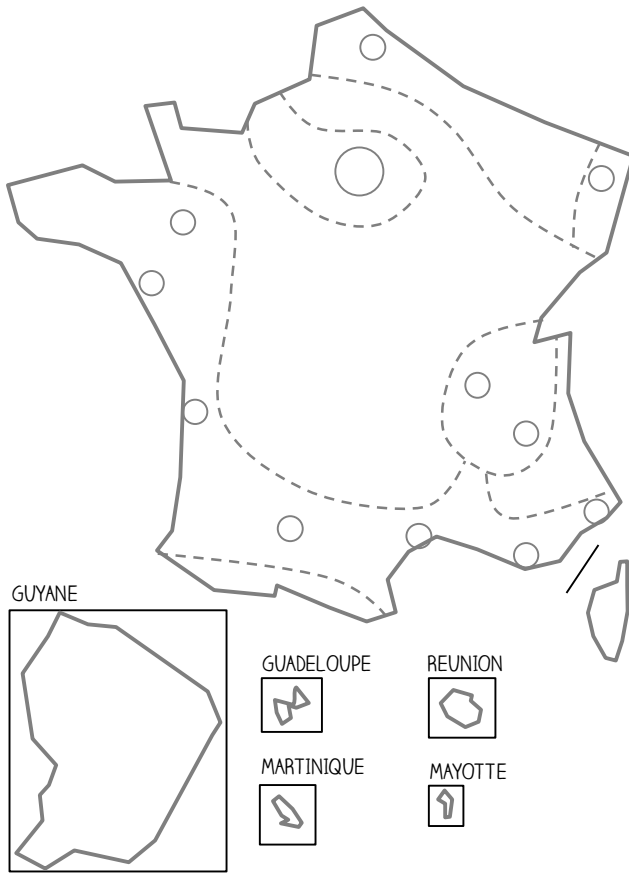


► [3^e-G2] **Croquis** : Les espaces productifs du territoire français

Source: M. Lallement

A l'aide des pages 232, 236 et 240, complétez la légende des croquis (+ le croquis n° 3).



Les espaces industriels

- les deux principales régions industrielles
- les espaces dynamiques (haute-technologie)
- les anciennes régions industrielles (en reconversion)
- les métropoles attractives
- les espaces peu industrialisés

Les espaces agricoles

- élevage intensif **(P)**
- grandes cultures productives **(P)**
- cultures spécialisées (et tropicales) **(P)**
- polyculture et élevage peu productifs
- exportations
- importations

(P): Agriculture productiviste

Les espaces de services

- pôles tertiaires (métropoles)
- axes de transport majeurs
- aéroports internationaux
- espaces touristiques
- pôle touristique mondial
- limite de l'attractivité des territoires du Sud et de l'Ouest