

Leçon III : Ramsès II, Pharaon d'Égypte

(1304-1213 av JC)

Règne de 1279 à 1213

Comment Ramsès II gouverne-t-il l'Égypte?

3^{ème}
millénaire
av JC

2^{ème}
millénaire
av JC

1^{er}
millénaire
av JC

- 3000

- 2000

- 1000

0

476

1000

NEOLITHIQUE



2000

1800

1600

1400

1200

1000

Vie de Ramsès II

Règne de Ramsès II



A quoi servent-elles ?

Le Némès

Le cobra protecteur


Le bâton du berger. Avec le fléau se sont les insignes du pouvoir

Ousekh, collier traditionnel égyptien

Étui-mekes

Le mékès est le décret confiant la gestion de l'Égypte à Pharaon.

Ramsès II,
Statue en granit,
h : 194 cm, Musée égyptien, Turin (Italie)




A quoi servent-elles ?

Ousekh,
collier traditionnel
égyptien

Étui-mekes

Ramsès II,
Statue en granit,
h : 194 cm, Musée
égyptien, Turin (Italie)

Le pharaon porte les symboles du pouvoir :



+



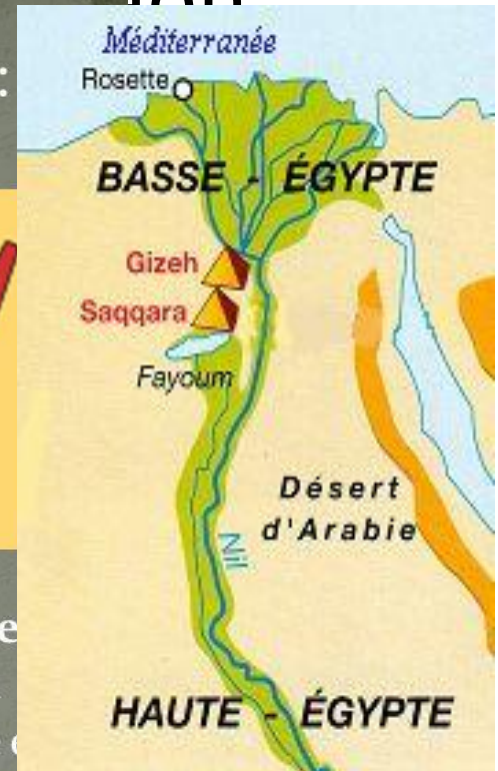
=



La Couronne Blanche :
elle symbolise le pouvoir du pharaon sur la Haute Egypte.

La couronne rouge:
symbolise la basse egypte .

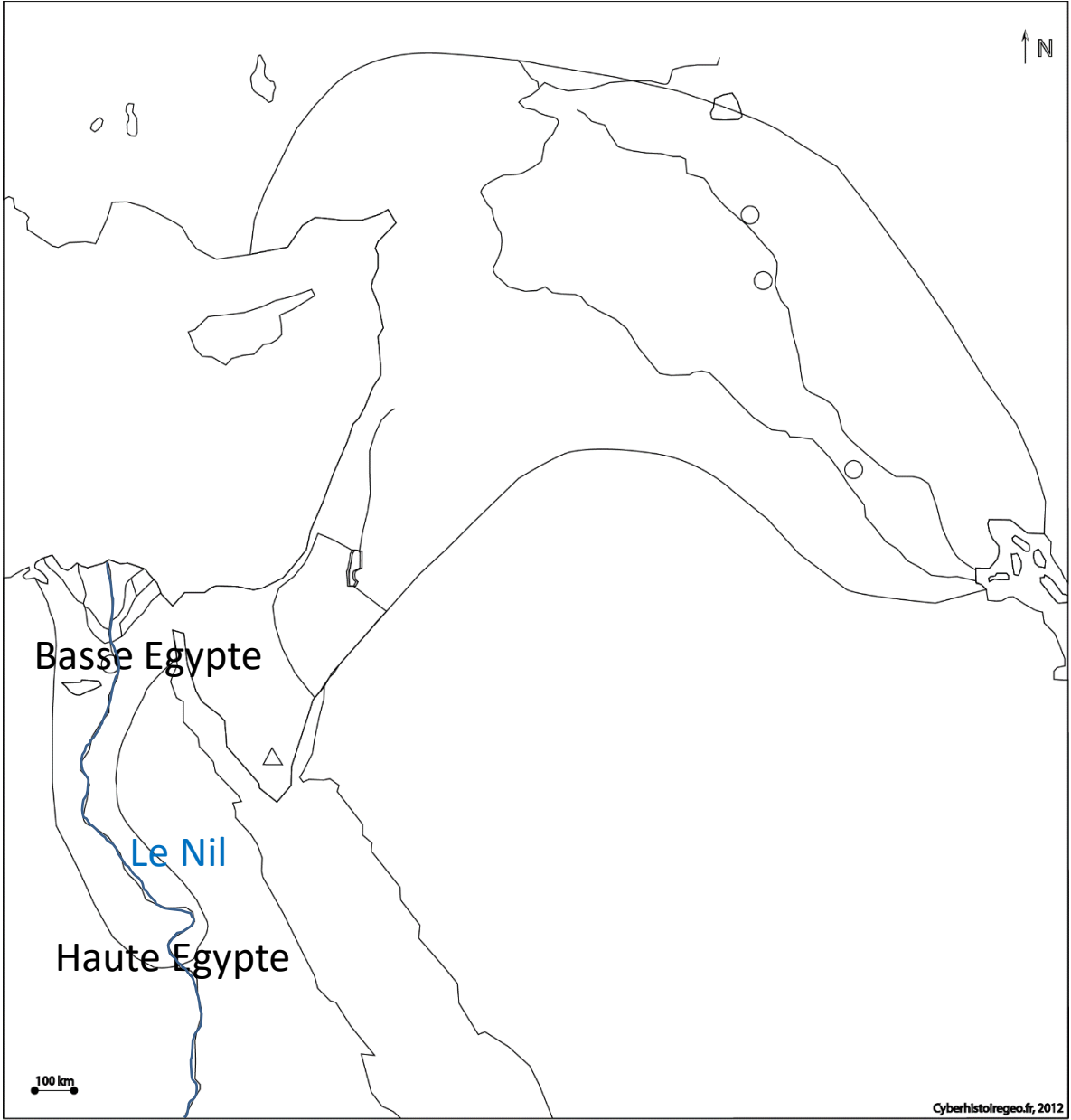
Double Couronne
Combinaison de la Couronne Blanche et de la Couronne Rouge = l'union des deux egyptes

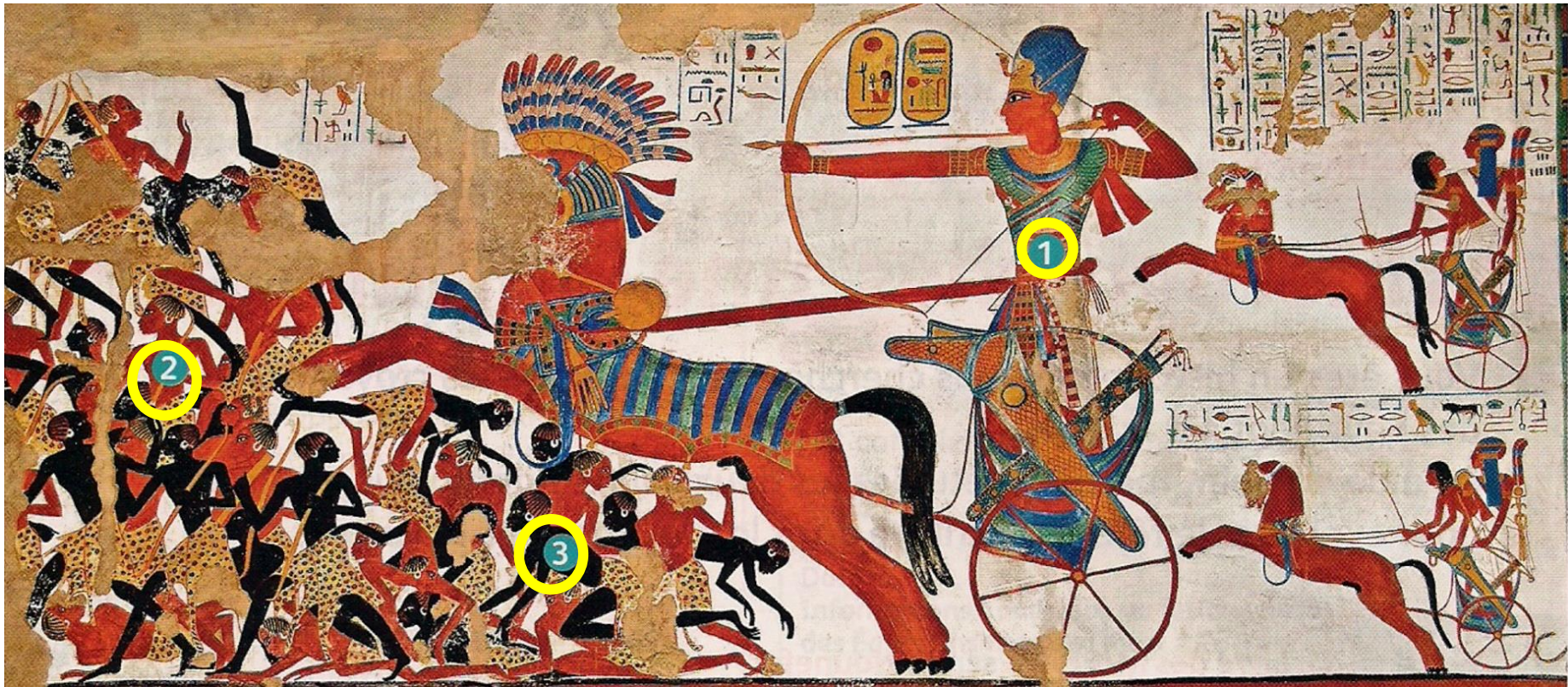


L'Égypte est gouvernée par Pharaon.

Il porte les insignes du pouvoir comme le sceptre ou encore le fléau.

Il peut être coiffé du Kheprech, couronne de guerre, ou encore du Pschent, formé des deux couronnes de Basse et de Haute-Égypte, emboîtées, symbole d'union des deux terres.






Copie de la fresque du temple d'Amon (Dieu-soleil), construit par Ramsès II, Beit el-Wali (Nubie), British Museum, Londres (Royaume-Uni).

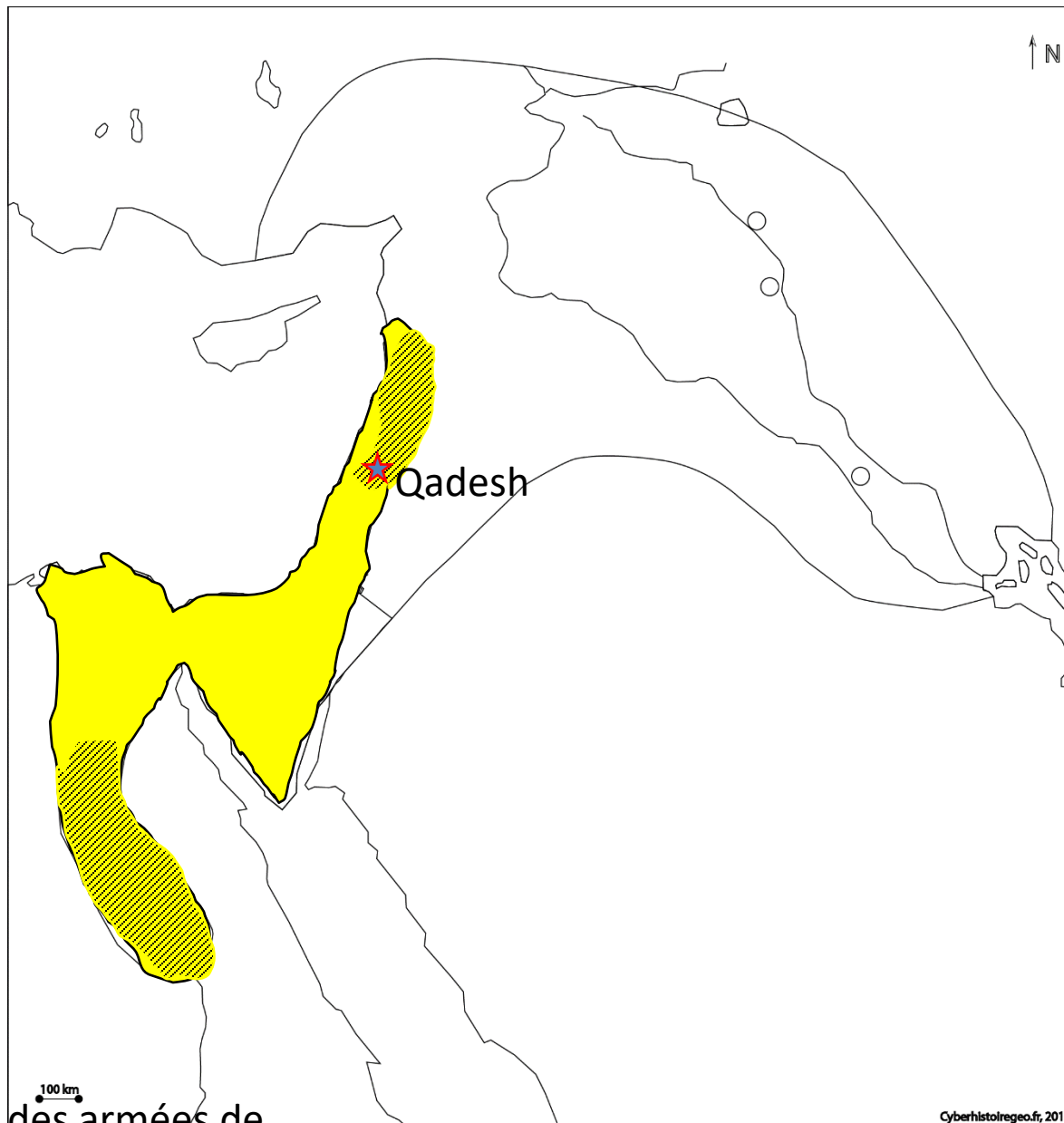
1. Le pharaon Ramsès II sur son char
2. Des soldats égyptiens
3. Des ennemis nubiens

Pharaon est un chef de guerre. Il protège l'Égypte de ses ennemis et il fait la conquête de certains territoires. (la Nubie par exemple)

Par exemple en 1274 av JC, l'armée de Ramsès II, prend part à la bataille de Qadesh, pour le contrôle de la ville contre un peuple ennemi, les Hittites.



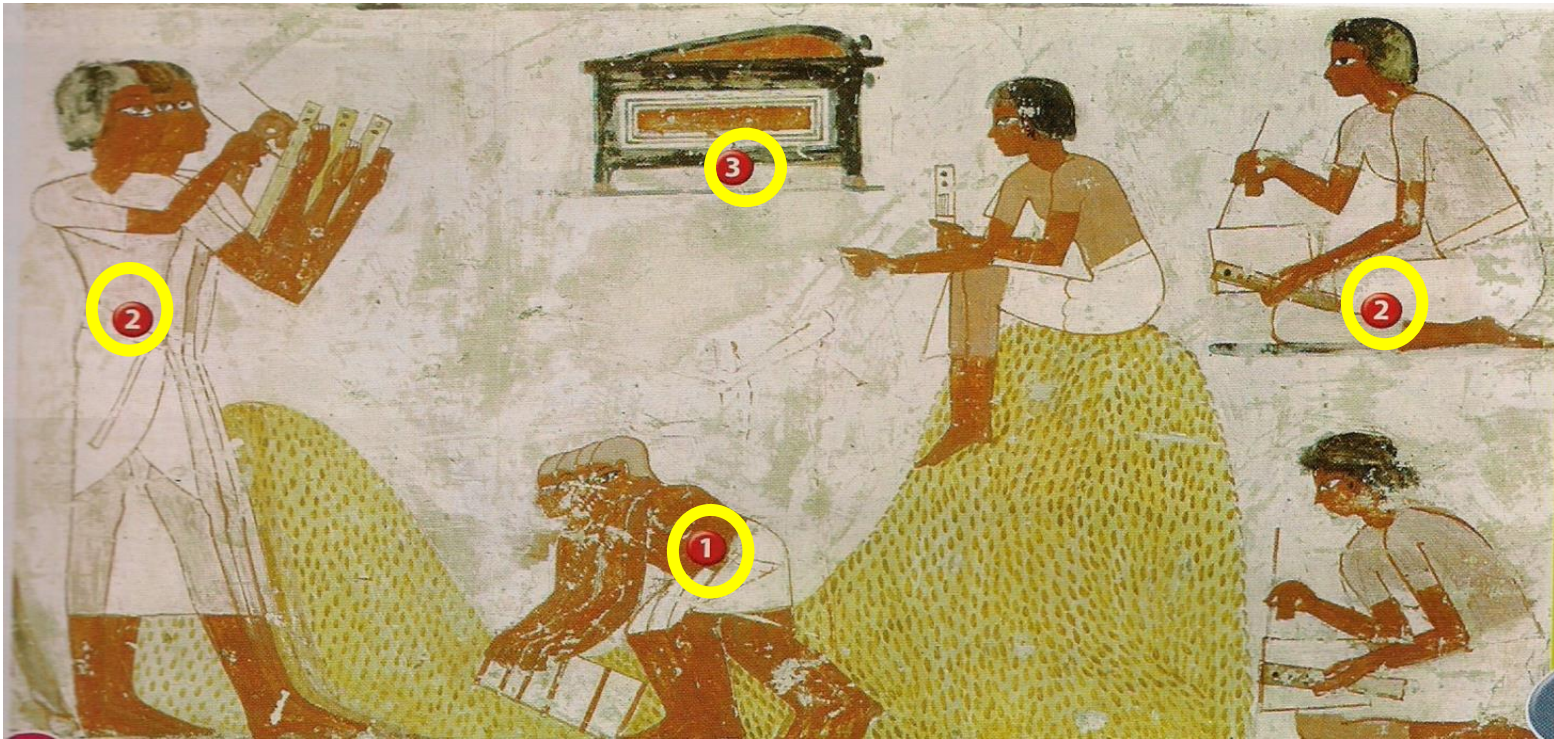
Ramsès II à la bataille de Qadesh. Bas-relief au temple d'Abou Simbel



★ Bataille des armées de Ramsès

■ Egypte sous Ramsès II

▨ Conquêtes de Ramsès



Peinture de la tombe de Menna, vers 1300 av. J.-C., Thèbes (Egypte)

1. Des paysans qui mesurent la quantité de céréales.
2. Des scribes enregistrant les récoltes et les taxes.
3. Coffre contenant le matériel des scribes.

Menna est « scribe des champs du pharaon ». Il emploie de nombreux scribes pour s'occuper de l'enregistrement des récoltes.

Les scribes sont des fonctionnaires, c'est-à-dire des personnes au service de l'Etat. Ils sont au service de Pharaon et l'aident à gérer son territoire. Le Pharaon est le chef de l'administration. Ils perçoivent pour Pharaon les impôts sur les récoltes.

P.58-59


LES PYRAMIDES D'EGYPTE: L'EXEMPLE DE GIZEH

ÉTUDE


Le site de Gizeh

Au III^e millénaire avant J.-C., des pharaons ont fait construire d'immenses pyramides à Gizeh, en Basse-Egypte.

► Que nous apprend le site de Gizeh sur le pharaon Chéphren ?

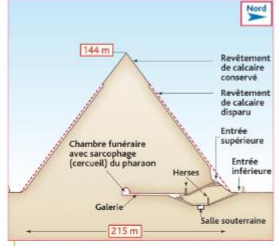


COMPÉTENCE
De comprends un document
Une photographie de site de Gizeh



Vocabulaire
Un pharaon : un roi de l'Égypte ancienne.
Une pyramide : le tombeau d'un pharaon.

2 La pyramide : un « escalier du ciel »
« Par un tel monument, le corps du pharaon semblait mieux protégé et sa tombe se distinguait des demeures éternelles des autres mortels ; mais surtout, le pharaon devait monter au ciel pour rejoindre le dieu soleil Râ et la pyramide apparaît alors comme un « escalier du ciel » [...] A Gizeh, la forme du monument rappelle celle des rayons du soleil qui tombent de derrière les nuages. »
Guy Rachet, Dictionnaire de la civilisation égyptienne, Larousse, 2005.



1 La statue du pharaon Chéphren
(Statue découverte dans le temple bas de la pyramide de Chéops, vers 2550 avant J.-C., 1,68 m, grès)
Chéphren (kâfré en égyptien, « Râ apparaît ») est un pharaon qui a régné sur l'Égypte vers 2550 avant J.-C. Il est le frère ou le fils de Chéops et son successeur.
1 La coiffe royale : le némès
2 Le faucon (dieu Horus)
3 La barbe postiche des dieux
4 Le pharaon tenait le testament des dieux (qui lui confiait le pays)
5 Hiéroglyphe de la Haute et Basse-Egypte

3 coupe de la pyramide de Chéphren

144 m
215 m
Revetement de calcaire conservé
Revetement de calcaire disparu
Chambre funéraire avec sarcophage (cercueil) du pharaon
Galerie
Salle souterraine
Horses
Entrée supérieure
Entrée inférieure
Nord



Pyramide de Chéphren
Pyramide de Chéops

4 Le site de Gizeh



Pyramide de Chéphren
Temple funéraire haut (pour les offrandes)
Pyramide de Chéops
Mastabas ?
Chaussée
Sphinx
Port de la pyramide
Temple funéraire bas (pour préparer le corps)
1. Tombeaux pour les dignitaires

5 Schéma du site de Gizeh

ACTIVITÉS

1. Doc. 4 De comprends un document
1 Situez le site photographié.
2 A quoi correspond chaque numéro sur la photographie (voir doc. 5) ?
3 Décrivez la pyramide de Chéphren (nombre de faces, largeur de sa base, hauteur). Où était déposé le corps du pharaon (voir doc. 3) ?
4 Que faisait-on dans les temples funéraires ? À quoi servait le Sphinx ?

2. Doc. 2 Pourquoi le pharaon faisait-il placer son corps dans une pyramide ?

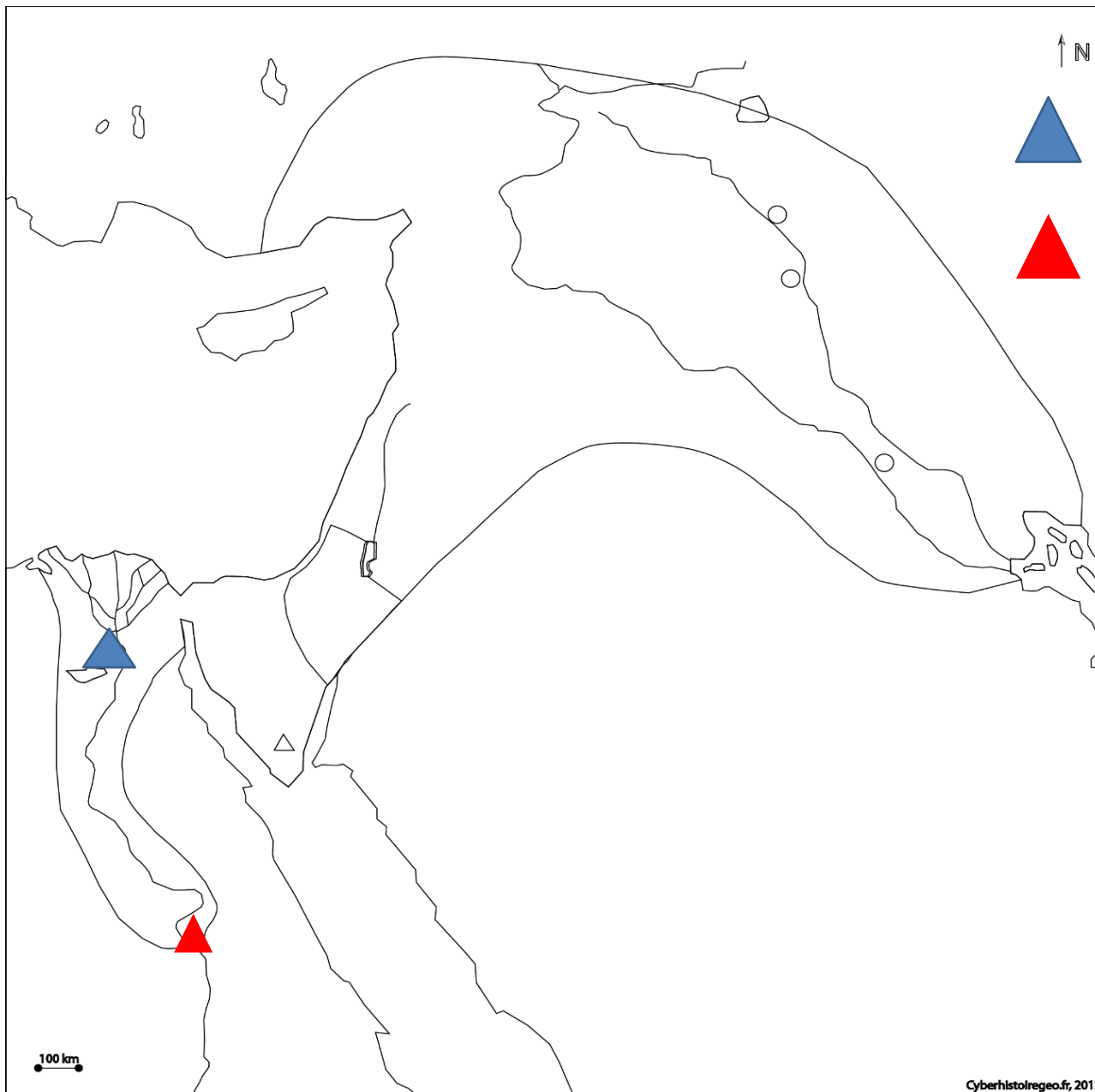
3. Doc. 1 Où a été retrouvée cette statue ? Quels éléments rattachent Chéphren à un « dieu vivant » ?

58 | Premiers États, premières écritures 59

Sur votre CAHIER, sur une nouvelle page.
SUR LA PAGE DE GAUCHE
Ecrire le titre puis lire les documents et répondre aux questions. (P.59).

SUR LA PAGE DE DROITE

Faire une recherche à la maison:
Coller une image d'une Pyramide d'Égypte en indiquant :
- le lieu
- le pharaon qui s'y trouve
- la date



Gizeh



« Vallée des
Rois ».
Sépulture de
Ramsès II

100 km

Cyberhistoergeo.fr, 2012



CL: En Egypte, le Pharaon, « enfants de Dieux », possède tous les pouvoirs.

Faites de
beaux
rêves les
petits !

