

Leçon 2 : Découvrir la France

1. La France dans le monde

A. La France dans l'Europe

La France et ses voisins européens

Colorie les pays en respectant le code couleur.



La France se situe en Europe de l'ouest. La plus grande partie du territoire est couverte par des espaces ruraux (campagnes) mais la France est un pays urbain: sur près de 67 millions d'habitants, plus de 54 millions vivent en ville. Le territoire de la France comporte des régions, divisées en départements, eux-mêmes divisés en communes (villes). La France est le plus vaste pays de l'Union Européenne. Elle est le deuxième par sa population, juste derrière

l'Allemagne. La partie européenne du territoire français a la forme d'un hexagone : une figure à 6 côtés. C'est pourquoi on parle souvent de l'Hexagone pour la désigner.

B. La France d'Outre-mer



LA FRANCE ET LES DOM-TOM

La France n'est pas un pays isolé et elle ne comporte pas que le territoire européen. Elle possède des territoires loin de l'Hexagone : c'est la France d'outre-mer. Les départements et régions d'outre-mer (DROM) sont presque tous des îles situées dans l'océan Atlantique (ex : la Guadeloupe, la Martinique) ou l'océan Indien (ex : Mayotte, la Réunion). Ainsi, la France est présente partout dans le monde grâce à ses territoires auxquels elle est liée politiquement et par la pratique du français.

CHOISIS UN QUESTIONNAIRE SUR L'UN DES TERRITOIRES D'OUTRE-MER ET PRESENTE LES REPONSES A LA CLASSE SOUS FORME D'EXPOSE.

2. Le relief de la France

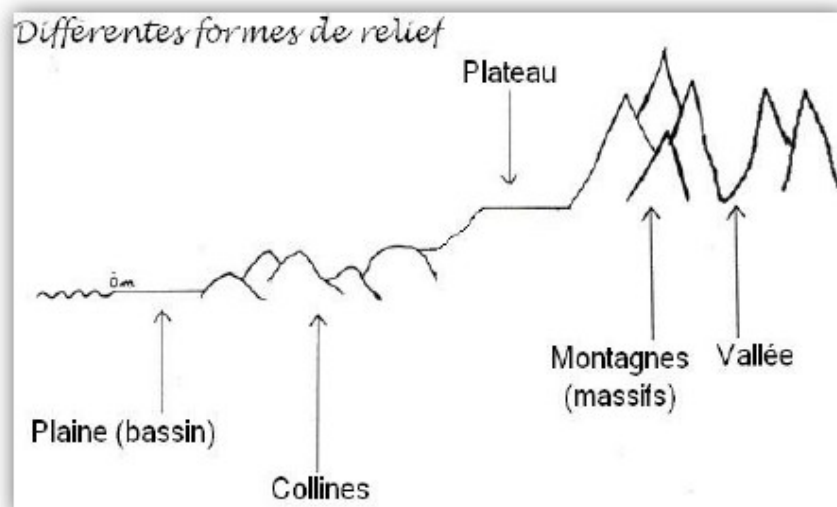
A. Qu'est-ce que le relief ?

Le **relief** est l'ensemble des irrégularités (= quand ce n'est pas régulier) du sol qui se mesurent par rapport au niveau de la mer. Le relief des continents comporte : les plaines, les plateaux et les chaînes de montagnes.

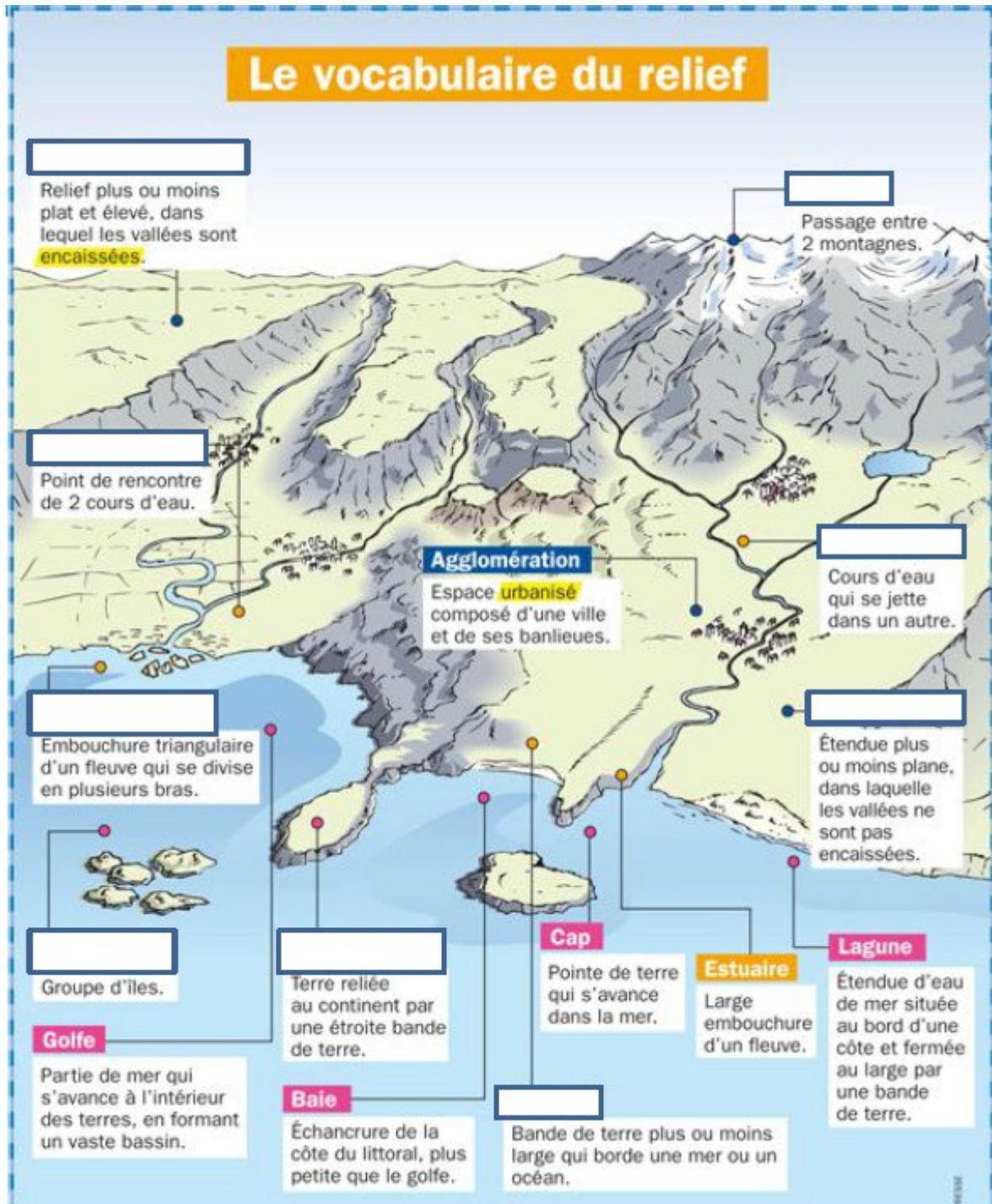
Légende les illustrations suivantes avec les noms de chaque type de relief.



Les plaines sont des étendues planes de faible altitude et dont les cours d'eau coulent dans des vallées peu encaissées. Les plaines sont en général de grandes régions agricoles.
Les plateaux sont des étendues planes d'altitude plus élevée que la plaine où les rivières creusent de profondes vallées.
Les montagnes présentent des reliefs de grande altitude et des pentes escarpées.



B. Le vocabulaire du relief

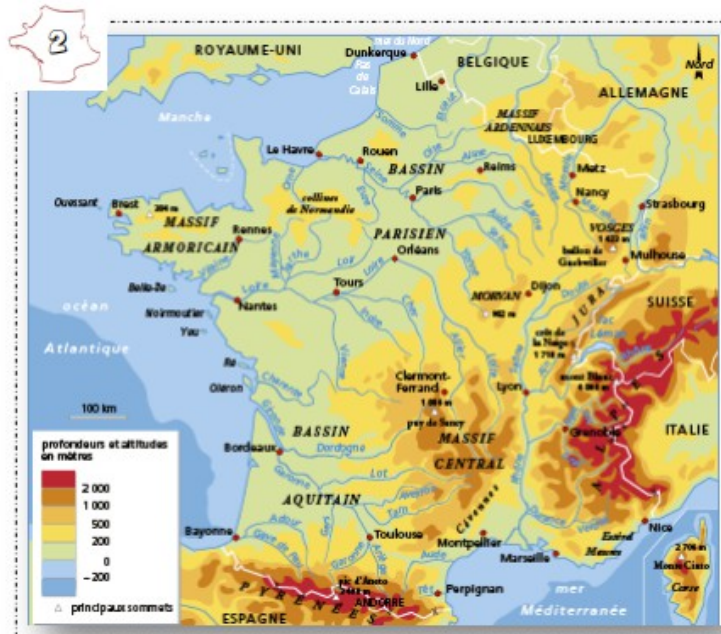


Complète avec les mots suivants : plaine, littoral, plateau, col, presqu'île, archipel, delta, confluent, affluent.

C. La France

1 Des reliefs variés

Si l'on trace une ligne de Bayonne à Strasbourg, on trouve, à l'Ouest de cette ligne, des plaines (Bassin aquitain, Bassin parisien) et des plateaux peu élevés (Massif armoricain). Au sud et à l'Est, on observe des montagnes : des massifs peu élevés (Vosges, Massif central) et de hautes montagnes (Jura, Alpes, Pyrénées). Les Alpes sont très élevées mais franchissables par des cols. Les Pyrénées et le Massif central sont plus difficiles à traverser. Le relief est marqué par de grandes entailles comme la plaine d'Alsace ou la Vallée du Rhône.



3



Paysage de Normandie (Bassin parisien)



Massif du Canigou dans les Pyrénées

1. Selon toi, que signifient les différentes couleurs de la carte (docs 1&2)

2. Cite le nom des mers et des océans qui bordent la France (doc 2)

3. Comment appelle-t-on le paysage de Normandie ? Celui des Pyrénées ? (doc 3)



De grandes vallées fluviales

La France est traversée par cinq grands fleuves : la Seine, le Rhône, la Garonne, la Loire et le Rhin. Les vallées dans lesquelles ils coulent sont des vallées fluviales. Elles offrent des surfaces planes, faciles à aménager. C'est pourquoi elles concernent les grandes agglomérations et les axes de communication : routes, autoroutes, voies ferrées, voies TGV. Les fleuves français se différencient par leur longueur (la Loire est le plus long) et leur débit (le Rhône a le plus fort débit). Tout au long de leur cours, les fleuves reçoivent des affluents et grossissent jusqu'à leur embouchure. Afin de se protéger d'éventuelles crues et pour faciliter la circulation, les hommes ont aménagé certains fleuves.



Grenoble dans la vallée de l'Isère

4. Quels sont les cinq fleuves qui traversent la France ? (doc 4)

5. Recherche dans le dictionnaire les mots affluent et embouchure (doc 4).

Affluent :

Embouchure :

6. Pourquoi a-t-on construit des villes près des fleuves et rivières (doc 4&5) ?

La France a des paysages variés. Au nord et à l'ouest, on trouve des plaines et des plateaux peu élevés. Au sud et à l'est, on observe des hautes montagnes et des massifs peu élevés. On compte cinq grandes zones montagneuses : les Vosges ; le Massif Central ; le Jura, les Alpes, les Pyrénées. Certaines montagnes sont élevées mais franchissables (cols, tunnels, viaducs...)

Un **fleuve** est un **cours d'eau qui se jette dans la mer ou dans un océan**. Les fleuves prennent leur source en montagne ou sur des plateaux et ils coulent vers la mer. La France est traversée par cinq grands fleuves : la Loire, la Garonne, la Seine, le Rhône et le Rhin. Les fleuves ont été aménagés pour différentes raisons:

- Ils servent pour la navigation et le commerce,
- L'homme utilise également les fleuves pour fabriquer de l'énergie.

La France est entourée de 3 mers (la mer du Nord et la Manche au Nord, la Méditerranée au sud) et d'un océan (l'océan Atlantique à l'ouest).

3. Le climat de la France

Le **climat** désigne l'état de l'atmosphère dans un lieu donné : la température, les phénomènes atmosphériques, les précipitations, l'ensoleillement.

A. Les précipitations

En météorologie, une **précipitation** est une humidité qui tombe du ciel sous forme de pluie, de neige ou de grêle. A la surface de la terre, la hauteur de précipitation est mesurée grâce à un pluviomètre et se calcule en millimètres.

Observe la carte des précipitations annuelles en France ci-dessus et réponds :

Cite les régions où il pleut le moins :

.....

Cite les régions où les précipitations sont importantes :

.....

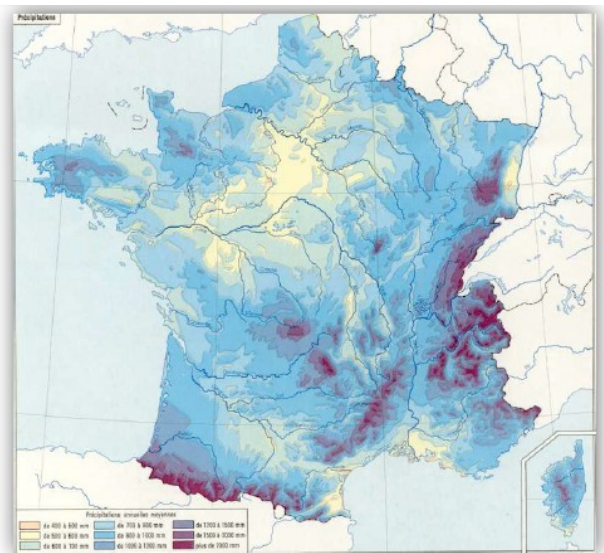
Compare cette carte avec celle du relief de la France. Penses-tu que le relief a une influence sur les précipitations ?

.....

.....

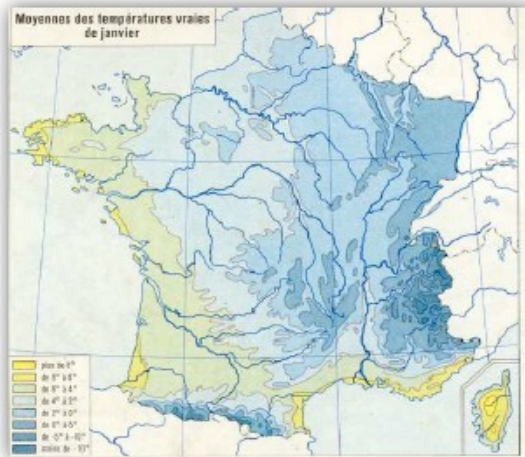
.....

.....



B. Les températures

➤ Les températures



Observe les cartes des températures moyennes en France puis réponds :

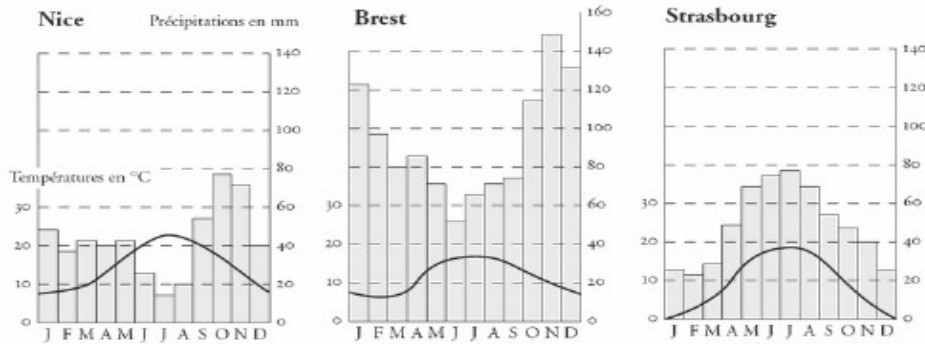
Où fait-il le plus froid en janvier et en juillet ?

Dans quelle région les températures sont-elles les plus élevées ?

C. L'ensoleillement

➤ Comparer les différents climats français

Document 1 : Diagrammes ombrothermiques de trois villes de France

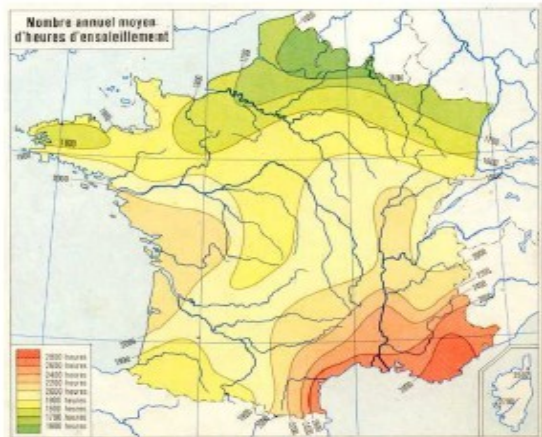


Document 2 : l'ensoleillement

Observe la carte du nombre annuel d'heures d'ensoleillement puis réponds :

Où y a-t-il le plus d'ensoleillement en France durant l'année ?

Le moins d'ensoleillement ?



D. Les types de climat

La France est située en zone tempérée. Elle offre néanmoins une variété de conditions climatiques sur son territoire :

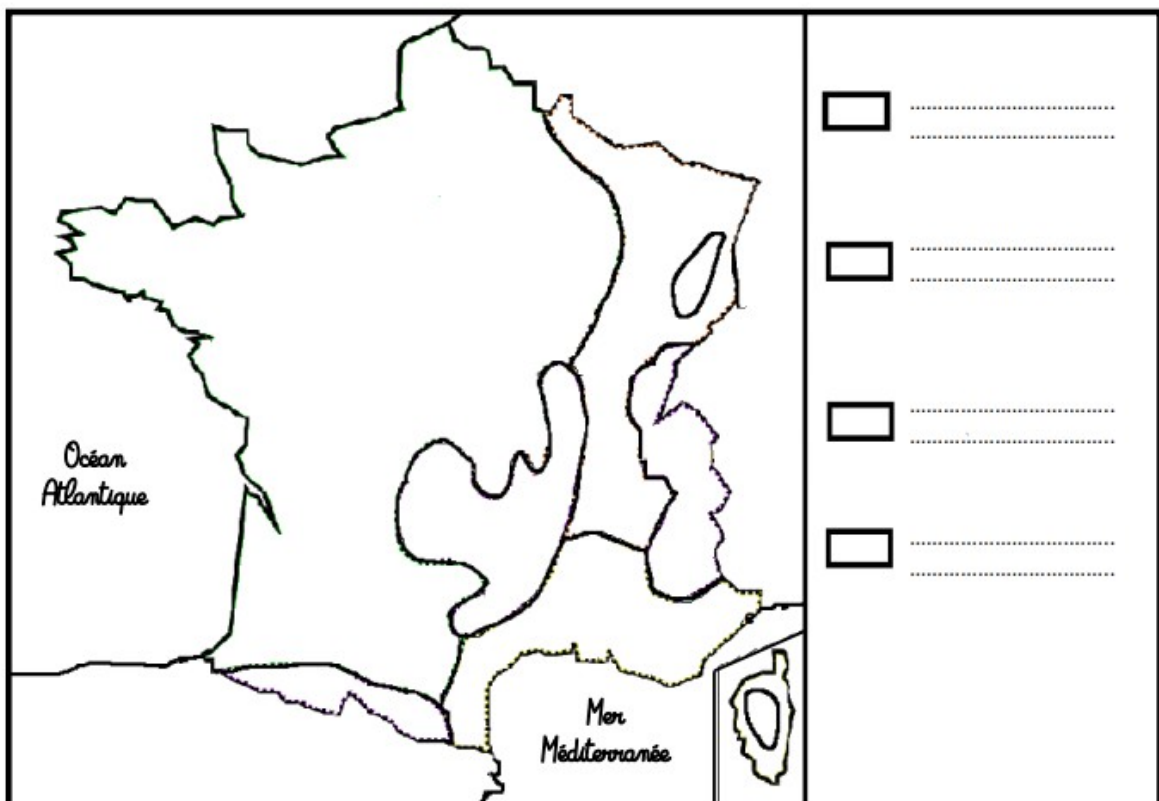
- le **climat océanique** (en vert), qui s'étend dans la partie ouest et englobe une grande partie du pays. Les hivers sont doux et les étés frais. Les précipitations sont régulières et abondantes.

- le **climat continental** (en bleu), à l'est de la France qui s'étend entre le Massif Central et les Alpes. Les hivers y sont rudes et enneigés tandis que les étés connaissent de fréquents orages.

- le **climat méditerranéen** (en jaune), qui borde la mer Méditerranée au sud-est de la France. Les hivers sont doux et les étés chauds et secs. Les pluies abondantes tombent sous forme d'averses, surtout en automne et au printemps.

- le **climat montagnard** (en marron), que l'on retrouve dans les Alpes, les Pyrénées, le Massif Central, les Vosges, le Jura et en Haute Corse. Il se remarque par un fort enneigement en hiver.

1. A l'aide des mots en gras du texte, complète la carte des climats de France :



4. Le découpage de la France

A. Les départements

Depuis la révolution française de 1789, la France est divisée en départements. De nos jours, il y a en 101 : 96 en métropole, 5 outre-mer.

Ils ont tous un numéro qui correspond à un classement alphabétique.

Certains départements ont pris le nom du fleuve qui le traverse ou de la chaîne de montagnes qui le domine.

Les départements sont tous à peu près de la même taille, mais leur population peut-être très différente de l'un à l'autre :

Certains départements urbains*, comme le Rhône, sont très peuplés. D'autres, ruraux* comme la Lozère, ont moins de 100 000 habitants.



Lis les textes ou observe le tableau et réponds

❶ Depuis quand les départements existent-ils ?

❷ Pourquoi, les départements ruraux ont une population moins importante que les départements urbains ?

Dans chaque département, les habitants élisent des conseillers généraux qui choisissent ensuite leur président.

Le conseil général s'occupe des transports publics (bus, cars, métro, tramway...), des collèges, des services sociaux du département.

De son côté, le gouvernement nomme un préfet qui le représentant de l'Etat dans le département : il y dirige les services de l'Etat et il est chargé du maintien de l'ordre.

❸ De quoi s'occupe le conseil général ?

❹ Comment s'appelle le représentant de l'Etat dans le département ?

Depuis la Révolution française, la France est découpée en 101 départements : 96 en **métropole** (= territoire continental par opposition à l'**outre-mer**) et 5 outre-mer. Les départements ont des superficies à peu près identiques, mais leur population peut être très différente d'un département à l'autre. Les citoyens élisent tous les 6 ans des conseillers généraux. Le conseil général s'occupe des transports publics (bus, cars, métro, tramway...), des collèges, des services sociaux du département.



2 Observe la carte des départements ci-dessus et réponds

1 Colorie en rouge le département 24 (c'est celui de maîtresse Céline !).
Comment s'appelle-t-il ?

2 Cite le département et son numéro :

- le plus à l'ouest : _____
- le plus au sud : _____
- le plus au nord : _____

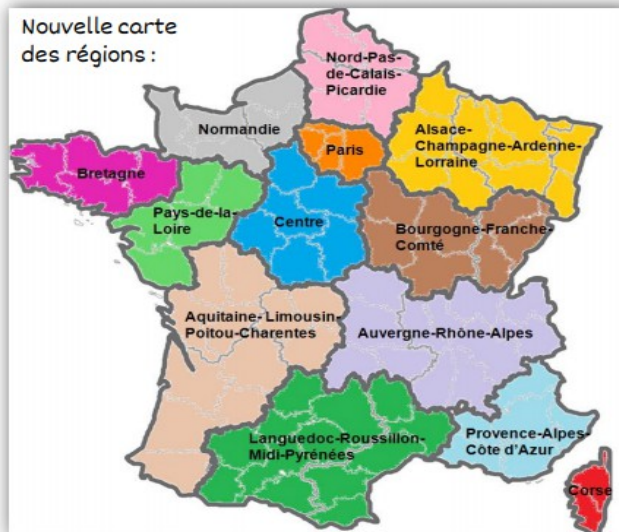
B. Les régions

Jusqu'au 1^{er} janvier 2015, la France était organisée en 22 régions en métropole et 5 régions d'outre-mer qui regroupaient 2 à 8 départements. Les limites de certaines régions ont évolué avec le temps, comme Nantes qui avant, faisait partie de la Bretagne.

Depuis le 1^{er} janvier 2015, il y a désormais 13 régions en métropole et toujours 5 régions d'outre-mer.

Les citoyens de chaque région élisent des conseillers régionaux. Le conseil régional s'occupe des lycées, de la formation professionnelle, des entreprises, des transports...

Nouvelle carte des régions :



En France, il y a 22 régions qui regroupent plusieurs départements. Les citoyens de chaque région élisent des conseillers régionaux. Le conseil régional s'occupe des lycées, de la formation professionnelle, des entreprises, des transports...

Pour terminer cette leçon sur la France, je te propose de faire un exposé sur une région de ton choix. Tu devras présenter :

- Les départements qui composent la région
- La population (nombre d'habitants), superficie
- Les villes principales
- Le climat, relief, position géographique dans la France
- Le drapeau

Pour aller plus loin, tu peux regarder les vidéos suivantes sur YOUTUBE :

- C'est pas sorcier, géologie de la France
<https://www.youtube.com/watch?v=Xr9WJ-lTg-c>
- C'est pas sorcier, cartographie
<https://www.youtube.com/watch?v=Ft6KM9AzKig>
- La géographie de la France
<https://www.youtube.com/watch?v=T3rxLDer5nU>

Si tu as des difficultés de compréhension, tu peux demander à ton maître ou à ta maîtresse, ou m'envoyer un mail sur mon adresse

celine.treno@gmail.com.

Bon travail !