

Nom \_\_\_\_\_

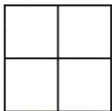
Date \_\_\_\_\_




$\frac{1}{4}$

## FRACTIONS

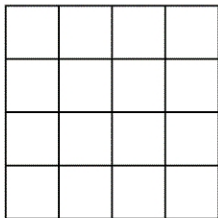
Colorie le quart de chaque figure.




Le quart de 4 est \_\_\_\_



Le quart de 12 est \_\_\_\_



Le quart de 16 est \_\_\_\_



Le quart de 8 est \_\_\_\_

**Petit rappel :**

Quand on partage une figure pour obtenir des quarts, on partage la figure en quatre parties égales.