
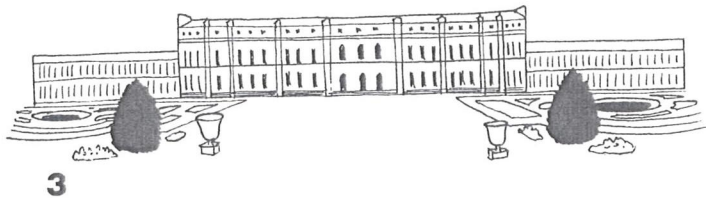



5 Châteaux de France



Voici quatre châteaux construits à diverses époques par des rois français dont les dates de règne sont données dans le tableau.



Calcule la durée de chaque règne.

Attribue un roi, un château et le numéro du château représenté à chaque règne en t'aidant des indices suivants :

- Lorsqu'il monte sur le trône pour un des règnes les plus courts de l'Histoire de France, ce roi offre à sa favorite le château de Chenonceau qui enjambe un fleuve, le Cher.
- Après sa victoire de Marignan en 1515, François 1^{er} a fait construire le plus grand des châteaux de la Loire, reconnaissable à ses nombreuses tourelles.
- Ce roi Louis rendait la justice sous le vieux chêne devant le château de Vincennes. Cet autre Louis a connu le règne le plus long.
- Henri II était le successeur du roi bâtisseur du château de Chambord.
- Saint Louis n'a pas connu le château de Versailles dont le roi bâtisseur, 14^e roi à porter son prénom, était appelé le « Roi Soleil ».

Règne	Durée du règne	Roi	Château	Numéro
1226-1270				
1515-1547				
1547-1559				
1643-1715				

Aide tableau

Durées 12 - 32 - 44 - 72 ans
Rois François 1^{er} - Henri II - Louis XIV - Saint Louis
Châteaux Chambord - Chenonceau - Versailles - Vincennes

Aide vocabulaire

Favorite Maîtresse préférée d'un roi.
Tourelle Petite tour.
Enjambrer Franchir, passer par-dessus.
Rendre justice Faire le juge dans un désaccord.
Successeur Personne qui prend la suite d'une autre dans ses fonctions.
Bâtisseur Personne qui construit ou fait construire.