



COMPÉTENCE : Lire des graphiques.

Activités de recherche



- 1 Observe les graduations ci-contre. Pour chaque schéma A, B et C :
- Combien comptes-tu de graduations entre 20 et 30 ?
 - Quelle est la valeur de l'intervalle entre 2 graduations ?
 - Quel nombre la flèche rouge indique-t-elle ?



- 2 Observe les graduations ci-contre. Pour chaque schéma D et E :
- Quelle est la valeur de l'intervalle entre 2 graduations ?
 - À quel nombre correspond la flèche rouge ?



Attention, E est gradué en millions.



Banque d'Exercices et de Problèmes n° 31 p. 114.

S'exercer

Lire des graduations


- 1 Voici la jauge de carburant de la voiture de Paul.
- Indique la quantité de carburant qui reste dans le réservoir lundi et mardi.
 - Évalue la quantité de carburant qui reste dans le réservoir mercredi.



Lundi



Mardi

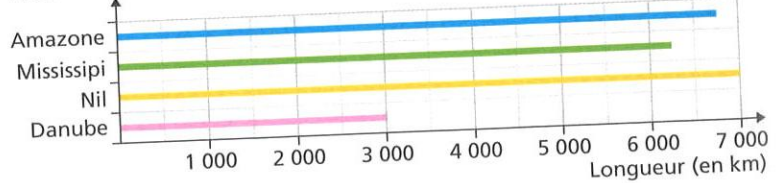


Mercredi

Socle commun 5

- 2
- Quelles sont les longueurs du Danube et du Nil ?
 - Le Mississippi mesure-t-il plus ou moins de 6 500 km ?
- Évalue sa longueur.
- Évalue la longueur de l'Amazonie.

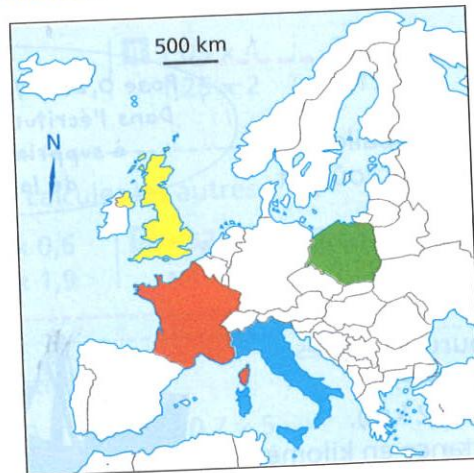
Fleuves du monde



Lire des graduations sur un graphique

Socle commun 5

- 3
- Quelle est la population de l'Italie ?
 - Quelle est la valeur de l'intervalle entre deux grandes graduations ?
 - Quelle est la population de la France ?
 - La Pologne a-t-elle plus ou moins de 35 millions d'habitants ?
- Évalue sa population.
- Le Royaume-Uni a-t-il plus ou moins de 65 millions d'habitants ?
- Évalue sa population.



Population (en millions d'habitants)

