

Exercice 1 : Maîtriser différents langages

/10

1) Décrivez les inégalités qui existent entre les territoires français. /4



Inégalités économiques entre les territoires dynamiques, riches (Ile de France, littoraux et zones frontalières, grandes métropoles françaises...) et zones moins dynamiques parfois en crise (Nord Est de la France, centre de la France, régions rurales, de montagnes...)

Inégalités Nord / Sud, zones urbaines/zones rurales, industries traditionnelle (Nord et Est de la France) / industrie de pointe (Sud, pôles de compétitivité...), quartiers centraux des villes /banlieues dites « sensibles »...




2) Donnez deux exemples concrets d'aménagements réalisés pour compenser ces inégalités. /2

- LGV SEA (voir cours)
- Port Jarry à la Guadeloupe (voir cours)
- Pont sur l'Oyapock en Guyane (voir cours)
- Le Louvre Lens (voir livre p.294 à 297)





3) Complétez les éléments manquant sur le croquis **et** dans la légende. /4**1) Métropolisation et polarisation des axes de communication**

-  Paris, métropole mondiale
-  Métropoles régionales





Principaux axes de communication

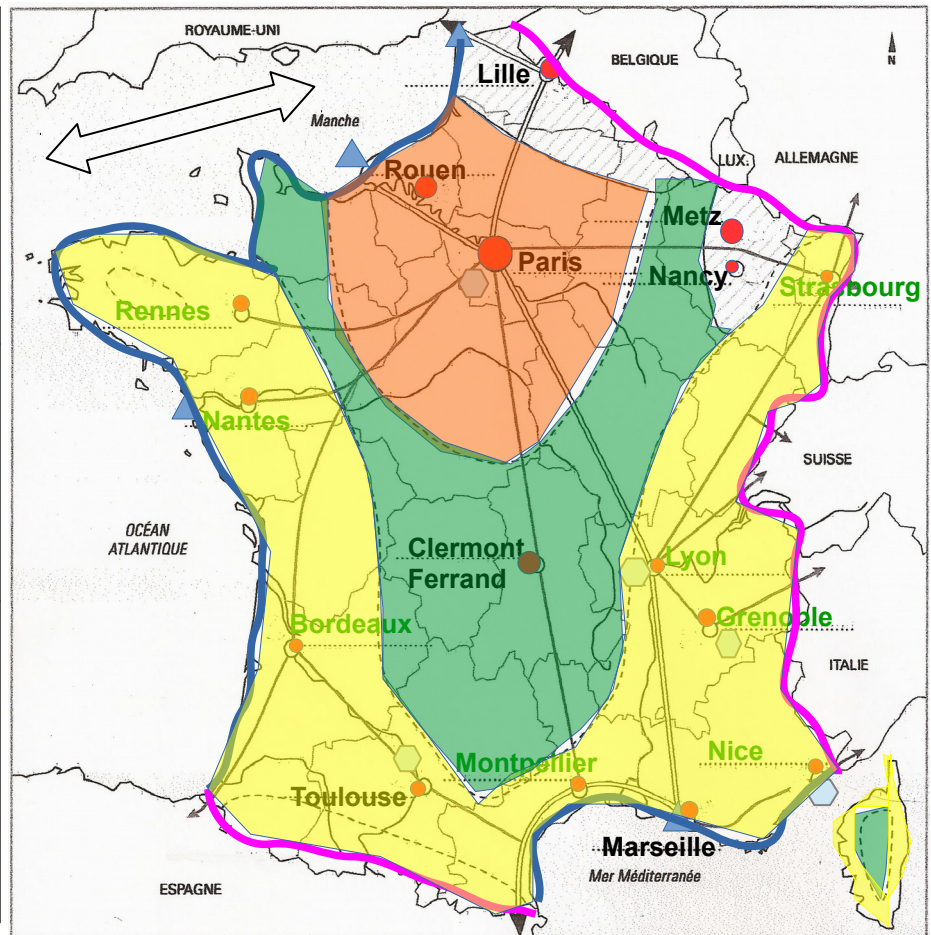
-  Nationaux
-  Européens
-  Axe maritime mondial

2) Les facteurs de dynamisme du territoire

-  Pôles de compétitivité mondiaux
-  Ports et ZIP
-  Littoraux attractifs
-  Frontières dynamiques

3) Un territoire marqué par des contrastes spatiaux

-  Un territoire central sous l'influence de Paris
-  Périphéries dynamiques (forte attractivité)
-  Région en reconversion difficile
-  Espace rural souvent en déprise



Document 1 : Vie chère et insularité

Marie-Galante est une île faisant partie de l'archipel de la Guadeloupe, territoire ultramarin français situé dans la mer des Caraïbes. Elle est distante d'environ 50 km et 1h en bateau de la ville principale de Guadeloupe, Pointe-à-Pitre.

Les clients se plaignent des prix, beaucoup plus élevés qu'en Guadeloupe. [...] Monique [...] est marie-galantaise d'origine. Maman de quatre enfants, elle se plaint de ce litre d'huile payé 2,40 euros au lieu des 1,09 à Pointe-à-Pitre. [...] Derrière un paysage de champs de canne à sucre verts qui s'avancent vers des plages cartes postales, sable blanc, cocotiers et eau turquoise à 27 degrés, la réalité n'est pas réjouissante : 31 % de chômage et une explosion de la précarité. [...] Au supermarché, le gérant [...] renvoie la faute sur les taxes et le coût du transport. « Un container que je fais venir d'Amiens a une valeur marchande de 16 000 euros. Quand il arrive chez moi, je suis à 27 000. Ensuite, je calcule ma marge pour essayer de vivre et payer mes dix employés », explique-t-il.

« Marie-Galante, au large de la Guadeloupe, souffre de sa double insularité », AFP, 25 février 2009.

- 1) Situez précisément Marie-Galante, de quel territoire ultramarin l'île dépend-elle ? (doc 1) /2
Marie Galante se situe dans l'Océan atlantique au large de la Guadeloupe, dans la mer des Caraïbes. Elle dépend de la Guadeloupe.
- 2) Pourquoi les produits sont-ils plus chers à Marie-Galante ? (deux raisons attendues). (doc 1) /2
C'est un territoire qui importe beaucoup de produits, parfois venant de loin (métropole française). Les produits qui arrivent à Pointe-à-Pitre doivent encore être transportés jusqu'à Marie Galante. Les coûts de transport et taxes sont élevés, et les commerçants doivent faire de la marge pour pouvoir payer les employés.
- 3) Relevez les éléments montrant les atouts de cette île ? (doc 1) /2
Cette île possède de nombreux atouts paysagers (« plages cartes postales, sable blanc, cocotiers et eau turquoise ») mais bénéficie aussi d'un climat propice au tourisme (« 27 degrés »). enfin elle dispose d'atouts économiques (agriculture « champs de canne à sucre »).
- 4) Présentez le document projeté. (doc 2) /2
Ce document est un extrait d'un article publié sur le site de la région Guadeloupe traitant des relations du DROM avec son espace régional.
- 5) Quels types de relations la Guadeloupe entretient-elle avec son espace régional ? (doc2) /2
Les relations sont plutôt bonnes mais pas très intenses, d'où la volonté d'intensifier la collaboration avec les autres pays de son espace régional, notamment sur les plans institutionnels, culturels et commerciaux.