

Les unités de longueur

Taille-distance

Quand on veut mesurer une hauteur, une taille ou une distance entre deux endroits on utilise comme unité le mètre.

1° / Essaie d'estimer, de donner le poids de chaque personnage ou objet
(Colorie la bonne réponse en bleu/ la correction se fera en rouge)

M= Mètre

1 m	10m	50m
-----	-----	-----

100m	500m	15m
------	------	-----

10m	1m	40m
-----	----	-----

200m	5m	30m
------	----	-----

1m	4m	20m
----	----	-----

1m	6m	25m
----	----	-----

50m	10m	2m
-----	-----	----

5m	2m	1000m
----	----	-------

3m	1000m	25m
----	-------	-----

10m	2m	90m
-----	----	-----

Mon score sur 10 est/10

Selon la taille des objets ou selon la distance on utilise des unités




Pour un objet tout petit on utilisera les millimètres ou les centimètres alors que pour un grand on utilisera le mètre

millimètre

centimètre

mètre

kilomètre

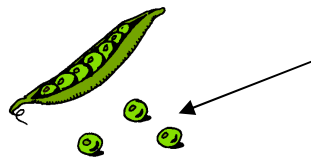



10 millimètres = 1 centimètre

100 centimètres = 1 mètre

1000 mètres = 1 kilomètre

Écris en dessous de chaque image millimètre-centimètre-mètre-kilomètre





.....

.....

.....

.....



.....

.....

.....

.....