

Propose la fin correcte de la suite de nombres.



250	260			
-----	-----	--	--	--



Propose la fin correcte de la suite de nombres.



715	720			
-----	-----	--	--	--



Propose la fin correcte de la suite de nombres.



367	370			
-----	-----	--	--	--



Propose la fin correcte de la suite de nombres.



248	250			
-----	-----	--	--	--



Propose la fin correcte de la suite de nombres.



145	150			
-----	-----	--	--	--



Propose la fin correcte de la suite de nombres.



880	890			
-----	-----	--	--	--



Propose la fin correcte de la suite de nombres.



120	130			
-----	-----	--	--	--



Propose la fin correcte de la suite de nombres.



555	560			
-----	-----	--	--	--



Propose la fin correcte de la suite de nombres.



436	439			
-----	-----	--	--	--



Propose la fin correcte de la suite de nombres.



510	512			
-----	-----	--	--	--



Propose la fin correcte de la suite de nombres.



315	320			
-----	-----	--	--	--



Propose la fin correcte de la suite de nombres.



740	750			
-----	-----	--	--	--



Propose la fin correcte de la suite de nombres.



406	416			
-----	-----	--	--	--



Propose la fin correcte de la suite de nombres.



222	227			
-----	-----	--	--	--



Propose la fin correcte de la suite de nombres.



786	789			
-----	-----	--	--	--



Propose la fin correcte de la suite de nombres.



88	90			
----	----	--	--	--



Propose la fin correcte de la suite de nombres.



75	80			
----	----	--	--	--



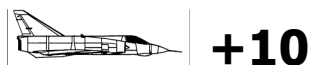
Propose la fin correcte de la suite de nombres.



314	324			
-----	-----	--	--	--



Propose la fin correcte de la suite de nombres.



544	554			
-----	-----	--	--	--



Propose la fin correcte de la suite de nombres.



285	290			
-----	-----	--	--	--



Propose la fin correcte de la suite de nombres.



363	366			
-----	-----	--	--	--



Propose la fin correcte de la suite de nombres.



872	874			
-----	-----	--	--	--



Propose la fin correcte de la suite de nombres.



615	620			
-----	-----	--	--	--




Propose la fin correcte de la suite de nombres.




111	121			
-----	-----	--	--	--




Observe ce nombre et sa décomposition et indique ce qu'il manque




Observe ce nombre et sa décomposition et indique ce qu'il manque




Observe ce nombre et sa décomposition et indique ce qu'il manque




Observe ce nombre et sa décomposition et indique ce qu'il manque



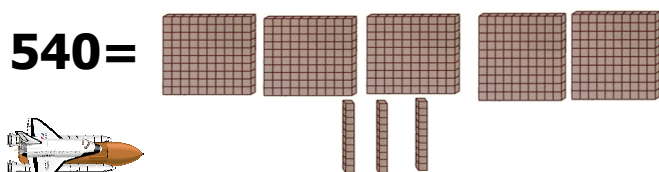
Observe ce nombre et sa décomposition et indique ce qu'il manque




Observe ce nombre et sa décomposition et indique ce qu'il manque



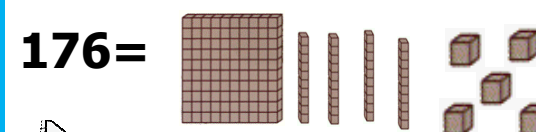
Observe ce nombre et sa décomposition et indique ce qu'il manque




Observe ce nombre et sa décomposition et indique ce qu'il manque



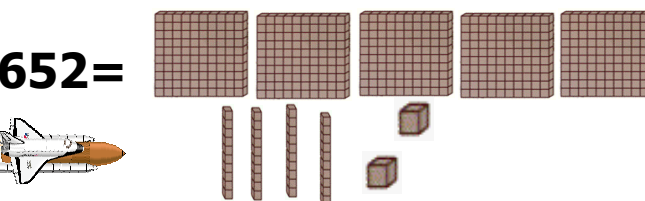
Observe ce nombre et sa décomposition et indique ce qu'il manque



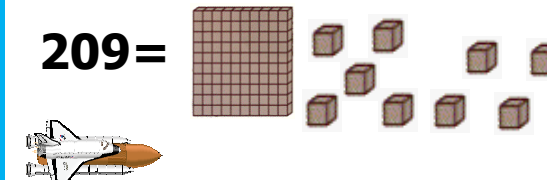
Observe ce nombre et sa décomposition et indique ce qu'il manque



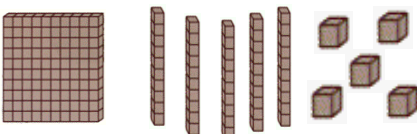
Observe ce nombre et sa décomposition et indique ce qu'il manque



Observe ce nombre et sa décomposition et indique ce qu'il manque




Observe ce nombre et sa décomposition et indique ce qu'il manque

$$255 =$$


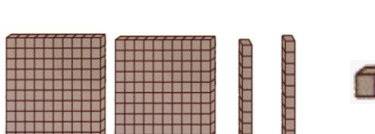


Observe ce nombre et sa décomposition et indique ce qu'il manque

$$512 =$$





Observe ce nombre et sa décomposition et indique ce qu'il manque

$$241 =$$


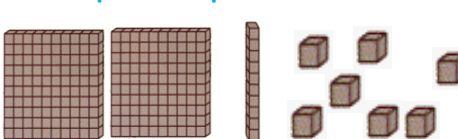


Observe ce nombre et sa décomposition et indique ce qu'il manque

$$413 =$$





Observe ce nombre et sa décomposition et indique ce qu'il manque

$$818 =$$




Observe ce nombre et sa décomposition et indique ce qu'il manque

$$907 =$$





Observe ce nombre et sa décomposition et indique ce qu'il manque

$$330 =$$





Observe ce nombre et sa décomposition et indique ce qu'il manque

$$385 =$$


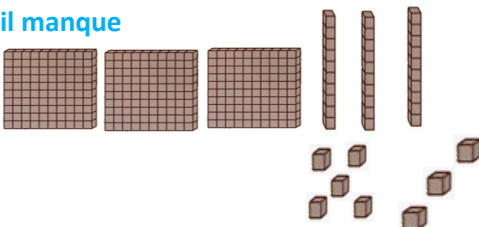


Observe ce nombre et sa décomposition et indique ce qu'il manque

$$676 =$$


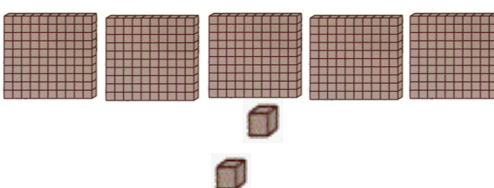


Observe ce nombre et sa décomposition et indique ce qu'il manque

$$538 =$$


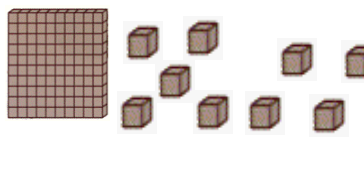


Observe ce nombre et sa décomposition et indique ce qu'il manque

$$512 =$$





Observe ce nombre et sa décomposition et indique ce qu'il manque

$$409 =$$





Range ces 4 nombres dans l'ordre demandé  
(croissant ou décroissant)



**123 - 190 - 256 - 470**




Range ces 4 nombres dans l'ordre demandé  
(croissant ou décroissant)



**302 - 390 - 516 - 840**




Range ces 4 nombres dans l'ordre demandé  
(croissant ou décroissant)



**743 - 100 - 259 - 420**




Range ces 4 nombres dans l'ordre demandé  
(croissant ou décroissant)



**550 - 210 - 200 - 490**




Range ces 4 nombres dans l'ordre demandé  
(croissant ou décroissant)



**378 - 510 - 790 - 119**




Range ces 4 nombres dans l'ordre demandé  
(croissant ou décroissant)



**200 - 800 - 966 - 417**




Range ces 4 nombres dans l'ordre demandé  
(croissant ou décroissant)



**255 - 387 - 433 - 854**




Range ces 4 nombres dans l'ordre demandé  
(croissant ou décroissant)



**991 - 190 - 845 - 552**




Range ces 4 nombres dans l'ordre demandé  
(croissant ou décroissant)



**888 - 777 - 666 - 999**




Range ces 4 nombres dans l'ordre demandé  
(croissant ou décroissant)



**111 - 120 - 253 - 100**




Range ces 4 nombres dans l'ordre demandé  
(croissant ou décroissant)



**339 - 555 - 296 - 770**




Range ces 4 nombres dans l'ordre demandé  
(croissant ou décroissant)



**121 - 940 - 856 - 670**




Range ces 4 nombres dans l'ordre demandé  
(croissant ou décroissant)



**362 - 290 - 456 - 270**




Range ces 4 nombres dans l'ordre demandé  
(croissant ou décroissant)



**602 - 190 - 616 - 740**




Range ces 4 nombres dans l'ordre demandé  
(croissant ou décroissant)



**713 - 500 - 559 - 620**




Range ces 4 nombres dans l'ordre demandé  
(croissant ou décroissant)



**590 - 417 - 366 - 288**




Range ces 4 nombres dans l'ordre demandé  
(croissant ou décroissant)



**358 - 910 - 390 - 419**




Range ces 4 nombres dans l'ordre demandé  
(croissant ou décroissant)



**250 - 810 - 266 - 717**




Range ces 4 nombres dans l'ordre demandé  
(croissant ou décroissant)



**555 - 307 - 133 - 664**




Range ces 4 nombres dans l'ordre demandé  
(croissant ou décroissant)



**301 - 229 - 567 - 611**



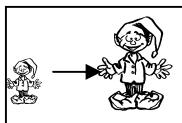
Range ces 4 nombres dans l'ordre demandé  
(croissant ou décroissant)



**810 - 287 - 696 - 349**




Range ces 4 nombres dans l'ordre demandé  
(croissant ou décroissant)



**411 - 196 - 244 - 760**




Range ces 4 nombres dans l'ordre demandé  
(croissant ou décroissant)



**619 - 505 - 206 - 780**



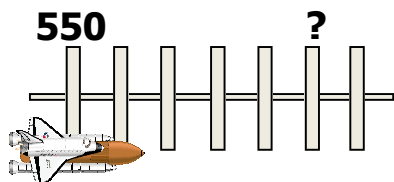
Range ces 4 nombres dans l'ordre demandé  
(croissant ou décroissant)



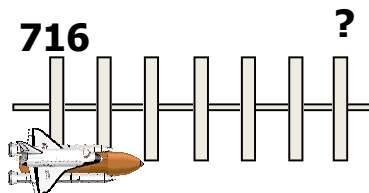
**129 - 440 - 256 - 600**



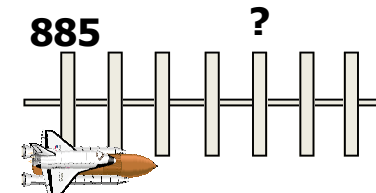
Regarde bien cette droite graduée et son nombre de départ et trouve le nombre mystère



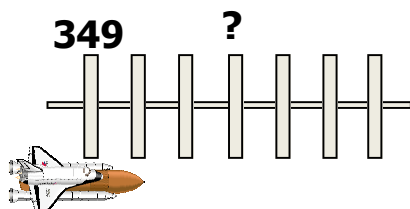
Regarde bien cette droite graduée et son nombre de départ et trouve le nombre mystère



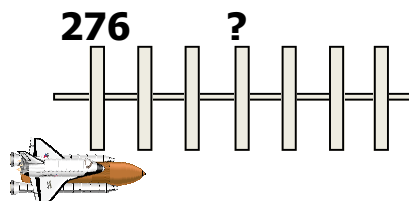
Regarde bien cette droite graduée et son nombre de départ et trouve le nombre mystère



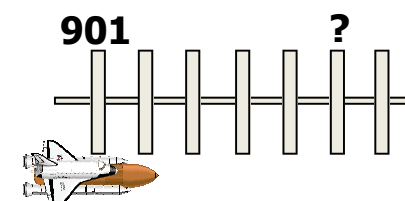
Regarde bien cette droite graduée et son nombre de départ et trouve le nombre mystère



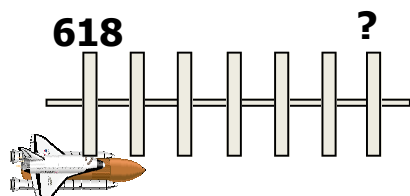
Regarde bien cette droite graduée et son nombre de départ et trouve le nombre mystère



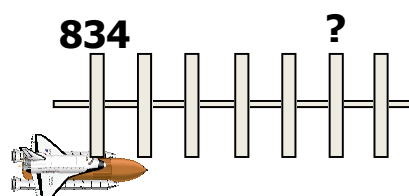
Regarde bien cette droite graduée et son nombre de départ et trouve le nombre mystère



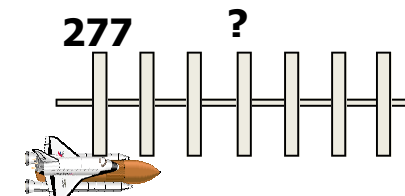
Regarde bien cette droite graduée et son nombre de départ et trouve le nombre mystère



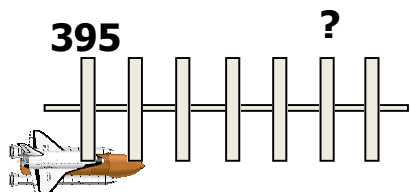
Regarde bien cette droite graduée et son nombre de départ et trouve le nombre mystère



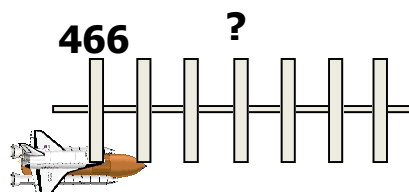
Regarde bien cette droite graduée et son nombre de départ et trouve le nombre mystère



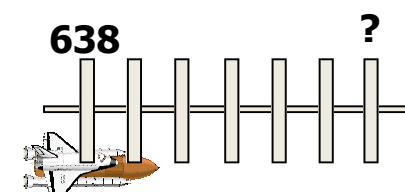
Regarde bien cette droite graduée et son nombre de départ et trouve le nombre mystère



Regarde bien cette droite graduée et son nombre de départ et trouve le nombre mystère

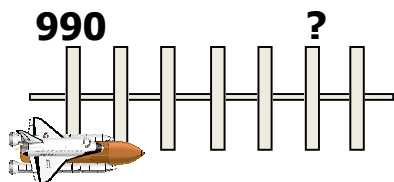


Regarde bien cette droite graduée et son nombre de départ et trouve le nombre mystère

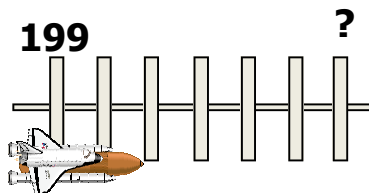




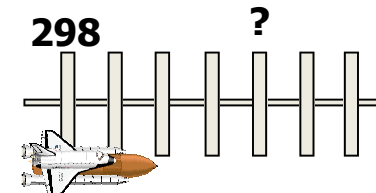
Regarde bien cette droite graduée et son nombre de départ et trouve le nombre mystère



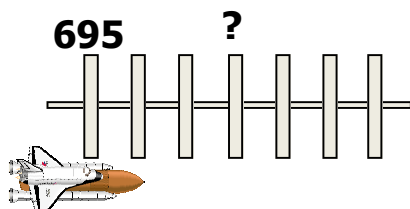
Regarde bien cette droite graduée et son nombre de départ et trouve le nombre mystère



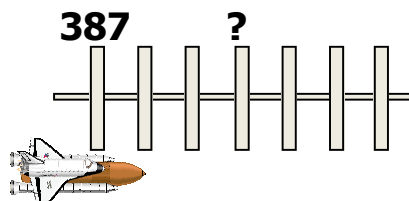
Regarde bien cette droite graduée et son nombre de départ et trouve le nombre mystère



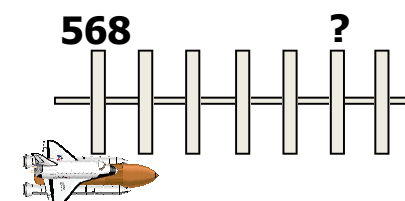
Regarde bien cette droite graduée et son nombre de départ et trouve le nombre mystère



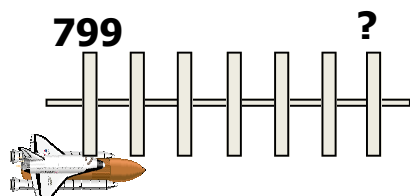
Regarde bien cette droite graduée et son nombre de départ et trouve le nombre mystère



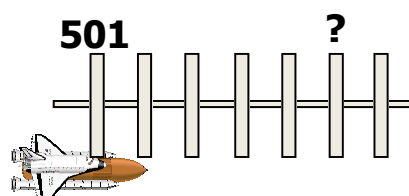
Regarde bien cette droite graduée et son nombre de départ et trouve le nombre mystère



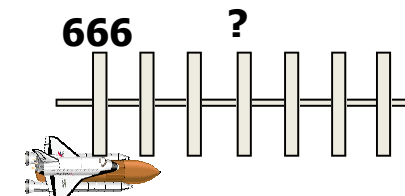
Regarde bien cette droite graduée et son nombre de départ et trouve le nombre mystère



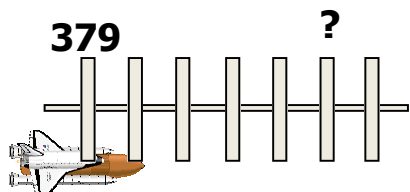
Regarde bien cette droite graduée et son nombre de départ et trouve le nombre mystère



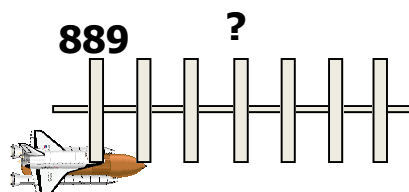
Regarde bien cette droite graduée et son nombre de départ et trouve le nombre mystère



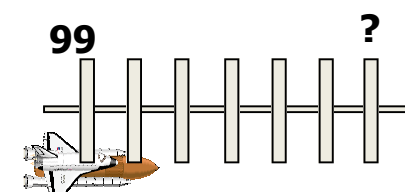
Regarde bien cette droite graduée et son nombre de départ et trouve le nombre mystère



Regarde bien cette droite graduée et son nombre de départ et trouve le nombre mystère



Regarde bien cette droite graduée et son nombre de départ et trouve le nombre mystère





Lis ce nombre puis propose une correction au  
nombre en lettres qui est faux

**550** : cinq sent cinkante



Lis ce nombre puis propose une correction au  
nombre en lettres qui est faux

**326** : trois cent vin sise



Lis ce nombre puis propose une correction au  
nombre en lettres qui est faux

**915** : n'œuf cent quinze



Lis ce nombre puis propose une correction au  
nombre en lettres qui est faux

**447** : quatre cent quarente celle



Lis ce nombre puis propose une correction au  
nombre en lettres qui est faux

**193** : sang quatre vingt treize



Lis ce nombre puis propose une correction au  
nombre en lettres qui est faux

**221** : de cent vingt et ain



Lis ce nombre puis propose une correction au  
nombre en lettres qui est faux

**769** : sept cent soissante neuf



Lis ce nombre puis propose une correction au  
nombre en lettres qui est faux

**812** : huit cent douce



Lis ce nombre puis propose une correction au  
nombre en lettres qui est faux

**177** : cent soixante dit sept



Lis ce nombre puis propose une correction au  
nombre en lettres qui est faux

**408** : quatre cent houitte



Lis ce nombre puis propose une correction au  
nombre en lettres qui est faux

**980** : neuf sans quatre vingt



Lis ce nombre puis propose une correction au  
nombre en lettres qui est faux

**366** : troi cent soixante six



Lis ce nombre puis propose une correction au nombre en lettres qui est faux

**330** : trois sent tranlte



Lis ce nombre puis propose une correction au nombre en lettres qui est faux

**713** : sept cent traise



Lis ce nombre puis propose une correction au nombre en lettres qui est faux

**640** : sisse cent quarente



Lis ce nombre puis propose une correction au nombre en lettres qui est faux

**204**: deux cent catre



Lis ce nombre puis propose une correction au nombre en lettres qui est faux

**657** : six cent cinquante set



Lis ce nombre puis propose une correction au nombre en lettres qui est faux

**938** : neuve cent trente huit



Lis ce nombre puis propose une correction au nombre en lettres qui est faux

**199** : cent quatre vingt dit neuf



Lis ce nombre puis propose une correction au nombre en lettres qui est faux

**446** : quatre cent quarante cix



Lis ce nombre puis propose une correction au nombre en lettres qui est faux

**1087** : mille quatre vin cette



Lis ce nombre puis propose une correction au nombre en lettres qui est faux

**369** : trois cent soissante oeuf



Lis ce nombre puis propose une correction au nombre en lettres qui est faux

**333** : trois cent trente toi



Lis ce nombre puis propose une correction au nombre en lettres qui est faux

**770** : sept cent soixante bise

