

Propose la fin correcte de la suite de nombres.

 +10

10	20			
----	----	--	--	--



Propose la fin correcte de la suite de nombres.

 +5

5	10			
---	----	--	--	--



Propose la fin correcte de la suite de nombres.

 +3

3	6			
---	---	--	--	--



Propose la fin correcte de la suite de nombres.

 +2

48	50			
----	----	--	--	--



Propose la fin correcte de la suite de nombres.

 +5

15	20			
----	----	--	--	--



Propose la fin correcte de la suite de nombres.

 +10

50	60			
----	----	--	--	--



Propose la fin correcte de la suite de nombres.

 +10

70	80			
----	----	--	--	--



Propose la fin correcte de la suite de nombres.

 +5

11	16			
----	----	--	--	--



Propose la fin correcte de la suite de nombres.

 +3

12	15			
----	----	--	--	--



Propose la fin correcte de la suite de nombres.

 +2

44	46			
----	----	--	--	--



Propose la fin correcte de la suite de nombres.

 +5

17	22			
----	----	--	--	--



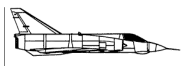
Propose la fin correcte de la suite de nombres.

 +10

34	44			
----	----	--	--	--



Propose la fin correcte de la suite de nombres.

 +10

2	12			
---	----	--	--	--



Propose la fin correcte de la suite de nombres.

 +5

31	36			
----	----	--	--	--



Propose la fin correcte de la suite de nombres.

 +3

14	17			
----	----	--	--	--



Propose la fin correcte de la suite de nombres.

 +2

65	67			
----	----	--	--	--



Propose la fin correcte de la suite de nombres.

 +5

75	80			
----	----	--	--	--



Propose la fin correcte de la suite de nombres.

 +10

22	32			
----	----	--	--	--



Propose la fin correcte de la suite de nombres.

 +10

43	53			
----	----	--	--	--



Propose la fin correcte de la suite de nombres.

 +5

23	28			
----	----	--	--	--



Propose la fin correcte de la suite de nombres.

 +3

20	23			
----	----	--	--	--



Propose la fin correcte de la suite de nombres.

 +2

78	80			
----	----	--	--	--



Propose la fin correcte de la suite de nombres.

 +5

65	70			
----	----	--	--	--



Propose la fin correcte de la suite de nombres.

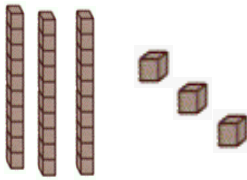
 +10

90	100			
----	-----	--	--	--



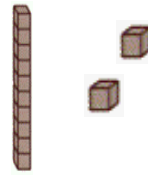
Observe ce nombre et sa décomposition et indique ce qu'il manque

45=




Observe ce nombre et sa décomposition et indique ce qu'il manque

36=



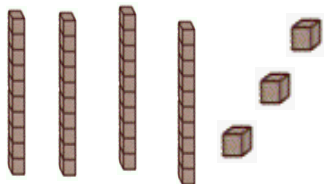
Observe ce nombre et sa décomposition et indique ce qu'il manque

41=



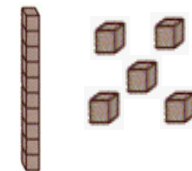
Observe ce nombre et sa décomposition et indique ce qu'il manque

63=



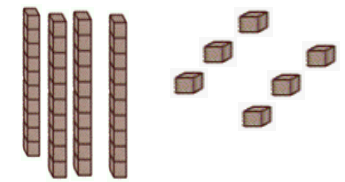
Observe ce nombre et sa décomposition et indique ce qu'il manque

28=



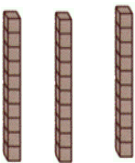
Observe ce nombre et sa décomposition et indique ce qu'il manque

87=



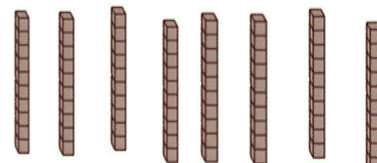
Observe ce nombre et sa décomposition et indique ce qu'il manque

40=



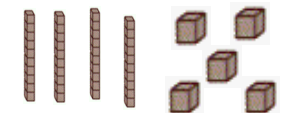
Observe ce nombre et sa décomposition et indique ce qu'il manque

91=



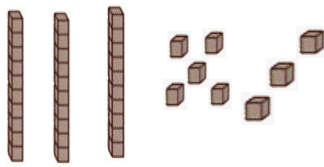
Observe ce nombre et sa décomposition et indique ce qu'il manque

76=



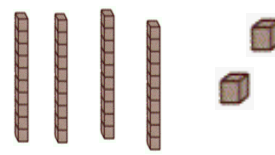
Observe ce nombre et sa décomposition et indique ce qu'il manque

58=




Observe ce nombre et sa décomposition et indique ce qu'il manque

52=



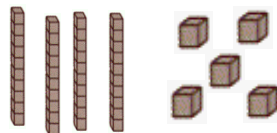
Observe ce nombre et sa décomposition et indique ce qu'il manque

29=



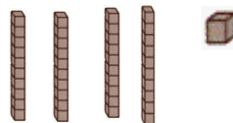
Observe ce nombre et sa décomposition et indique ce qu'il manque

55=



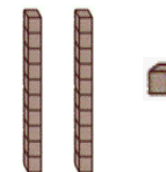
Observe ce nombre et sa décomposition et indique ce qu'il manque

51=



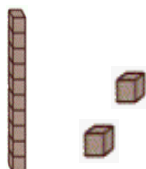
Observe ce nombre et sa décomposition et indique ce qu'il manque

24=



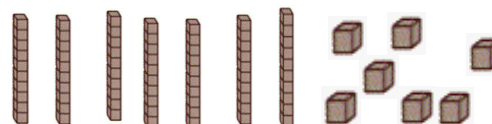
Observe ce nombre et sa décomposition et indique ce qu'il manque

43=



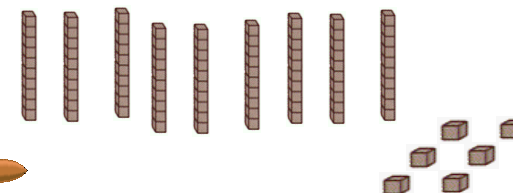
Observe ce nombre et sa décomposition et indique ce qu'il manque

88=



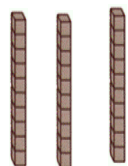
Observe ce nombre et sa décomposition et indique ce qu'il manque

97=



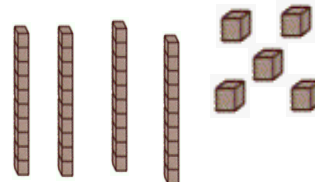
Observe ce nombre et sa décomposition et indique ce qu'il manque

33=



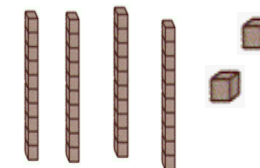
Observe ce nombre et sa décomposition et indique ce qu'il manque

68=




Observe ce nombre et sa décomposition et indique ce qu'il manque

72=



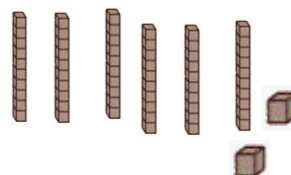
Observe ce nombre et sa décomposition et indique ce qu'il manque

55=



Observe ce nombre et sa décomposition et indique ce qu'il manque

98=




Observe ce nombre et sa décomposition et indique ce qu'il manque

49=




Range ces 4 nombres dans l'ordre demandé
(croissant ou décroissant)



23 - 19 - 25 - 47




Range ces 4 nombres dans l'ordre demandé
(croissant ou décroissant)



30 - 39 - 51 - 40




Range ces 4 nombres dans l'ordre demandé
(croissant ou décroissant)



43 - 10 - 59 - 42




Range ces 4 nombres dans l'ordre demandé
(croissant ou décroissant)



55 - 21 - 20 - 49




Range ces 4 nombres dans l'ordre demandé
(croissant ou décroissant)



78 - 51 - 79 - 19




Range ces 4 nombres dans l'ordre demandé
(croissant ou décroissant)



20 - 80 - 66 - 47




Range ces 4 nombres dans l'ordre demandé
(croissant ou décroissant)



25 - 38 - 33 - 54




Range ces 4 nombres dans l'ordre demandé
(croissant ou décroissant)



91 - 90 - 84 - 55



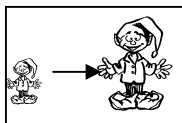
Range ces 4 nombres dans l'ordre demandé
(croissant ou décroissant)



88 - 77 - 66 - 99




Range ces 4 nombres dans l'ordre demandé
(croissant ou décroissant)



11 - 20 - 25 - 10




Range ces 4 nombres dans l'ordre demandé
(croissant ou décroissant)



39 - 55 - 96 - 77




Range ces 4 nombres dans l'ordre demandé
(croissant ou décroissant)



12 - 94 - 85 - 70




Range ces 4 nombres dans l'ordre demandé
(croissant ou décroissant)



62 - 90 - 56 - 27




Range ces 4 nombres dans l'ordre demandé
(croissant ou décroissant)



62 - 19 - 66 - 74




Range ces 4 nombres dans l'ordre demandé
(croissant ou décroissant)



73 - 50 - 55 - 62




Range ces 4 nombres dans l'ordre demandé
(croissant ou décroissant)



59 - 47 - 66 - 88




Range ces 4 nombres dans l'ordre demandé
(croissant ou décroissant)



58 - 91 - 39 - 41




Range ces 4 nombres dans l'ordre demandé
(croissant ou décroissant)



50 - 80 - 66 - 77




Range ces 4 nombres dans l'ordre demandé
(croissant ou décroissant)



55 - 37 - 33 - 64




Range ces 4 nombres dans l'ordre demandé
(croissant ou décroissant)



31 - 29 - 67 - 61



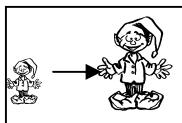
Range ces 4 nombres dans l'ordre demandé
(croissant ou décroissant)



81 - 87 - 69 - 49




Range ces 4 nombres dans l'ordre demandé
(croissant ou décroissant)



41 - 96 - 44 - 60




Range ces 4 nombres dans l'ordre demandé
(croissant ou décroissant)



69 - 50 - 26 - 78



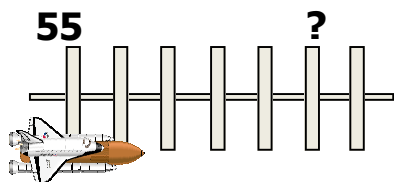
Range ces 4 nombres dans l'ordre demandé
(croissant ou décroissant)



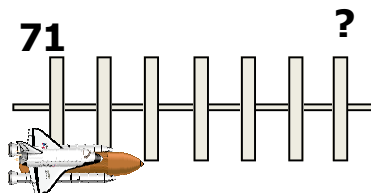
29 - 44 - 56 - 60



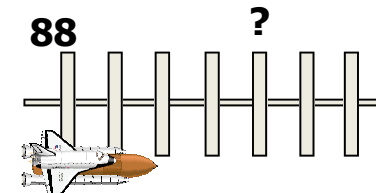
Regarde bien cette droite graduée et son nombre de départ et trouve le nombre mystère



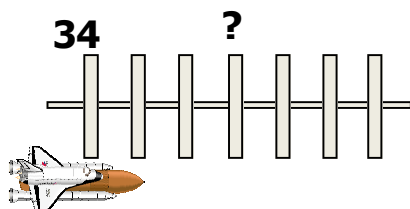
Regarde bien cette droite graduée et son nombre de départ et trouve le nombre mystère



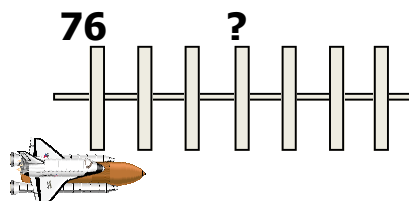
Regarde bien cette droite graduée et son nombre de départ et trouve le nombre mystère



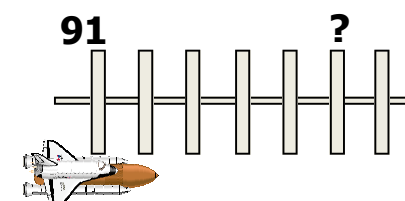
Regarde bien cette droite graduée et son nombre de départ et trouve le nombre mystère



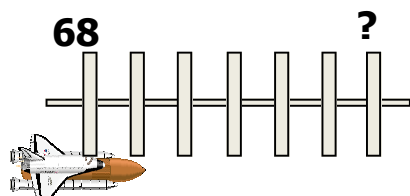
Regarde bien cette droite graduée et son nombre de départ et trouve le nombre mystère



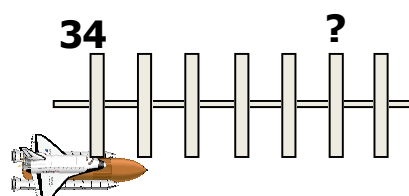
Regarde bien cette droite graduée et son nombre de départ et trouve le nombre mystère



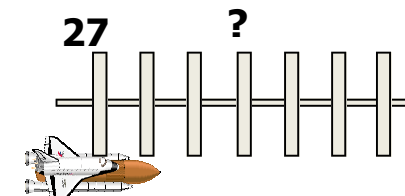
Regarde bien cette droite graduée et son nombre de départ et trouve le nombre mystère



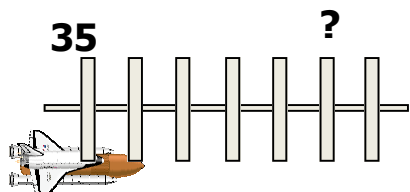
Regarde bien cette droite graduée et son nombre de départ et trouve le nombre mystère



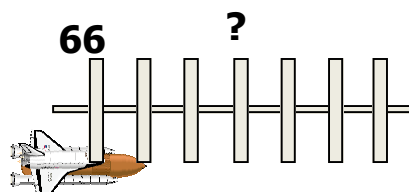
Regarde bien cette droite graduée et son nombre de départ et trouve le nombre mystère



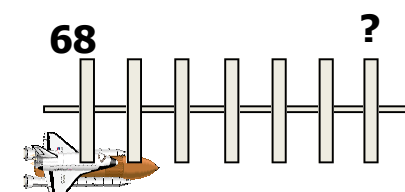
Regarde bien cette droite graduée et son nombre de départ et trouve le nombre mystère



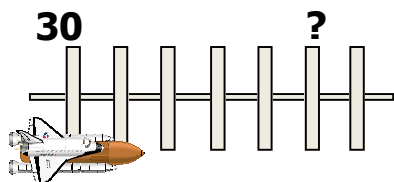
Regarde bien cette droite graduée et son nombre de départ et trouve le nombre mystère



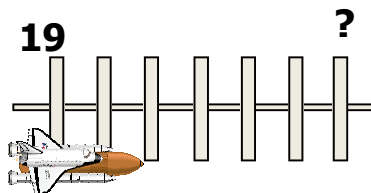
Regarde bien cette droite graduée et son nombre de départ et trouve le nombre mystère



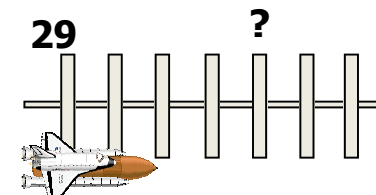
Regarde bien cette droite graduée et son nombre de départ et trouve le nombre mystère



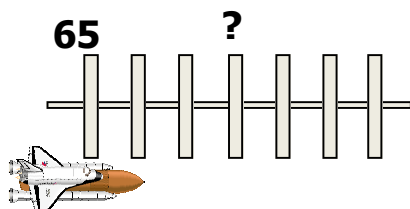
Regarde bien cette droite graduée et son nombre de départ et trouve le nombre mystère



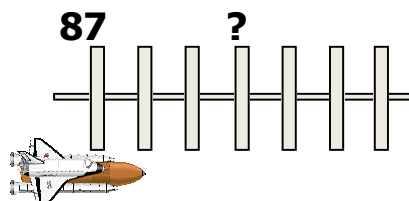
Regarde bien cette droite graduée et son nombre de départ et trouve le nombre mystère



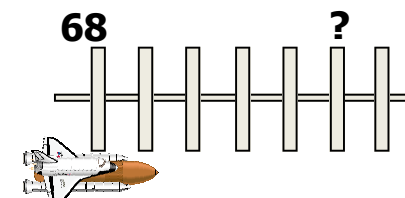
Regarde bien cette droite graduée et son nombre de départ et trouve le nombre mystère



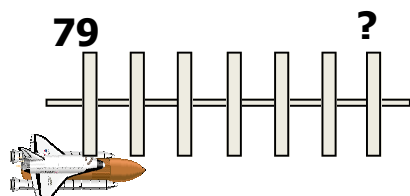
Regarde bien cette droite graduée et son nombre de départ et trouve le nombre mystère



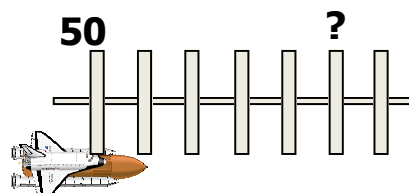
Regarde bien cette droite graduée et son nombre de départ et trouve le nombre mystère



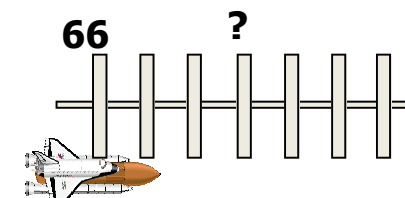
Regarde bien cette droite graduée et son nombre de départ et trouve le nombre mystère



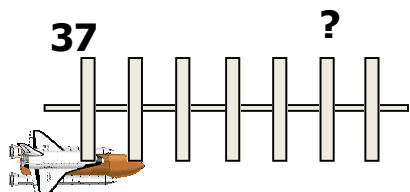
Regarde bien cette droite graduée et son nombre de départ et trouve le nombre mystère



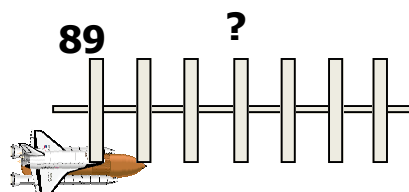
Regarde bien cette droite graduée et son nombre de départ et trouve le nombre mystère



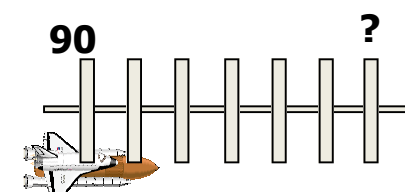
Regarde bien cette droite graduée et son nombre de départ et trouve le nombre mystère



Regarde bien cette droite graduée et son nombre de départ et trouve le nombre mystère



Regarde bien cette droite graduée et son nombre de départ et trouve le nombre mystère



Lis ce nombre puis propose une correction au nombre en lettres qui est faux

50 : cinkante



Lis ce nombre puis propose une correction au nombre en lettres qui est faux

36 : trante -sise



Lis ce nombre puis propose une correction au nombre en lettres qui est faux

95 : qualtre vin quinze



Lis ce nombre puis propose une correction au nombre en lettres qui est faux

47 : quarente celle



Lis ce nombre puis propose une correction au nombre en lettres qui est faux

93 : quatre vingt treisse



Lis ce nombre puis propose une correction au nombre en lettres qui est faux

21 : vingt et ain



Lis ce nombre puis propose une correction au nombre en lettres qui est faux

69 : soissante noeuf



Lis ce nombre puis propose une correction au nombre en lettres qui est faux

812 : huit cent douce



Lis ce nombre puis propose une correction au nombre en lettres qui est faux

177 : cent soixante dit sept



Lis ce nombre puis propose une correction au nombre en lettres qui est faux

48 : quaronte houvite



Lis ce nombre puis propose une correction au nombre en lettres qui est faux

80 : catre vingt



Lis ce nombre puis propose une correction au nombre en lettres qui est faux

56 : cinquamte-sice



Lis ce nombre puis propose une correction au
nombre en lettres qui est faux

33 : tramte trouas



Lis ce nombre puis propose une correction au
nombre en lettres qui est faux

71 : soixante est omze



Lis ce nombre puis propose une correction au
nombre en lettres qui est faux

48 : quarente huitre



Lis ce nombre puis propose une correction au
nombre en lettres qui est faux

24 : vain catre



Lis ce nombre puis propose une correction au
nombre en lettres qui est faux

57 : cinquante set



Lis ce nombre puis propose une correction au
nombre en lettres qui est faux

38 : trente huitte



Lis ce nombre puis propose une correction au
nombre en lettres qui est faux

99 : quatre vin dit neuf



Lis ce nombre puis propose une correction au
nombre en lettres qui est faux

46 : quarante cix



Lis ce nombre puis propose une correction au
nombre en lettres qui est faux

87 : quatre vin cette



Lis ce nombre puis propose une correction au
nombre en lettres qui est faux

69 : soissante oeuf



Lis ce nombre puis propose une correction au
nombre en lettres qui est faux

83 : kattre vin toi



Lis ce nombre puis propose une correction au
nombre en lettres qui est faux

70 : soixante bise

