


BRICOMATHEUX 1



Calcule et écris



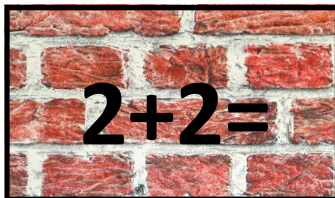
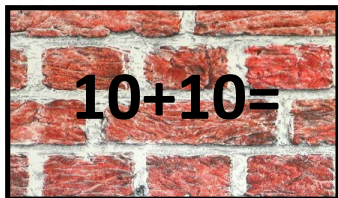
découpe



Réfléchis où va
chaque brique



Colle




BRICOMATHEUX 1

18	10	12
14	8	4
20	6	16

Colle chaque brique sous son résultat

BRICOMATHEUX 2



Calcule et écris



découpe



Réfléchis où va
chaque brique



Colle

$20+20=$

$40+10=$

$50+10=$

$30+40=$

$60+30=$

$40+40=$

$20+10=$

$50+50=$


$30+20=$

BRICOMATHEUX 2

50	30	60
40	70	80
90	20	100

Colle chaque brique sous son résultat

BRICOMATHEUX 3



Calcule et écris



découpe



Réfléchis où va
chaque brique



Colle

$$\begin{array}{r} 32 \\ + 14 \\ \hline = \end{array}$$

$$\begin{array}{r} 45 \\ + 13 \\ \hline = \end{array}$$

$$\begin{array}{r} 30 \\ + 44 \\ \hline = \end{array}$$

$$\begin{array}{r} 35 \\ + 12 \\ \hline = \end{array}$$

$$\begin{array}{r} 62 \\ + 11 \\ \hline = \end{array}$$

$$\begin{array}{r} 52 \\ + 17 \\ \hline = \end{array}$$

$$\begin{array}{r} 12 \\ + 66 \\ \hline = \end{array}$$

$$\begin{array}{r} 22 \\ + 17 \\ \hline = \end{array}$$


$$\begin{array}{r} 52 \\ + 25 \\ \hline = \end{array}$$

BRICOMATHEUX 3

77	39	78
47	73	69
74	46	58

Colle chaque brique sous son résultat

BRICOMATHEUX 4



Calcule et écris



découpe



Réfléchis où va
chaque brique



Colle

$$\begin{array}{r} 17 \\ + 60 \\ \hline = \end{array}$$

$$\begin{array}{r} 42 \\ + 14 \\ \hline = \end{array}$$

$$\begin{array}{r} 72 \\ + 20 \\ \hline = \end{array}$$

$$\begin{array}{r} 32 \\ + 66 \\ \hline = \end{array}$$

$$\begin{array}{r} 42 \\ + 13 \\ \hline = \end{array}$$

$$\begin{array}{r} 52 \\ + 24 \\ \hline = \end{array}$$

$$\begin{array}{r} 30 \\ + 64 \\ \hline = \end{array}$$

$$\begin{array}{r} 22 \\ + 67 \\ \hline = \end{array}$$

$$\begin{array}{r} 42 \\ + 25 \\ \hline = \end{array}$$


BRICOMATHEUX 4

98	89	67
55	56	94
77	76	92

Colle chaque brique sous son résultat



BRICOMATHEUX 5



Calcule et écris



découpe



Réfléchis où va
chaque brique



Colle

$$\begin{array}{r} 77 \\ - 60 \\ \hline = \end{array}$$

$$\begin{array}{r} 92 \\ - 10 \\ \hline = \end{array}$$

$$\begin{array}{r} 52 \\ - 21 \\ \hline = \end{array}$$

$$\begin{array}{r} 38 \\ - 26 \\ \hline = \end{array}$$

$$\begin{array}{r} 47 \\ - 15 \\ \hline = \end{array}$$

$$\begin{array}{r} 59 \\ - 26 \\ \hline = \end{array}$$

$$\begin{array}{r} 90 \\ - 70 \\ \hline = \end{array}$$

$$\begin{array}{r} 39 \\ - 17 \\ \hline = \end{array}$$

$$\begin{array}{r} 87 \\ - 25 \\ \hline = \end{array}$$

BRICOMATHEUX 5

31	82	62
12	32	22
33	20	17

Colle chaque brique sous son résultat