

LUNDI	MARDI	MERCREDI	JEUDI	VENDREDI	SAMEDI	DIMANCHE
-------	-------	----------	-------	----------	--------	----------


Comment tracer un triangle avec un compas?

Pour tracer un triangle ABC avec des mesures précises:

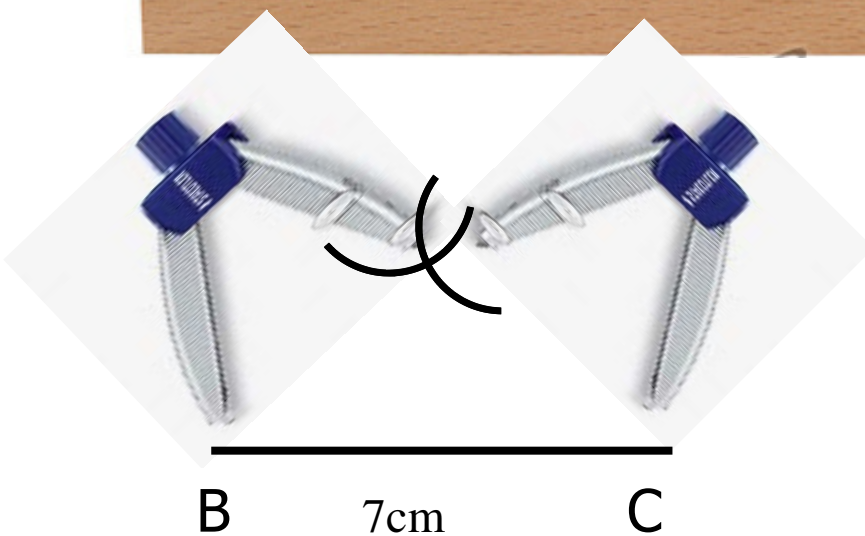

$[AB]= 5\text{cm}$ $[BC]=7\text{cm}$ $[CA]=6\text{cm}$

Il faut se servir du compas

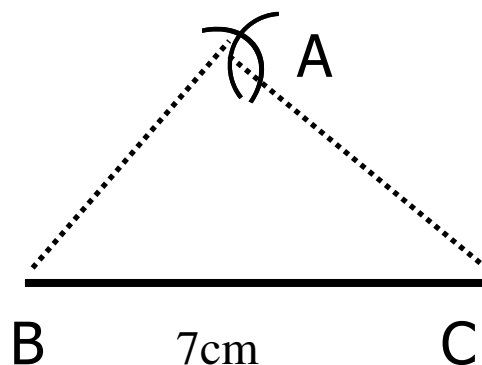
On commence par tracer le plus grand coté celui de 7cm



Ensuite on prend un écart de 5cm avec le compas sur la règle
En partant du segment de 7cm on trace un arc de cercle



Ensuite on prend le deuxième écart: 6cm sur la règle
et on fait un deuxième arc de cercle. On obtient le point A



Il n' y a plus qu'à relier à la règle les points: A, B et C