

École : .....

Adresse : .....

.....

# Évaluation initiale Clin

Nom : .....

Prénom : .....

Classe de référence : .....

Date d'évaluation : .....

Pays d'origine : .....

# L'élève

- Situe ton pays et la France sur la carte : 😞😐😊



- Écris ton prénom : 😞😐😊

---

---

---

---

- Écris ton nom de famille : 😞😐😊


---

---

---

---

• Dessine-toi : 😞 😐 😊



# lecture/écriture

- Tu connais la comptine de l'alphabet : ..... 😞 😐 😊
- Place les lettres manquantes de l'alphabet dans la grille :  
😞 😐 😊

A	B		D	E		G	H	
J	K	L		N		P	Q	
S		U	V	W	X		Z	

- Tu lis l'alphabet en :
  - Majuscules scriptes : 😞 😐 😊
  - Minuscules scriptes : 😞 😐 😊
  - Majuscules cursives : 😞 😐 😊
  - Minuscules cursives : 😞 😐 😊
- Tu lis des syllabes : 😞 😐 😊

ba	mi	ru	di	ta	no	fa	ve	so
par	dir	tur	for	mul	nil	doc	lac	rip
dra	tro	plu	fli	bla	clu	pre	gro	gli

- Recopie le texte en écriture cursive sans rien oublier :  
  

« Bonjour ma cousine. »

« Bonjour mon cousin germain.

On m'a dit que vous m'aimiez,

Est-ce bien la vérité ? »

« Je ne m'en soucie guère,

Je ne m'en soucie guère,

Passez par ici et moi par là,

Au revoir ma cousine on s'reverra ! »

Handwriting practice lines consisting of multiple sets of horizontal lines for cursive writing.

- Lis ce texte et réponds aux questions : 😞 😊 😊

## *Pierre et le Loup*

*Un beau matin, Pierre sort par la porte du jardin. Il voit ses amis l'oiseau et le canard.*

*Le canard dit à l'oiseau : « Tu ne sais pas nager ! »*

*L'oiseau répond au canard : « Tu ne sais pas voler !*

*Le chat arrive. Il regarde le canard, Pierre et l'oiseau. Le chat veut manger le canard. Il s'approche de la mare, mais le canard plonge dans l'eau.*

*Le chat veut alors manger l'oiseau. L'oiseau s'envole sur l'arbre.*

*Soudain, Grand-Père arrive. Il est en colère que Pierre soit sorti, il le prend par la main et l'emmène à la maison.*

*Tout à coup, un gros loup sort de la forêt. Le loup court après le canard et l'avale d'un seul coup.*

*Pierre sort de la maison. Il attrape la corde. Le chat est dans l'arbre. L'oiseau aussi. Le loup veut manger l'oiseau et l'oiseau vole autour du loup.*

*Pierre tire la corde et l'attache autour de la queue du loup. Heureusement, le chasseur arrive et tue le loup.*

*On entend alors le canard caqueter dans le ventre du loup.*

- Réponds, en faisant des phrases, aux questions sur l'histoire que tu viens de lire : 😞 😊 😊

- Qui sont les amis de Pierre ?

.....

- Le chat veut attraper l'oiseau. Où l'oiseau se cache-t-il ?

.....

- Pourquoi Grand-Père est-il en colère ?

.....

- Qui sort de la forêt ?

.....

- Qu'arrive-t-il au canard ?

.....

- Réécris les phrases dans l'ordre : 😞 😊 😊

- *Le manger l'oiseau veut chat.*

.....

- *la sort Pierre maison de.*

.....

- Sépare les mots dans les phrases :



- *Ungros loup sort de la forêt.*

.....

- *Le chat regarde le canard.*

.....

- Numérote ces images dans l'ordre de l'histoire (ou dictée à l'adulte) : 😞😐😊



- Écris une petite phrase pour chacune des images :  
 😞😐😊

.....

.....

.....

.....

.....

.....



# Lexique

- Connais-tu le nom français ? *(à partir d'un imagier)*

- des couleurs	
- du matériel scolaire	
- des parties du corps	
- des vêtements	
- des aliments	
- des parties de la maison	
- des moyens de transport	
- du mobilier	
- des animaux	
- des jours de la semaine	
- des mois de l'année	

# Ordre alphabétique

- Range en ordre alphabétique les mots suivants : 😞 😊 😄

classe - gomme - voiture - bonjour - maman


.....

crayon - ciseaux - colle - cartable - chaise

.....

# Numération

- Tu sais compter en français jusqu'à : ..... 😞 😐 😊
- Compte : 😞 😐 😊



- Dictée de nombres : 😞 😐 😊


- Tu sais utiliser les signes  $<$   $>$  : 😞😐😄

4.....9	23.....17	45.....86	128.....125	98.....112
3,1.....3,9	10.....8,2	12,1.....120	6,2.....2,6	7.....7,8

- Range ces nombres du plus petit au plus grand (ordre croissant) : 😞😐😄

152 - 101 - 63 - 113 - 93 - 7 - 18 - 42 - 21

.....

- Range ces nombres du plus grand au plus petit (ordre décroissant) : 😞😐😄

112 - 89 - 214 - 54 - 64 - 75 - 148 - 90 - 6

.....

- Décompose : 😞😐😄

127 = 100 + 20 + 7	248 = ____ + ____ + ____	374 = ____ + ____ + ____
432 = ____ + ____ + ____	580 = ____ + ____ + ____	805 = ____ + ____ + ____

- Compte de 10 en 10 : 😞😐😊

10 – 20 – 30 -     -     -     -     -     -     -     -     -     -

230 - 240 – 250 -     -     -     -     -     -     -     -

- Compte de 100 en 100 : 😞😐😊

100 – 200 – 300 -     -     -     -     -     -     -     -     -     -

230 - 330 – 430 -     -     -     -     -     -     -     -

## Opérations

- Calcule : 😞😐😊

2 + 2 = .....     4 + 1 = .....     5 + 3 = .....     5 + 5 = .....

14 + 5 = .....     10 + 16 = .....     23 + 9 = .....     34 + 24 = .....

2 x 3 = .....     4 x 5 = .....     3 x 3 = .....     6 x 7 = .....

3 x 10 = .....     4 x 20 = .....     3 x 30 = .....     7 x 10 = .....

$\begin{array}{r} 54 \\ \times 2 \\ \hline \end{array}$	$\begin{array}{r} 23 \\ \times 3 \\ \hline \end{array}$
=	=
$\begin{array}{r} 75 \\ \times 62 \\ \hline \end{array}$	$\begin{array}{r} 357 \\ \times 95 \\ \hline \end{array}$
=	=

$\begin{array}{r} 84 \\ - 52 \\ \hline \end{array}$	$\begin{array}{r} 43 \\ - 13 \\ \hline \end{array}$
=	=
$\begin{array}{r} 62 \\ - 47 \\ \hline \end{array}$	$\begin{array}{r} 355 \\ - 97 \\ \hline \end{array}$
=	=

• Pose l'opération : 😞 😊 😊

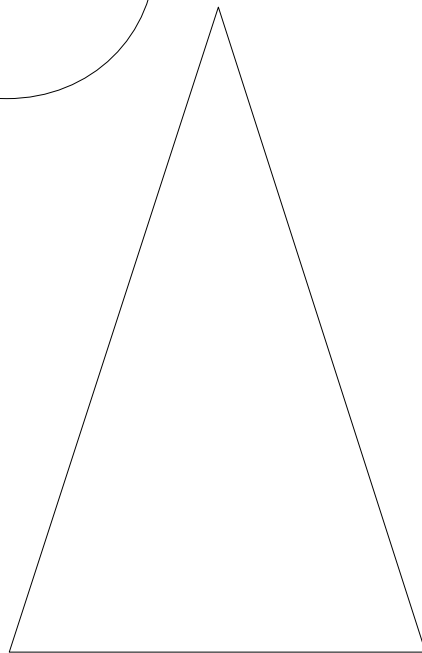


$427 : 7 =$	$192 : 24 =$
-------------	--------------

# Géométrie

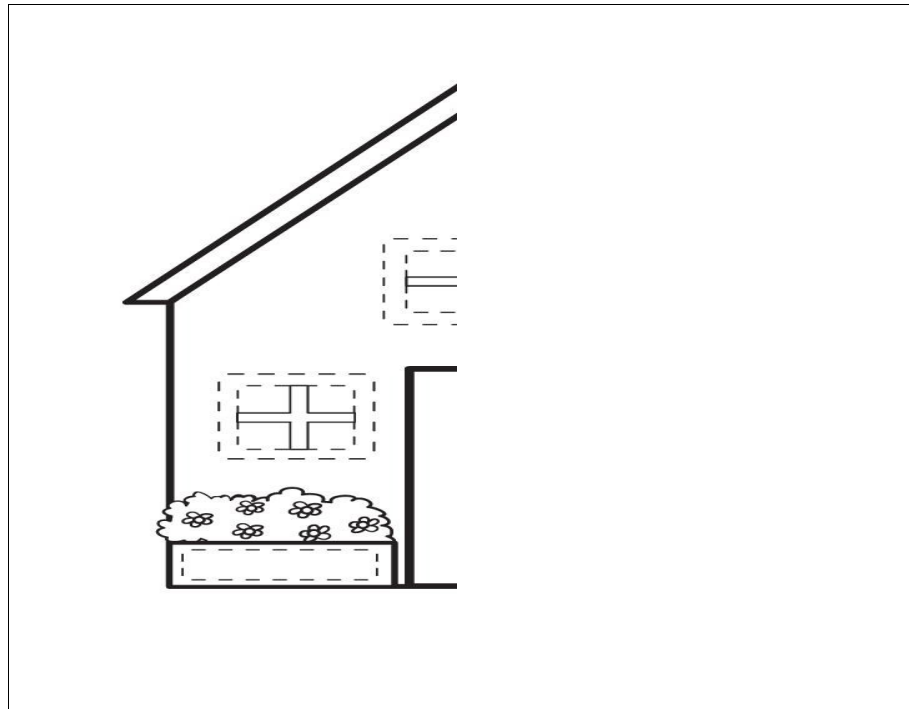
- Avec la règle, trace un segment  $[AB]$  de 8 cm : 😞😐😄

- Colorie : 😞😐😄







- Le triangle en rouge
- Le rond en bleu
- Le carré en vert
- Le rectangle en marron



- Reproduis l'autre moitié de la figure : 😞😐😊







- Place les objets dans la bonne case : 😞😐😊

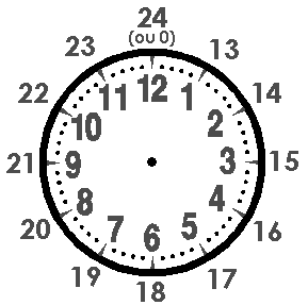
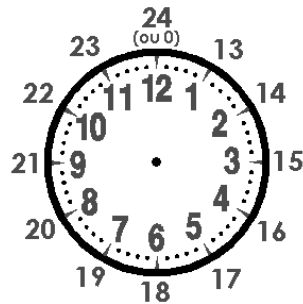

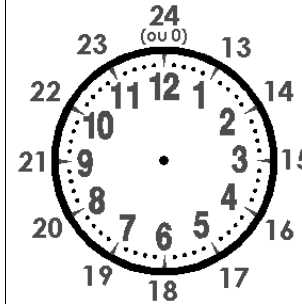
								
	D4	E6	H3	F5	E1	B2		
	1	2	3	4	5	6	7	8
A								
B								
C								
D								
E								
F								
G								
H								

# L'heure

- Note l'heure sous chaque horloge : 😞 😊 😊

			
.....h.....	.....h.....	.....h.....	.....h.....

- Place les aiguilles selon l'heure indiquée : 😞 😊 😊

			
8 h 30	6 h 20	20 h 15	16 h 45

## Observations

.....

.....

.....

.....

.....

Aide Clin : OUI - NON

Fréquence : .....

Autre aide : .....



