

## **CHAPITRE II : L'ISLAM AU MOYEN-AGE**

### Corrections d'activités :

- pages 32-33 sur Mahomet, fondateur de l'Islam
- pages 34-35 sur le Coran et l'Islam
- pages 38-39 sur la ville de Damas au Moyen Age
- pages 40-41 sur la grande mosquée de Damas
- pages 42-43 sur le goût des sciences dans l'empire arabo-musulman médiéval
- pages 52-53 sur les croisades et le djihad
- pages 54-55 sur le commerce en Méditerranée
- pages 56-57 sur la Sicile, un carrefour culturel

### Documents à distribuer :

- Carte de l'empire musulman à son apogée
- Carte des contacts en Méditerranée
- Fiches de révision Hatier

## CORRECTION DES ACTIVITÉS PAGES 32 À 35

### Activité pages 32-33 sur Mahomet, fondateur de l'Islam

1 – Les deux empires autour de l'Arabie aux VI<sup>ème</sup> et VII<sup>ème</sup> siècle sont l'empire byzantin au Nord-Ouest et l'empire perse à l'Est.

2 – D'après la *Vie de Mohamed*, écrite par Ibn Hicham au IX<sup>ème</sup> siècle, Dieu se fait connaître à Mahomet par l'intermédiaire de l'ange Gabriel. La mission de Mahomet est d'être le prophète de Dieu, celui qui reçoit Son message pour le transmettre aux hommes.

3 – Mahomet s'enfuit à Médine en 622 après J.-C. car il se sent menacé par les habitants de La Mecque : c'est l'Hégire.

4 – Mahomet est un chef de guerre puisqu'il donne des ordres de combat aux généraux et aux soldats. Il dirige des « colonnes musulmanes », c'est-à-dire une armée de musulmans. Il vient à La Mecque, sa ville natale, pour la conquérir, punir les Mecquois de l'avoir chassé 8 ans plus tôt et surtout pour détruire les idoles, c'est-à-dire les statues des divinités arabes traditionnelles.

5 – Sur le document 2, Mahomet est le personnage en face de l'ange Gabriel : lui seul peut être ce personnage. Sur le document 6, Mahomet est le personnage en tête de cortège, devant les soldats musulmans. De plus, sur ces deux images, le visage de Mahomet a été effacé : c'est par prudence, pour éviter que des croyants, voyant le visage du prophète, tombent en admiration et adressent des prières à cette image, alors que, dans l'Islam, l'adoration est uniquement destinée à Dieu.

### Activité pages 34-35 sur le Coran et l'Islam

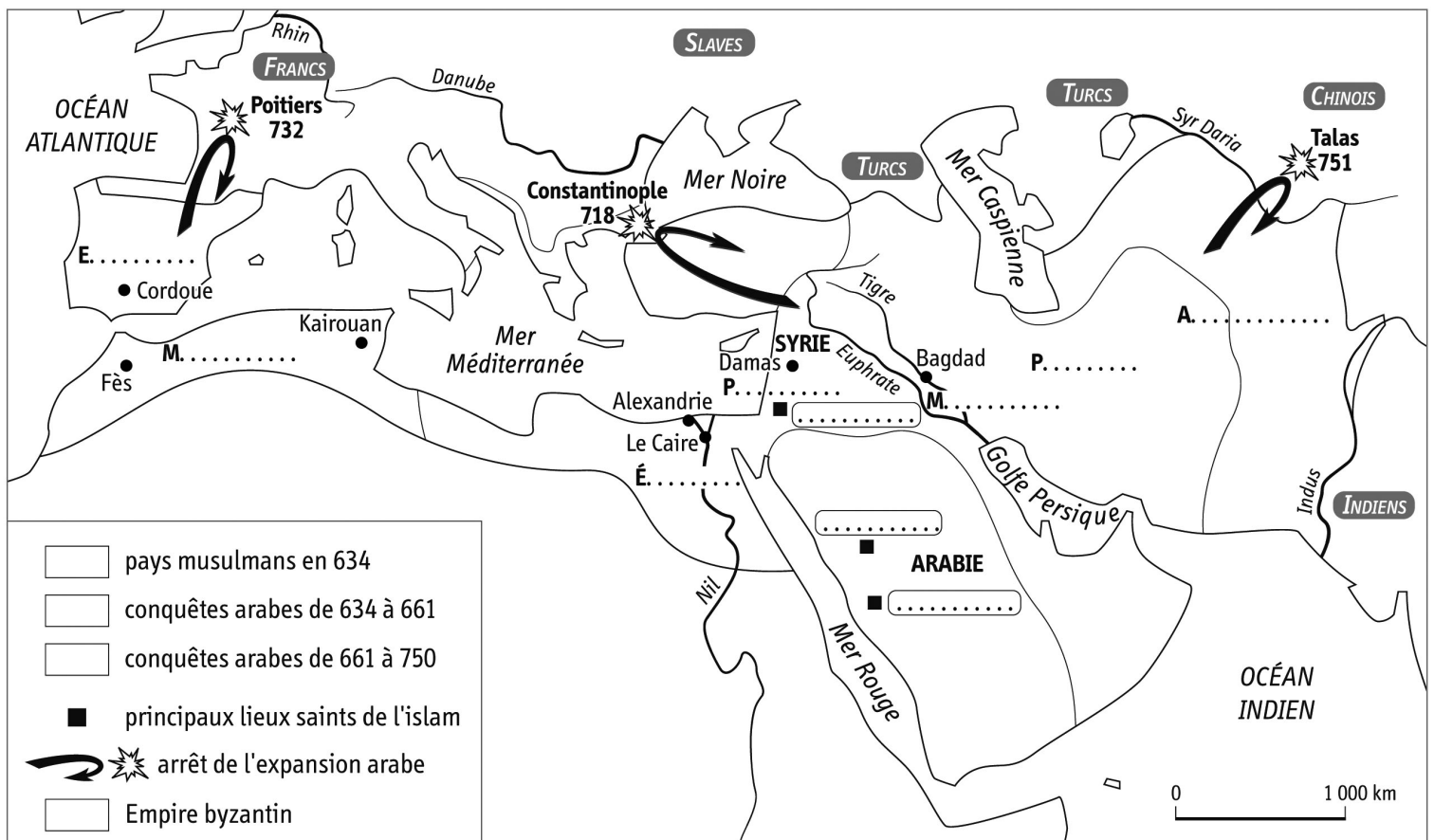
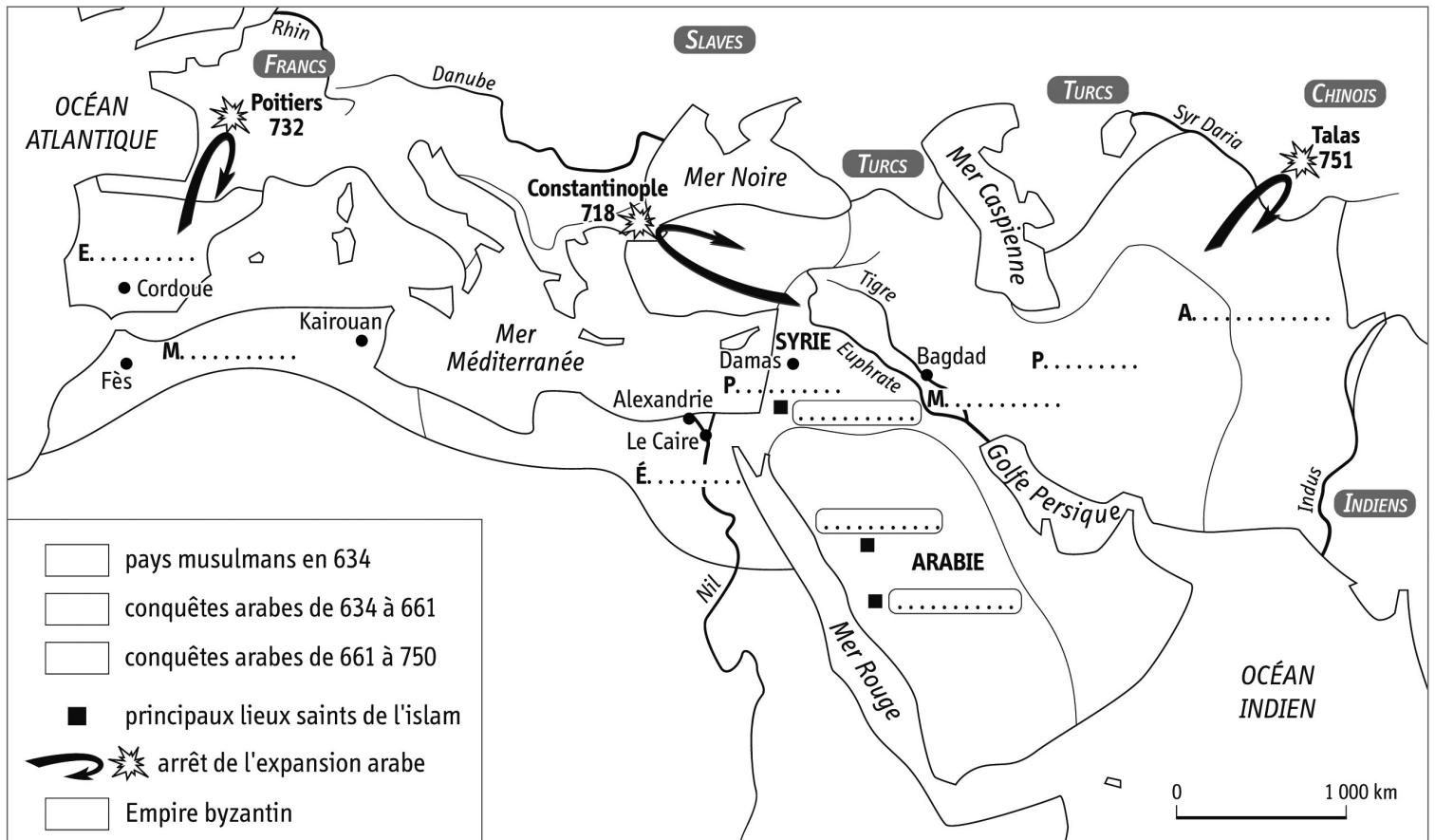
1 – Le Coran est écrit en arabe. Pour les musulmans, c'est un livre sacré car il rassemble les paroles de Dieu.

2 – L'Islam ne s'oppose pas au christianisme ni au judaïsme, au contraire, il en est le prolongement. Le verset 2 de la troisième sourate (c'est-à-dire la chapitre 3 du livre) affirme clairement la Torah (livre sacré des juifs) et les Evangiles (livre sacré des chrétiens) viennent de Dieu et que le Coran « confirme les Ecritures qui l'ont précédé ».

3 – a/ Les musulmans doivent croire qu'il n'y a qu'un seul Dieu et que Mohamed est son prophète. b/ Les musulmans doivent se rendre, au moins une fois dans leur vie, en pèlerinage à La Mecque : alors, ils deviennent Hadj. c/ Pendant le mois de ramadan, les musulmans doivent jeûner (ni manger ni boire) du lever du soleil au coucher du soleil. d/ Les musulmans doivent donner l'aumône (*zakhat*) aux pauvres. La phrase « les fruits que nous avons fait sortir pour vous de la terre » montre que c'est Dieu qui parle, le Coran est donc la parole de Dieu.

4 – Les interdits alimentaires sont : le sang, le porc, les animaux tués par chute, par coup de corne ou sacrifiés sur les autels des idoles. Le vin est interdit car, d'après le Coran, il est une invention de Satan qui provoque la haine entre les hommes et les éloigne de Dieu et de la prière.

5 – Les hommes n'ont pas d'obligation à la polygamie (être marié avec plusieurs femmes en même temps), au contraire : s'ils ne sont pas « équitables », ils doivent prendre une seule épouse. En France aujourd'hui, la polygamie est interdite : on peut se marier avec une seule personne à la fois. Dans toutes les mairies de France, on enregistre le mariage dans un registre d'Etat Civil.



Activité pages 38-39 sur la ville de Damas au Moyen Age

Damas est une ville de Syrie, à 400 km au Nord de Jérusalem. Elle existe depuis la plus haute Antiquité, et est souvent mentionnée dans la Bible. La voie romaine sur le plan rappelle que Damas était déjà capitale de la province de Syrie dans l'empire romain. Le centre politique et militaire de Damas est la citadelle, qui sert de logement à l'émir et à la garnison de soldats. La ville est protégée par des remparts.

1-a/ La rue principale de Damas est longue d'environ 1400 m. b/ Les deux principaux bâtiments de la cité sont la citadelle et la grande mosquée, au Nord-Est de la ville. c/ Les souks et le funduk, sont représentés en rose. d/ constructions religieuses : mosquées (dont la grande mosquée, ainsi que des églises et une synagogue) ; bâtiments commerciaux : souks et funduk ; constructions et aménagements de loisirs : hammams et jardins.

2 – L'eau des canaux vient de la rivière Barada qui coule au Nord de la ville. Ils approvisionnent en eau les hammams (bains publics, lieu de loisir, de repos et d'hygiène) mais aussi les souks et les mosquées. Ils permettent aussi l'évacuation des eaux usées (= égouts).

3 - La religion dominante à Damas au XII<sup>ème</sup> siècle est l'Islam, mais il y a de nombreux juifs et chrétiens, dont les lieux de culte sont préservés.

4 – Ces textes montrent quelques aspects de la vie quotidienne à Damas à la fin du Moyen Age : la présence de médecins réputés, l'usage des chameaux (transport) et des dirhams (monnaie), la liberté pour chaque communauté de prier Dieu à sa manière.

Activité pages 40-41 sur la grande mosquée de Damas

Les numéros 1 à 5 sur la photo aérienne correspondent au minaret (1), à la cour (2) à la fontaine aux ablutions (3), à la salle de prière (4) et au mur de la qibla (5). La qibla est orientée vers La Mecque. Le mirhab (document 2) est une cavité dans la qibla qui symbolise la présence du prophète Mohamed. Le minbar est une chaire du haut de laquelle l'imam dirige la prière. La fontaine au milieu de la cour permet aux fidèles de faire les ablutions rituelles avant la prière. Du minaret, le muezzin appelle à la prière en chantant des paroles du Coran, surtout le vendredi. La mosquée est d'abord un lieu de prière. Les musulmans s'y retrouvent parfois dans la journée, souvent pour la prière du soir et toujours le vendredi pour la grande prière hebdomadaire. Elle est aussi une école où les enfants apprennent à lire dans le Coran et à écrire en arabe ; elle est enfin un lieu de repos et de loisirs pour ceux qui aiment raconter ou écouter des histoires.

Activité pages 42-43 sur le goût des sciences dans l'empire arabo-musulman médiéval

1 – Les livres traduits à Bagdad sur l'ordre du calife al-Mamoun viennent de Byzance et sont des œuvres de l'Antiquité grecque et romaine.

2 – Les connaissances dont s'inspire Al-Kwarizimi viennent de l'Inde. Ce mathématicien perse fait d'importants progrès dans les domaines de l'arithmétique et de l'algèbre.

3 – Dans les observatoires de Bagdad et du Caire, les savants musulmans utilisent des astrolabes et des quadrants pour déterminer la position des astres, mais pas de lunettes astronomiques.

4 – Pour pratiquer une césarienne, les médecins arabes utilisent leur connaissance en anatomie et maîtrisent l'art de la chirurgie.

5 – Les héritages dont bénéficient les savants arabes viennent d'Inde et de l'empire romain. Les progrès les plus remarquables concernent les mathématiques, la médecine et l'astronomie.

Activité pages 52-53 sur les croisades et le djihad

1 – En Espagne, entre 1050 et 1200, les chrétiens du Nord gagnent des territoires vers le Sud, aux dépens des musulmans d'al-Andalus. La ville de Tolède redevient chrétienne.

2 – Les raisons de la première croisade sont d'une part la conquête de Jérusalem par les Turcs musulmans, qui empêchent les chrétiens d'aller prier sur le tombeau du Christ ; d'autre part l'appel à l'aide des Byzantins qui craignent que l'empire s'effondre face aux Turcs ; enfin l'appel du pape Urbain II en 1095, qui promet le paradis aux combattants morts en croisade.

3 – La première croisade se déroule de 1096 à 1099. Les croisés empruntent la route terrestre, à travers le Saint-Empire, l'Italie, puis l'empire Byzantin. Elle se termine par la conquête de Jérusalem et la création de 4 États latins en Orient.

4 – Face aux croisés, les musulmans organisent la défense puis la contre-attaque. En 1187, Saladin reprend Jérusalem et en 1291, les États latins disparaissent définitivement.

5 – Constantinople est pillée par les chevaliers chrétiens d'Occident, qui considèrent que les Byzantins ne sont plus de bons chrétiens et sont trop conciliants avec les musulmans.

Activité pages 54-55 sur le commerce en Méditerranée

1 – a/ Les principales villes marchandes d'Italie au XII<sup>ème</sup> siècle sont Gênes, Pise, Naples et surtout Venise. Cette ville est située tout au Nord de la mer Adriatique. Elle est construite sur une lagune. b/ Les marchands italiens font du commerce avec Constantinople, Alexandrie, Acre, mais aussi Trébizonde et même Tana. Ils y achètent les produits de luxe de l'Orient : épices, soie, pierres précieuses, alun, fourrures, parfois même des esclaves. c/ Les marchands italiens reviennent en Occident pour revendre ces marchandises aux grands seigneurs. d/ Le site de Venise est très particulier : la ville est construite sur une lagune, c'est-à-dire un banc de sable, entouré d'eau et fermé par d'autres bancs de sables (appelés *lido*) : ainsi, elle est naturellement protégée d'éventuels ennemis, assaillants, pirates ou voleurs.

2 – Les avantages ou préivilèges commerciaux que l'empereur de Byzance donne aux marchands vénitiens sont d'une part un cadeau annuel de 20 livres d'or ; d'autre part l'usage des boutiques du quartier de Pera, pour stocker et vendre leur marchandises ; enfin la liberté de faire du commerce dans l'empire sans payer de taxes.

3 – Le calife d'Égypte donne aussi quelques avantages aux marchands italiens : droit de stocker les marchandises, de faire du commerce partout en Égypte et de revendre certaines marchandises en Occident, à condition de payer un droit de douane. Pour le calife, les marchands italiens sont indispensables, à la fois pour apporter des marchandises rares (bois, fer, sel) et pour écouler certains produits d'Orient.

4 – Les Vénitiens sont mécontents des décisions de l'empereur byzantin, qui a supprimé les avantages commerciaux : c'est donc par vengeance qu'ils aident les croisés à piller Constantinople en 1204.

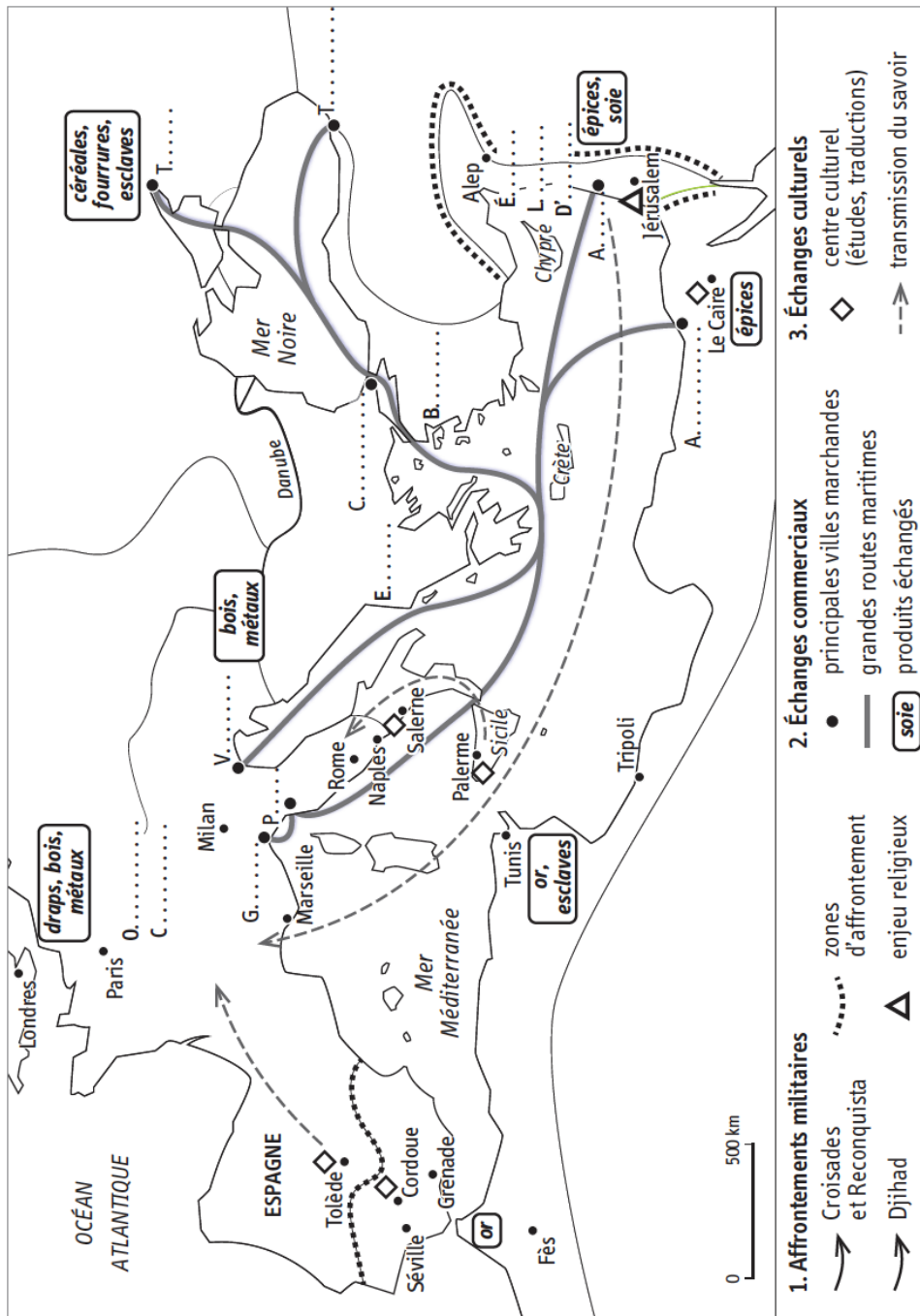
Activité pages 56-57 sur la Sicile, un carrefour culturel

1 – Au XII<sup>ème</sup> siècle, le royaume de Sicile s'étend sur l'île de Sicile et le sud de l'Italie (Calabre, Pouilles, Campanie). Sa capitale est Palerme.

2 – D'après cette image, le roi Roger II reçoit sa couronne du Christ, c'est-à-dire qu'il tient son pouvoir de Dieu. Cette œuvre est manifestement influencée par la civilisation byzantine (mosaïque, visages, vêtements).

3 – Le roi normand de Sicile Guillaume II est chrétien mais ne montre pas d'hostilité aux musulmans : une partie de ses conseillers et serviteurs sont musulmans, son apparence vestimentaire est proche des coutumes des musulmans (la pompe royale, la parure) et enfin il sait lire et écrire l'arabe.

4 – Pour tracer les cartes de son atlas et les commenter, Al-Idrisi s'est inspiré des œuvres de Ptolémée, grand géographe grec de l'Antiquité, des œuvres des géographes arabes et de ses propres voyages. On constate sur cette carte que le monde est mieux connu qu'au temps d'Eratosthène (voir cours de 6<sup>ème</sup>) mais que plusieurs parties du monde restent inconnues : Nord de l'Asie, Sud de l'Afrique, et surtout Australie et Amérique.



1. Indiquez le nom des pays, des empires et des États.

2. Coloriez en orange l'Empire byzantin et en vert le monde arabo-musulman.

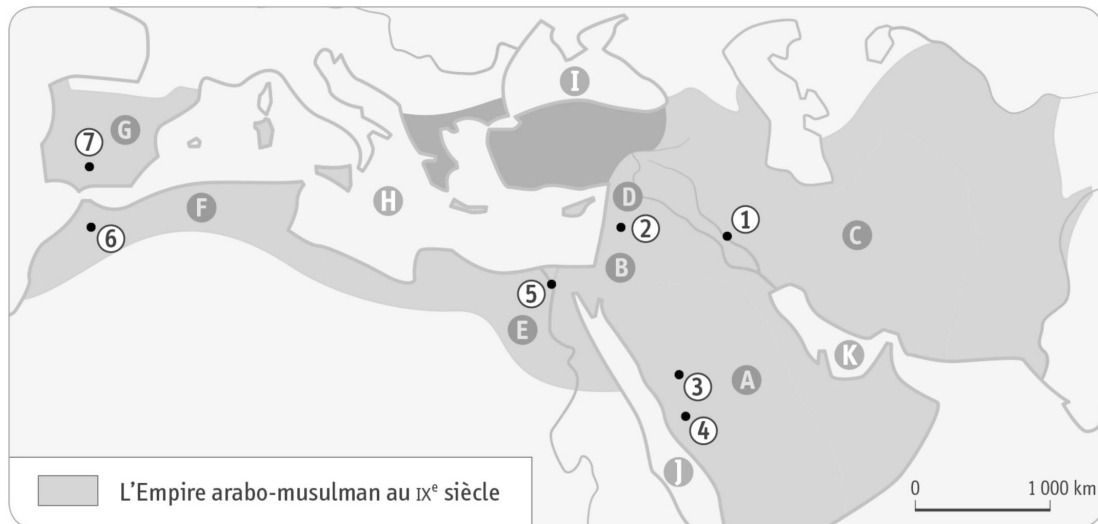
3. Placez les flèches indiquant les mouvements militaires.

4. Indiquez le nom de principales villes marchandes.

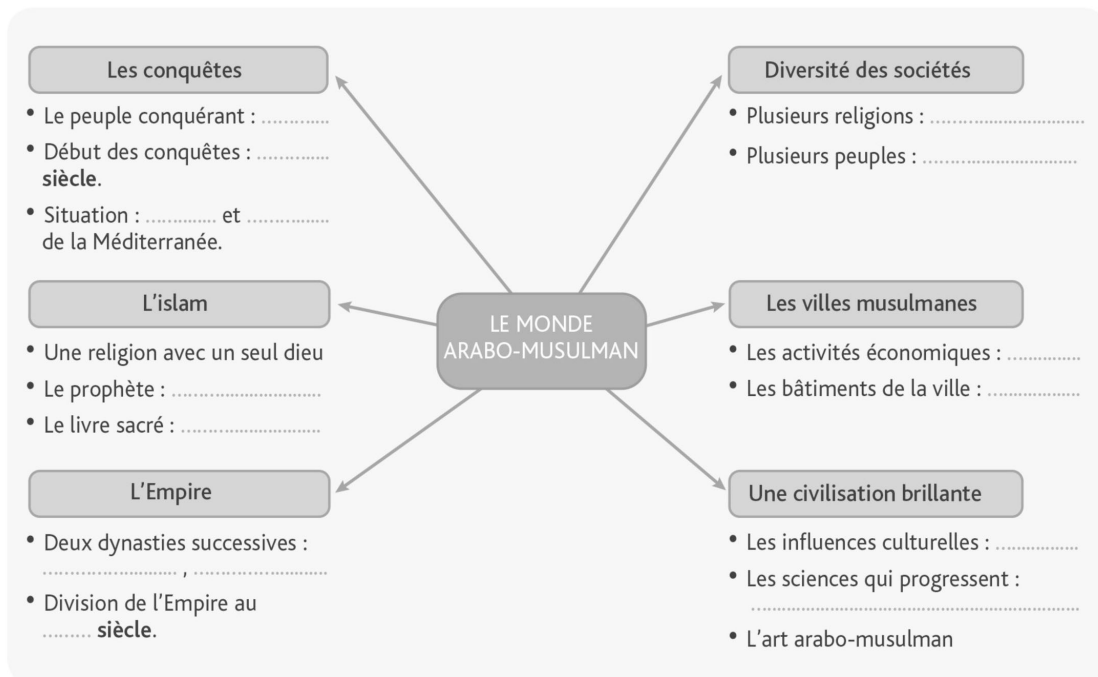
5. Notez près de quelles villes ont lieu les échanges culturels :

.....

# REVISIONS



Empire en gris foncé : ..... / Empire en gris clair : ..... /  
 Régions : A = ..... / B = ..... / C = ..... /  
 D = ..... / E = ..... / F = ..... / G = ..... /  
 H = ..... / Villes : 1 = ..... / 2 = ..... /  
 3 = ..... / 4 = ..... / 5 = .....



Attribuez à chaque date le fait qui lui correspond :

*Départ de la première croisade • Traité du commerce entre Venise et l'Empire byzantin • Pillage de Constantinople par les croisés • Prise de Jérusalem par les croisés.*

1204 : .....

1082 : .....

1096 : .....

1099 : .....

## 2. Je représente les contacts entre les Chrétienté et Islam

Réalisez ou imprimez les trois schémas en les complétant avec les mots suivants.  
 Vous pouvez les écrire plusieurs fois.

- Croisades • Reconquista • Pillage de Constantinople (1204) • Marchands italiens (Venise, Gênes)
- Livres grecs • Techniques (boussole, papier) • Djihad • Livres grecs et arabes

