

Défi maths Cycle 3 (CM1 CM2)

Document élève












LES DISQUES QUI FONT « 100 »



Pour ces 4 égalités,

- le nombre mis dans le disque rouge doit être le même pour chacune des lignes
- le nombre mis dans le disque jaune doit être le même pour chacune des lignes
- le nombre mis dans le disque vert doit être le même pour chacune des lignes
- le nombre mis dans le disque bleu est encore un autre nombre.

Trouve ces nombres afin que les égalités soient vraies !

	+		=	
	+		=	
	+		=	
	+		=	100