




Nombres et quantités : de 0 à 20




1 Complète avec le bon nombre :

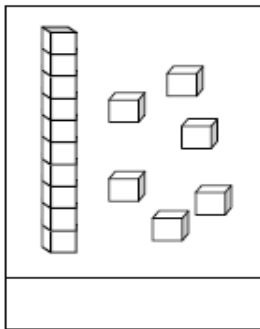


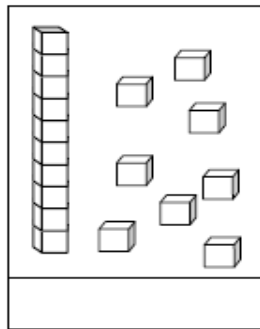


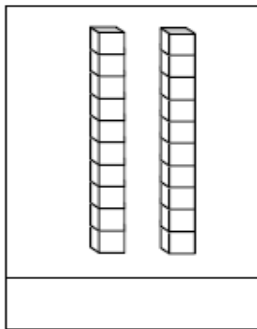


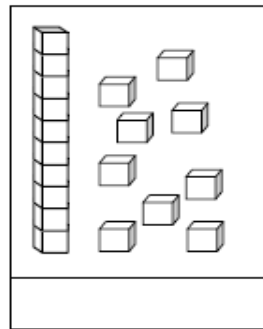


2 Complète:










Les-cocinelles.fr

3 Complète le tableau:

nombre avant	nombre	nombre après
	14	
	17	
	19	
	10	


4 Complète la bande numérique:



Nombres et quantités: de 0 à 25



1 Relie les nombres dans l'ordre, de 1 à 25




2 Complète:

12	$10 + 2$
14	
17	
11	

	$10 + 5$
	$10 + 3$
	$10 + 6$
	$10 + 9$

3 Complète :



Prénom : _____

Date: _____

Nombres et quantités : de 0 à 30

3  15

1 Complète avec $<$, $>$ ou $=$:

12 15

21 12

18 8

19 6

20 12

14 14

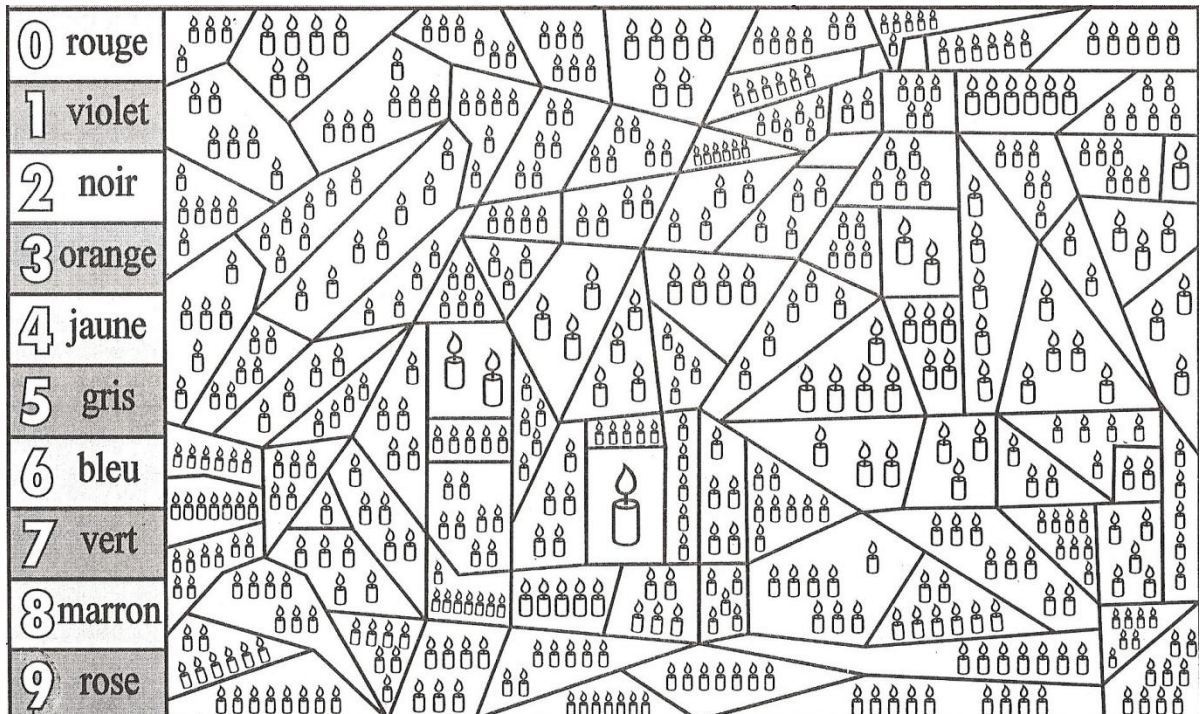
2 Ecris les nombres dans l'ordre croissant, du plus petit au plus grand:

21 - 14 - 3 - 10 - 19 - 27

□ □ □ □ □ □

crevette.eklablog.com

3 Colorie en suivant le code couleur :



Prénom : _____

Date: _____

Nombres et quantités : de 0 à 30

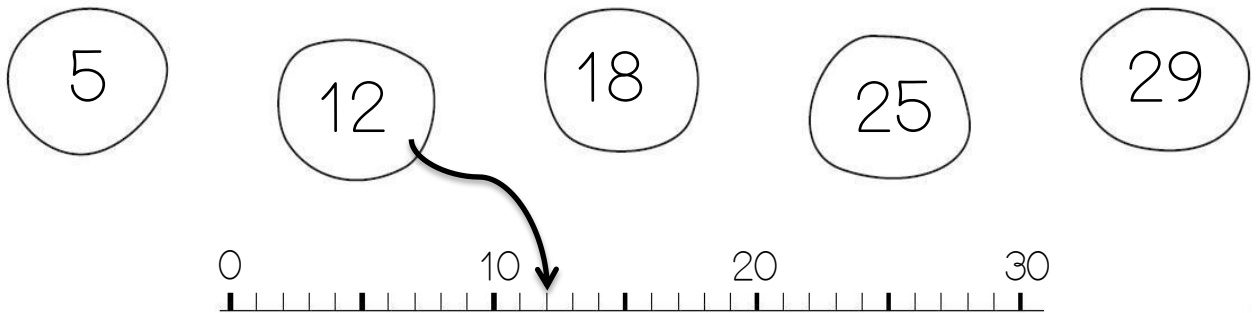


1 Complète les tableaux:

21	$20 + 1$
19	
20	
28	
12	

	$20 + 6$
	$10 + 5$
	$20 + 7$
	$20 + 9$
	$10 + 7$


2 Relie les nombres à leur place sur la droite graduée



3 Complète:

nombre avant	nombre	nombre après
	20	
	23	
	30	
	15	

4 Complète



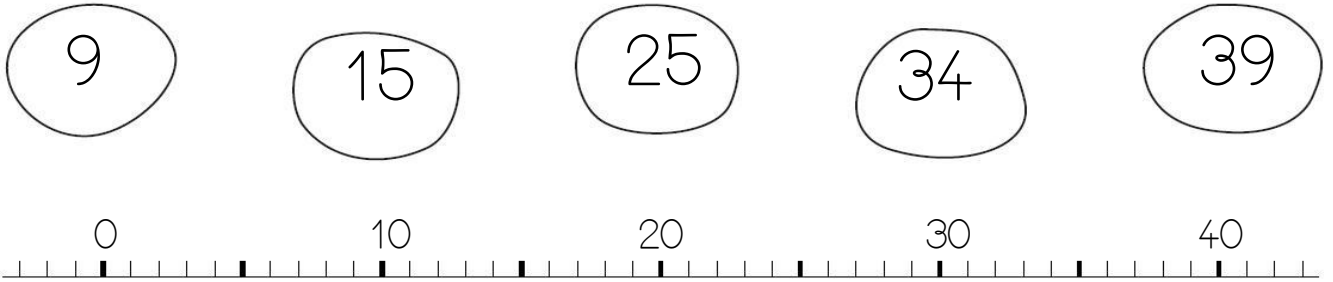
Prénom : _____

Date: _____

Nombres et quantités : de 0 à 40



1 Relie les nombres à leur place sur la droite graduée:



2 Complète avec $<$, $>$ ou $=$:

32 25

28 8

12 21

19 26


23 32

3  15

3 Complète:

nombre avant	nombre	nombre après
	40	
	31	
	27	
	35	

4 Complète



Prénom : _____

Date: _____

Nombres et quantités : de 0 à 40



1 Complète les tableaux:

24	2d 4u
35	
12	
30	

	2d 5u
	3d u
	2d 2u
	4d 0u

2 Colorie en rouge les chiffres des dizaines et en bleu les chiffres des unités :

32

25

15

38

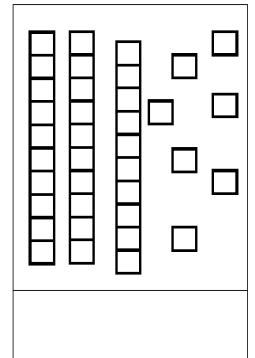
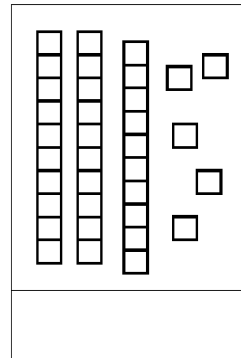
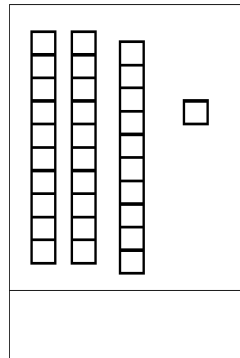
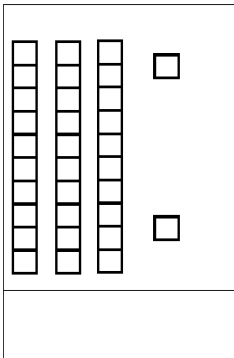
28

8

18

6

3 Complète:



Les-coccinelles.fr

4 Ecris les nombres dans l'ordre croissant, du plus petit au plus grand:

25 - 34 - 9 - 18 - 38 - 26

□ □ □ □ □ □

Nombres et quantités : de 0 à 40



1 Compte le nombre d'objets en les groupant pas 10:

d	u

Il y a ___ étoiles


d	u

Il y a ___ cœurs

d	u

Il y a ___ croix

2 Relie les points de 1 à 40 :



3 Devinette :

Je suis un nombre plus petit que 40 mais je suis plus grand que 30.

Mon chiffre des unités est 6.

Qui suis-je?

Nombres et quantités : de 0 à 50



1 Ecris les nombres manquants :

The first circular number line starts at 31 and ends at 38. The second starts at 38 and ends at 43. Below them is a sequence of boxes: 40, a box with four dots, a box with four dots, a box with four dots, a box with four dots, a box with four dots, a box with four dots, and 50. A pencil icon is positioned between the two circular number lines.

2 Entoure le plus petit nombre de chaque liste :

→	46	28	35	44	29	24	42
→	50	10	25	45	30	20	40
→	53	5	14	32	49	42	41
→	39	37	35	25	27	29	31

3 Relie les nombres:

A dot-to-dot puzzle featuring a parrot and a skull and crossbones. The puzzle is composed of 50 numbered dots. The parrot is on the right, and the skull and crossbones is in the center. The numbers range from 1 to 50, with some numbers already connected by lines.

Prénom : _____

Date: _____

Nombres et quantités : de 0 à 50

3  15

1 Complète avec $<$, $>$ ou $=$:

22 $10 + 2$

45 $40 + 2$


18 $10 + 8$

39 $30 + 9$

26 $20 + 8$

40 $10 + 10 + 10$


2 Compte le nombre de papillons en faisant des groupes de 10:



3 Ecris les nombres du plus grand au plus petit:

26 - 34 - 19 - 18 - 8 - 46

3 Complète :



Prénom : _____

Date: _____

Nombres et quantités : de 0 à 50

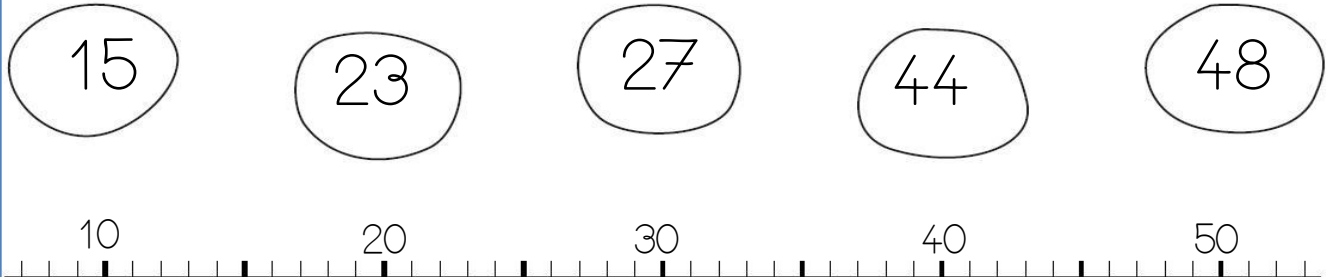


1 Complète les tableaux:

41	$40 + 1$
49	
30	
38	
42	

	$40 + 6$
	$30 + 5$
	$20 + 7$
	$30 + 9$
	$10 + 9$

2 Relie les nombres à leur place sur la droite graduée



3 Complète:

nombre avant	nombre	nombre après
		31
	43	
38		
		49

4 Colorie le chemin du 50 :

50	$40 + 10$	trente	40	$35 + 5$
$30 + 10$	5 dizaines	$25 + 25$	4 dizaines	5d 3u
$46 + 3$	$20 + 25$	$42 + 8$	$30 + 15$	$10 + 20$
quarante	$41 + 4$	cinquante	$45 + 5$	5d 0u

Prénom : _____

Date: _____

Nombres et quantités : de 0 à 60

3  15

1 Complète avec $<$, $>$ ou $=$:

42 4d 3u

51 5d

34 2d 4u

39 3d 9u

46 6d 4u

50 5d

2 Compte combien d'argent a chaque personnage :



Qui a le plus d'argent?

3 Colorie en rouge les dizaines et en bleu les unités:

52

55

1

48


26

12

30

59

4 Complète :



Nombres et quantités : de 0 à 60




1 Entoure le plus petit nombre de chaque liste

→	40	25	35	24	29	44	22
→	50	10	25	45	30	60	40
→	53	35	34	32	49	42	41
→	39	37	55	25	57	59	31

2 Dessine :

<u>43</u> 	<u>25</u>
<u>31</u>	<u>50</u>

3 Relie les nombres de 0 à 60 :



4 Devinette :

Je suis un nombre
qui a 5 dizaines.

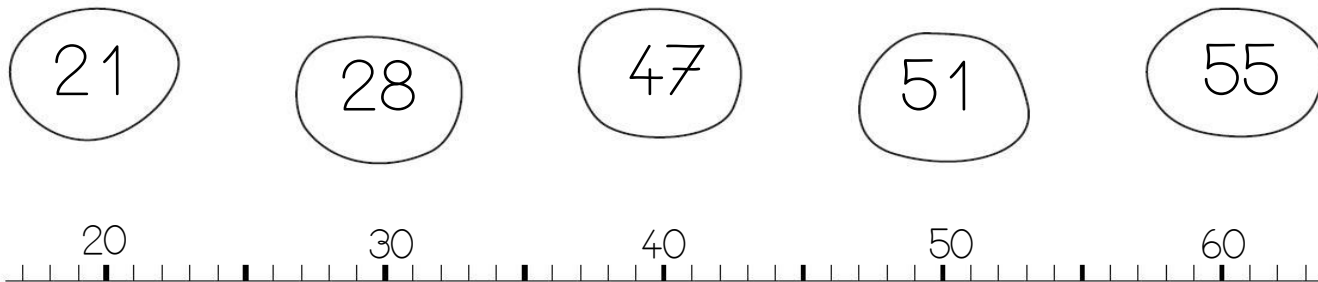
Je suis plus petit
que 51.

Qui suis-je?

Nombres et quantités : de 0 à 60



1 Relie les nombres à leur place sur la droite graduée :




2 Compte le nombre de voitures en faisant des paquets de 10 :



3 Place les nombres dans le train:

51 - 58 - 42 - 29 - 37



4 Colorie le chemin du 60 :

60	$40 + 20$	trente	40	$35 + 5$
$30 + 10$	6 dizaines	$30 + 30$	6 unités	5d 3u
$46 + 3$	$25 + 25$	$50 + 10$	$30 + 20$	$10 + 20$
quarante	$50 + 9$	soixante	$55 + 5$	6d 0u

Prénom : _____

Date: _____

Nombres et quantités : de 0 à 69

3  15

1 Complète avec $<$, $>$ ou $=$:

62 $50 + 2$

45 $40 + 2$

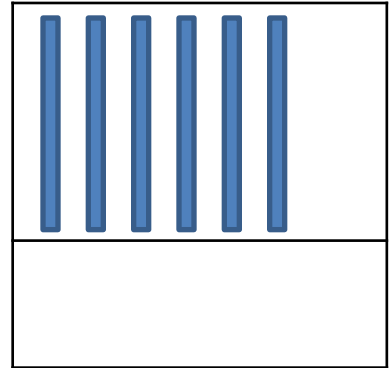
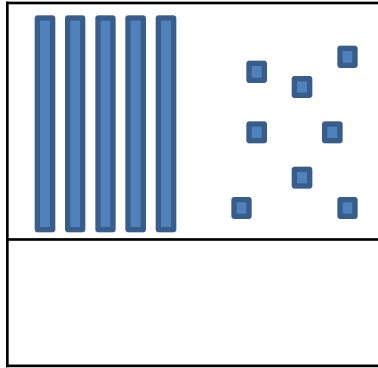
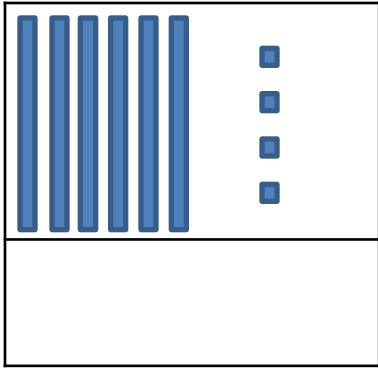
53 $50 + 3$

69 $60 + 7$

67 $60 + 5$


60 $20 + 20 + 20$

2 Compte et complète :




3 Place les nombres dans le train:

69 - 49 - 62 - 58 - 67



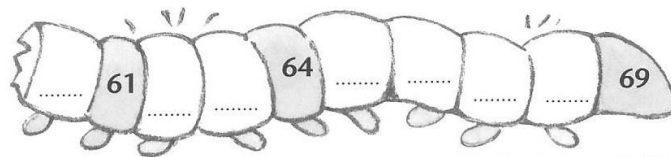
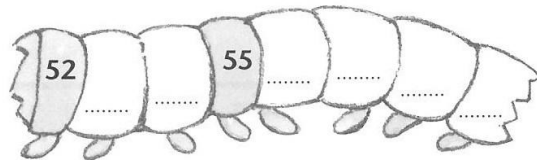
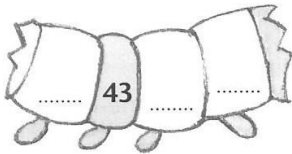
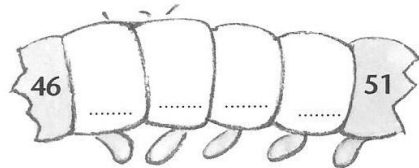
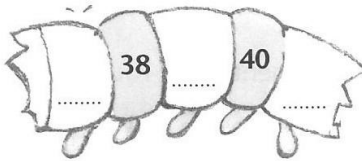
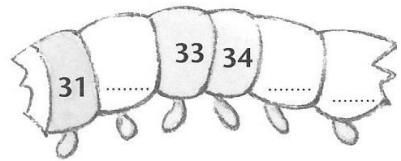

4 Complète la chenille:



Nombres et quantités : de 0 à 69



1 Ecris les nombres manquants et relie les morceaux de la chenille dans l'ordre:



2 Complète les tableaux:

62	6d 2u
50	
65	
48	
32	

	6d 3u
	5d 1u
	5d
	6d 9u
	8u

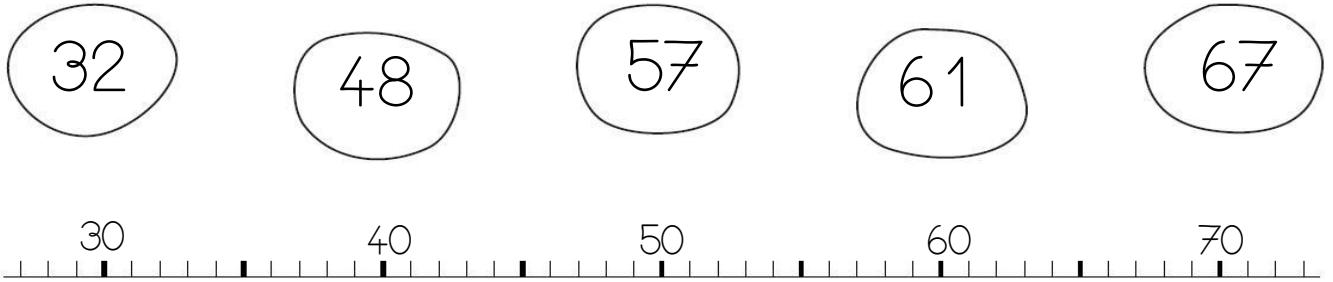
3 Colorie le chemin du 69 :

69	$50 + 9$	trente	40	$35 + 5$
$60 + 9$	6u 9d	$30 + 30$	6 unités	5d 3u
6d 9u	soixante-neuf	$70 - 1$	$30 + 20$	$10 + 20$
soixante	$50 + 9$	9u 6d	$50 + 19$	$9 + 60$

Nombres et quantités : de 0 à 69



1 Relie les nombres à leur place sur la droite graduée :




2 Complète les tableaux

61	$60 + 1$
59	
50	
41	
52	

	$60 + 8$
	$60 + 2$
	$50 + 3$
	$50 + 5$
	$60 + 6$

3 Relie les nombres de 0 à 70:



4 Devinette:

Je suis un nombre plus petit que 60.
Je suis plus grand que 40.

Mon chiffre des dizaines n'est pas 4 et celui des unités est 2.

Qui suis-je?