

Prénom : _____

Date: _____

Nombres et quantités : de 0 à 999



1 Complète le tableau:

nombre avant	nombre	nombre après
	445	
608		
		261
854		

2 Complète avec <, > ou =:

3  15

265 625

100 200

109 901

350 410

600 612

918 185

49 412

180 818

3 Relie les nombres à leur place sur la droite graduée

420

370

630

550

590

300


400

500

600

700

4 Complète la bande numérique:

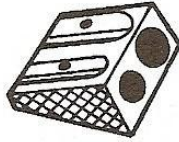


Nombres et quantités: de 0 à 999




1 Ecris les nombres manquants:

283	286
-----	------	------	-----

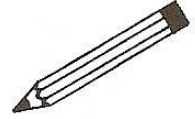


....	326
------	------	------	-----



....
....
289	292

317
-----	------	------	------



555
-----	------	------	------

....	565
------	------	------	-----

....
....
....
449
....
....	459

....
....
....
....
....
....

2 Colorie les nombres identiques :

523

quatre - cent - quatre - vingt - quatre

$200 + 9$

$400 + 80 + 4$

$500 + 20 + 3$

neuf - cent - quarante - neuf

209

deux - cent - neuf

$900 + 40 + 9$

949

cinq - cent - vingt - trois

484

3 Complète :

182	$100 + 80 + 2$
646	
287	
841	

	$700 + 40 + 5$
	$300 + 90 + 3$
	$900 + 50 + 7$
	$500 + 10 + 9$

Prénom : _____

Date: _____

Nombres et quantités : de 0 à 999



1 Relie les nombres identiques :

425

cing - cent - quatre - vingt - cinq

224

quatre - cent - vingt - cinq

585

huit - cent - quatre

804

quatre - cent - cinquante - cinq

455

deux - cent - vingt - quatre

505

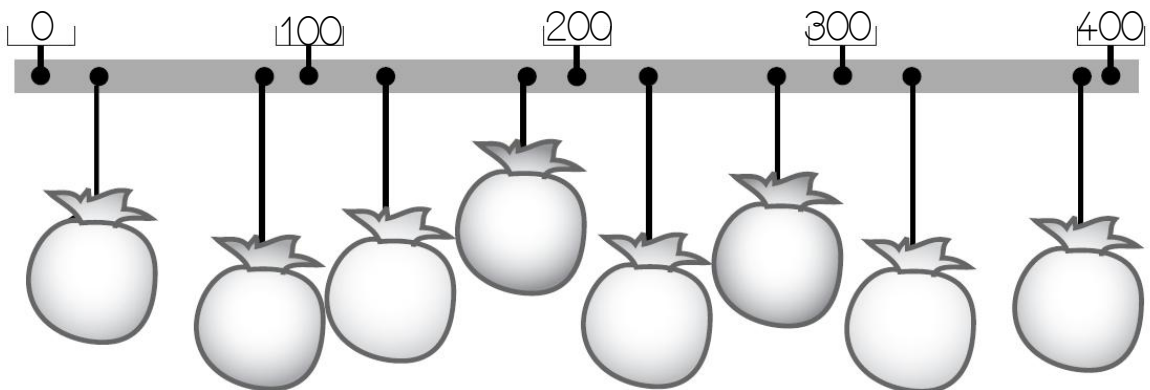
cing - cent - cinq

850

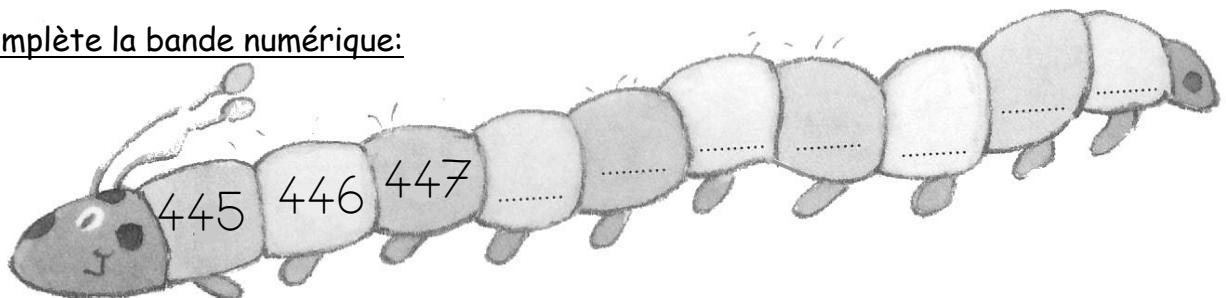
huit - cent - cinquante

2 Ecris les nombres à leur place dans les sacs:

390 - 90 - 25 - 325 - 130 - 250 - 180 - 275



3 Complète la bande numérique:



Prénom : _____

Date: _____

Nombres et quantités : de 0 à 999



1 Encadre le nombre avec les nombres de ton choix:

..... 152

..... 448

..... 598

..... 825

..... 485

..... 776

..... 905

..... 622

..... 98

2 Ecris les nombres dans l'ordre croissant, du plus petit au plus grand:


481 - 94 - 814 - 189 - 197 - 167 - 414

□ □ □ □ □ □ □

3 Ecris les nombres en lettres:

209	
625	
438	
104	
798	
355	

4 Complète la bande numérique:



Prénom : _____

Date: _____

Nombres et quantités : de 0 à 999



1 Encadre le nombre entre deux dizaines qui se suivent:

..... 452

..... 488

..... 68

..... 185

..... 645

..... 426

..... 815

..... 312

..... 778

2 Colorie en bleu les unités, en rouge les dizaines et en vert les centaines

912

198

4

19

109

589

719

46

127

159

167

919

3 Ecris les nombres dans l'ordre croissant, du plus petit au plus grand:

505 - 395 - 400 - 64 - 51 - 664 - 550

□ □ □ □ □ □ □

4 Dessine :

123			354
405			260

Prénom : _____

Date: _____

Nombres et quantités : de 0 à 999

3  15

1 Complète avec $<$, $>$ ou $=$:

202 $100 + 20$

467 $400 + 70$

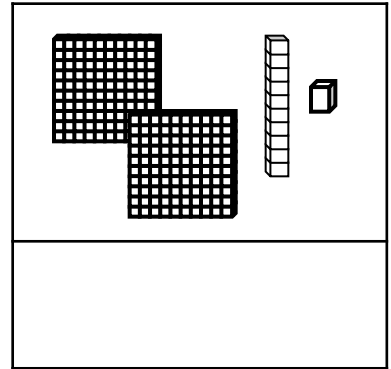
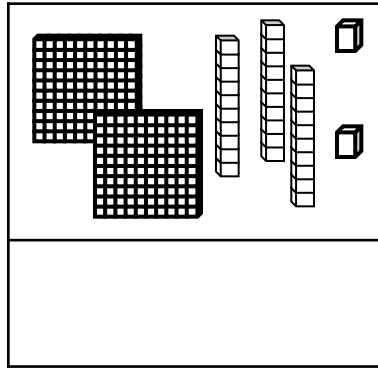
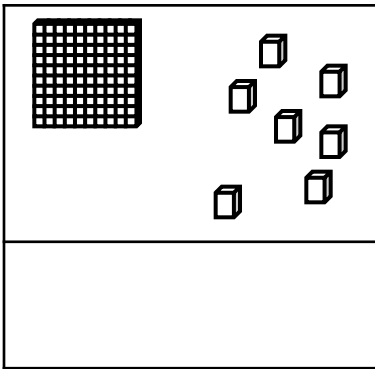
338 $300 + 80 + 8$

630 $600 + 30$

256 $300 + 60 + 5$

375 $100 + 100 + 100$


2 Compte et complète :



3 Ecris les nombres du plus grand au plus petit:

655 - 816 - 565 - 154 - 96 - 810 - 500

4 Complète :



Prénom : _____

Date: _____

Nombres et quantités : de 0 à 999

3  15

1 Complète avec <, > ou =:

252 trois - cent - deux

477 cinq - cent - dix


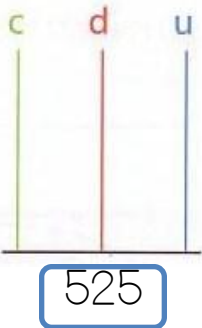
28 cent - huit

803 huit - cent - trois

536 cinq - cent

465 cent - soixante


2 Complète les abaques :



3 Complète le tableau :

827	$800 + 20 + 7$	$8c + 2d + 7u$
565		
959		
282		
709		

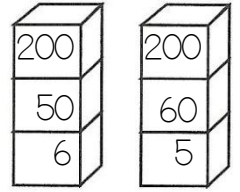
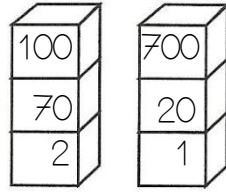
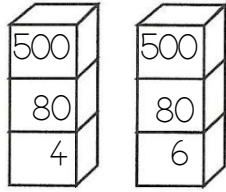
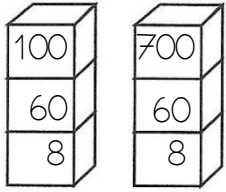
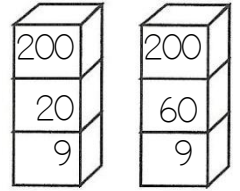
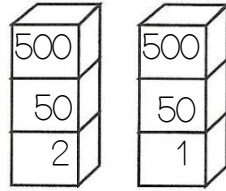
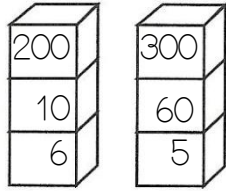
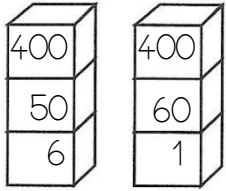
4 Complète :




Nombres et quantités : de 0 à 999



1 Colorie la pile qui représente le plus petit nombre:



2 Entoure les pièces et billets qu'il faut choisir pour avoir 336€ :



Pour avoir 336€, il faut :

.....	billets de 100 €
.....	billets de 10 €
.....	pièces de 1 €

3 Relie les nombres à leur place sur la droite graduée :

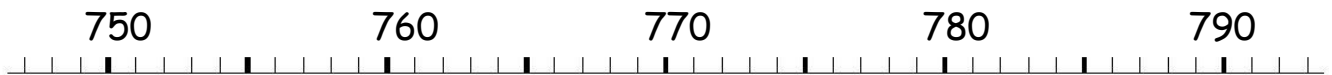
759

772


781

779

787



4 Complète :




Nombres et quantités : de 0 à 999



1 Complète les compteurs :

535	748	271	303	497	811
536	749	272	304	498	812

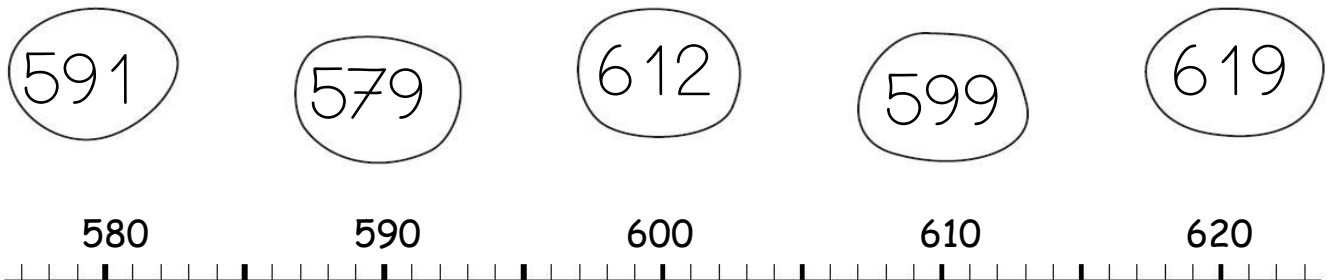
2 Entoure les pièces et billets qu'il faut choisir pour avoir 447€ :




Pour avoir 447€, il faut :

.....	billets de 100 €
.....	billets de 10 €
.....	pièces de 1 €

3 Relie les nombres à leur place sur la droite graduée :



4 Complète :



Prénom : _____

Date: _____

Nombres et quantités : de 0 à 999



1 Ecris en chiffres :

deux - cent - cinquante - six :

trois - cent - soixante - dix :

cent - soixante - six :

cinq - cent - trois :


six - cent - quatre - vingt - dix :

six - cent - vingt - neuf :

neuf - cent - onze :

sept - cent - quatre - vingt - deux :

2 Entoure les pièces et billets qu'il faut choisir pour avoir 606€ :

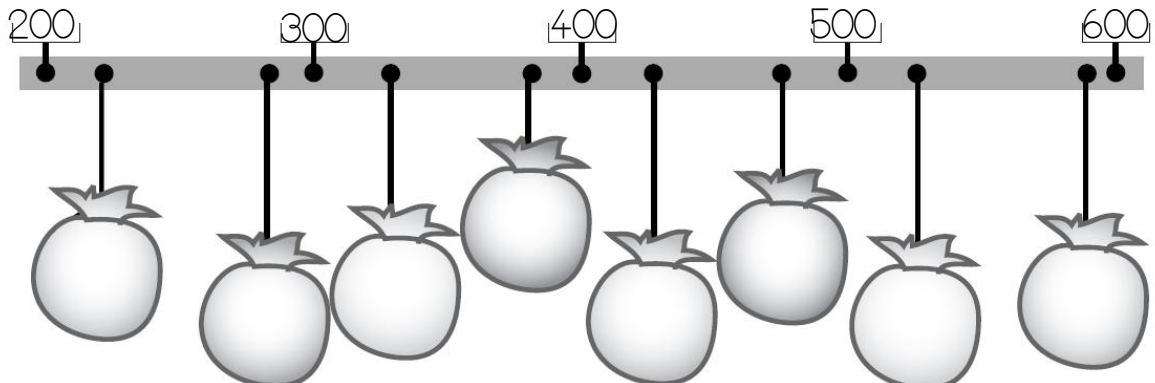


Pour avoir 606€, il faut :

.....	billets de 100 €
.....	billets de 10 €
.....	pièces de 1 €

3 Ecris les nombres à leur place dans les sacs :

525 - 330 - 428 - 290 - 590 - 225 - 382 - 475



Prénom : _____

Date: _____

Nombres et quantités : de 0 à 999



1 Complète le tableau:

nombre avant	nombre	nombre après
	613	
458		
		278
163		

2 Complète avec <, > ou =:

3  15

365

.....

635

75

.....

111

152

.....

150

509

.....

59

901

.....

910

956

.....

912

278

.....

728

666

.....

555

3 Relie les nombres à leur place sur la droite graduée

740

670

830

990

890

600


700

800

900

1000

4 Complète la bande numérique:

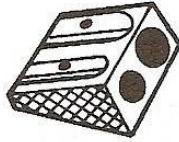


Nombres et quantités: de 0 à 999




1 Ecris les nombres manquants:

253	256
-----	------	------	-----

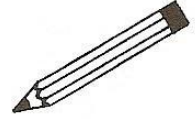


....	420
------	------	------	-----



....
....
259	262

411
-----	------	------	------



702
-----	------	------	------

....	712
------	------	------	-----

....
....
....
689
....	699

....
....
....
....

2 Colorie les nombres identiques :

609

six - cent - quatre - vingt - dix - neuf

$600 + 9$

$600 + 90 + 1$

$600 + 90 + 9$

six - cent - quatre - vingt - onze

619

six - cent - neuf

$600 + 10 + 9$

699

six - cent - dix - neuf

691

3 Complète :

182	$100 + 80 + 2$
520	
806	
741	

	$600 + 40 + 8$
	$700 + 3$
	$900 + 50$
	$400 + 10 + 4$

Prénom : _____

Date: _____

Nombres et quantités : de 0 à 999



1 Relie les nombres identiques :

426

cing - cent - quatre - vingt - huit

228

quatre - cent - vingt - six

588

huit - cent - neuf

809

quatre - cent - cinquante - six

456

deux - cent - vingt - huit

501

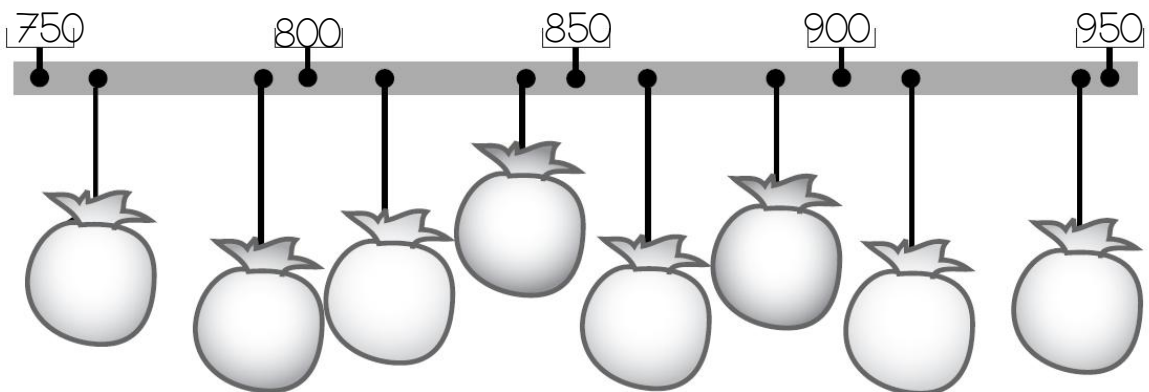
cing - cent - un

860


huit - cent - soixante

2 Ecris les nombres à leur place dans les sacs:

915 - 860 - 815 - 760 - 990 - 790 - 840 - 880



3 Complète la bande numérique:



Prénom : _____

Date: _____

Nombres et quantités : de 0 à 999



1 Encadre le nombre avec les nombres de ton choix:

..... 540

..... 104

..... 750

..... 256

..... 200

..... 436

..... 706

..... 462

..... 685

2 Ecris les nombres dans l'ordre croissant, du plus petit au plus grand:


514 - 214 - 85 - 612 - 126 - 541 - 650

□ □ □ □ □ □ □

3 Ecris les nombres en lettres:

645	
305	
814	
675	
298	
360	

4 Complète la bande numérique:



Prénom : _____

Date: _____

Nombres et quantités : de 0 à 999



1 Encadre le nombre entre deux dizaines qui se suivent:

..... 452

..... 488

..... 68

..... 185

..... 645

..... 426

..... 815

..... 312

..... 778

2 Colorie en bleu les unités, en rouge les dizaines et en vert les centaines

912

198

4

19

109

589

719

46

127

159

167

919

3 Ecris les nombres dans l'ordre croissant, du plus petit au plus grand:

214 - 244 - 240 - 211 - 241 - 210 - 204

□ □ □ □ □ □ □

4 Dessine :

123		504
215		610

Prénom : _____

Date: _____

Nombres et quantités : de 0 à 999

3  15

1 Complète avec $<$, $>$ ou $=$:

312 $300 + 20 + 1$

356 $300 + 50 + 6$

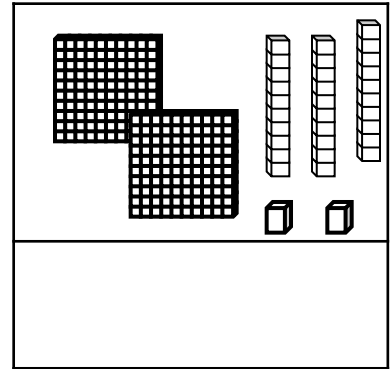
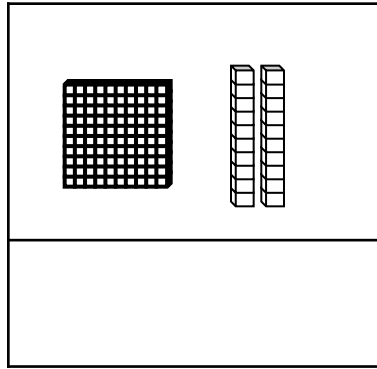
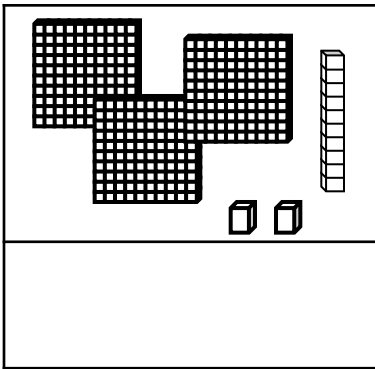
650 $600 + 80 + 8$

521 $500 + 20$

520 $500 + 2$

420 $200 + 200$


2 Compte et complète :



3 Ecris les nombres du plus grand au plus petit:

605 - 215 - 660 - 102 - 952 - 259 - 99

4 Complète :




Nombres et quantités : de 0 à 999



1 Colorie la pile qui représente le plus petit nombre:

<table border="1"> <tr><td>500</td></tr> <tr><td>50</td></tr> <tr><td>6</td></tr> </table> <table border="1"> <tr><td>400</td></tr> <tr><td>50</td></tr> <tr><td>1</td></tr> </table>	500	50	6	400	50	1	<table border="1"> <tr><td>300</td></tr> <tr><td>50</td></tr> <tr><td>6</td></tr> </table> <table border="1"> <tr><td>300</td></tr> <tr><td>60</td></tr> <tr><td>5</td></tr> </table>	300	50	6	300	60	5	<table border="1"> <tr><td>300</td></tr> <tr><td>50</td></tr> <tr><td>2</td></tr> </table> <table border="1"> <tr><td>500</td></tr> <tr><td>30</td></tr> <tr><td>1</td></tr> </table>	300	50	2	500	30	1	<table border="1"> <tr><td>600</td></tr> <tr><td>20</td></tr> <tr><td>9</td></tr> </table> <table border="1"> <tr><td>600</td></tr> <tr><td>60</td></tr> <tr><td>9</td></tr> </table>	600	20	9	600	60	9
500																											
50																											
6																											
400																											
50																											
1																											
300																											
50																											
6																											
300																											
60																											
5																											
300																											
50																											
2																											
500																											
30																											
1																											
600																											
20																											
9																											
600																											
60																											
9																											
<table border="1"> <tr><td>700</td></tr> <tr><td>60</td></tr> <tr><td>8</td></tr> </table> <table border="1"> <tr><td>700</td></tr> <tr><td>60</td></tr> <tr><td>6</td></tr> </table>	700	60	8	700	60	6	<table border="1"> <tr><td>600</td></tr> <tr><td>80</td></tr> <tr><td>4</td></tr> </table> <table border="1"> <tr><td>500</td></tr> <tr><td>80</td></tr> <tr><td>6</td></tr> </table>	600	80	4	500	80	6	<table border="1"> <tr><td>500</td></tr> <tr><td>70</td></tr> <tr><td>2</td></tr> </table> <table border="1"> <tr><td>700</td></tr> <tr><td>20</td></tr> <tr><td>1</td></tr> </table>	500	70	2	700	20	1	<table border="1"> <tr><td>600</td></tr> <tr><td>60</td></tr> <tr><td>6</td></tr> </table> <table border="1"> <tr><td>200</td></tr> <tr><td>60</td></tr> <tr><td>5</td></tr> </table>	600	60	6	200	60	5
700																											
60																											
8																											
700																											
60																											
6																											
600																											
80																											
4																											
500																											
80																											
6																											
500																											
70																											
2																											
700																											
20																											
1																											
600																											
60																											
6																											
200																											
60																											
5																											

2 Entoure les pièces et billets qu'il faut choisir pour avoir 240€ :




Pour avoir 240€, il faut :

.....	billets de 100 €
.....	billets de 10 €
.....	pièces de 1 €

3 Relie les nombres à leur place sur la droite graduée :

(459)	(472)	(481)	(479)	(487)
450	460	470	480	490

4 Complète :



Prénom : _____

Date: _____


Nombres et quantités : de 0 à 999



1 Complète les compteurs :

402	625	586	775	897	222
403	626	587	776	898	223

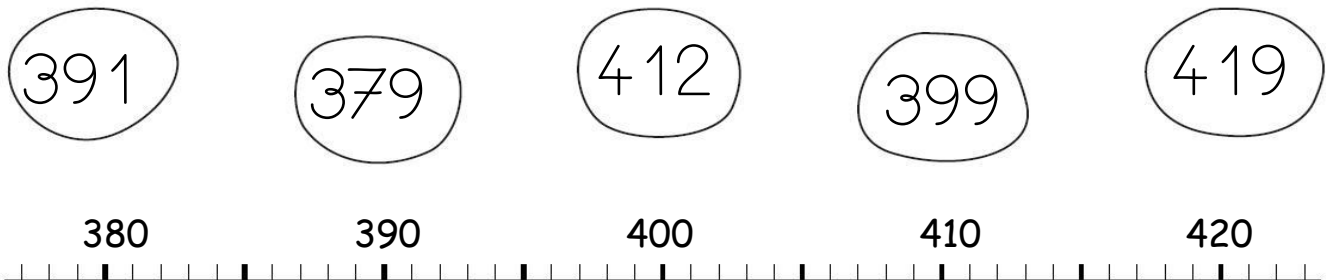
2 Entoure les pièces et billets qu'il faut choisir pour avoir 333€ :



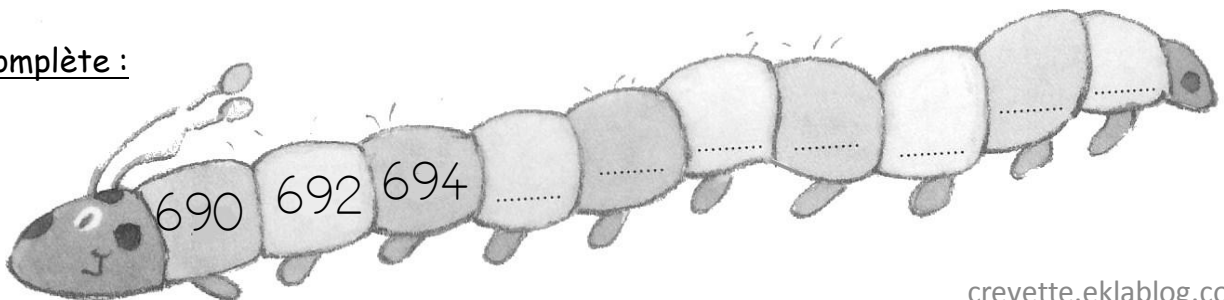
Pour avoir 333€, il faut :

.....	billets de 100 €
.....	billets de 10 €
.....	pièces de 1 €

3 Relie les nombres à leur place sur la droite graduée :



4 Complète :



Prénom : _____

Date: _____

Nombres et quantités : de 0 à 999



1 Ecris en chiffres :

deux - cent - cinquante - six :

trois - cent - dix :

cent - soixante - seize :

cinq - cent - treize :


six - cent - quatre - vingt :

six - cent - trente - neuf :

neuf - cent - quinze :

huit - cent - quatre - vingt - douze :

2 Entoure les pièces et billets qu'il faut choisir pour avoir 309€ :



Pour avoir 309€, il faut :

.....	billets de 100 €
.....	billets de 10 €
.....	pièces de 1 €

3 Ecris les nombres à leur place dans les sacs (attention il y a un piège)

730 - 525 - 890 - 580 - 830 - 915 - 680 - 630 - 775

