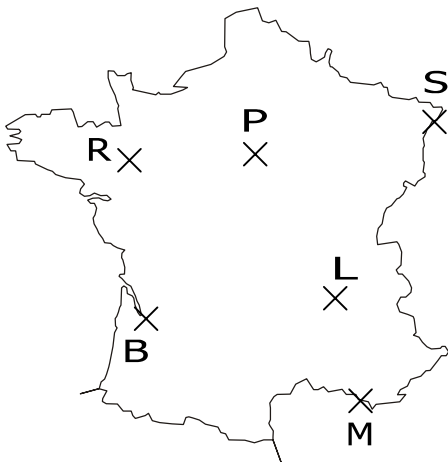


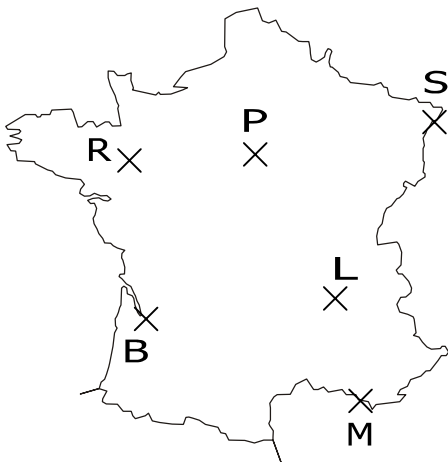
EXERCICE 1C.1

Sur cette carte de France, on a représenté les villes de Paris, Lyon, Marseille, Bordeaux, Strasbourg et Rennes par les points P, L, M, B, S et R.

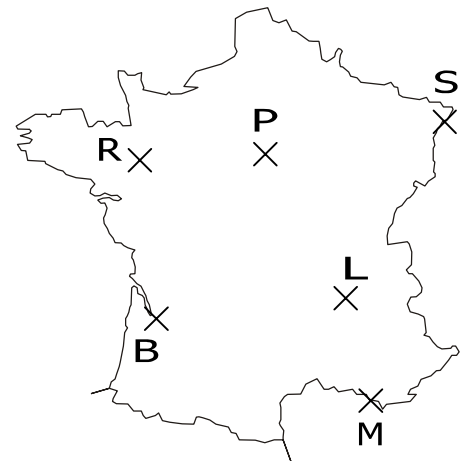
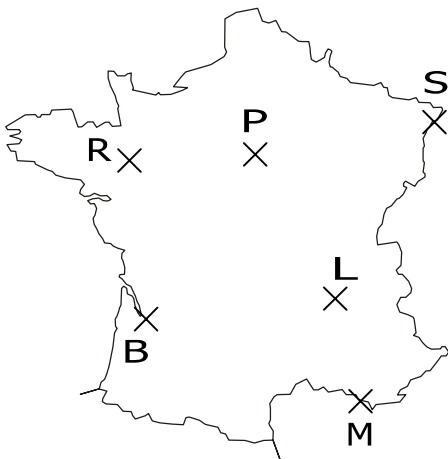
a. Colorier la région des points plus proches de Lyon que de Paris →



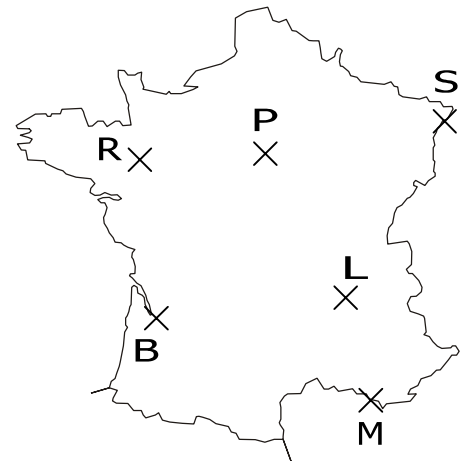
c. Colorier la région des points plus proches de Bordeaux que de Marseille et Rennes →



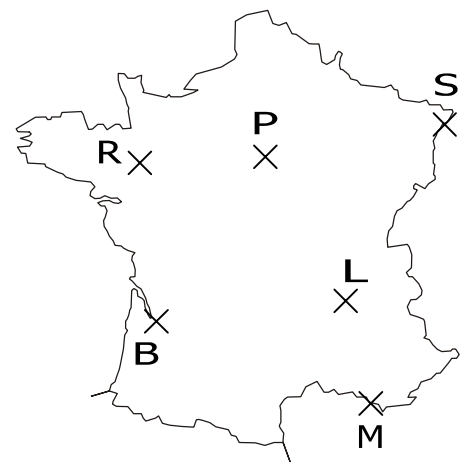
e. Colorier la région des points à l'ouest de Paris et plus proches de Strasbourg que de Bordeaux →



← **b.** Colorier la région des points plus éloignés de Bordeaux que de Strasbourg



← **d.** Colorier la région des points plus proches de Rennes que de Strasbourg mais à égale distance de Marseille et Paris



← **f.** Hachurer la région des points au sud de Paris, plus proches de Marseille que de Rennes et à égale distance de Lyon et Bordeaux.