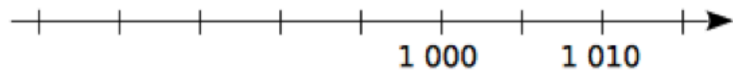
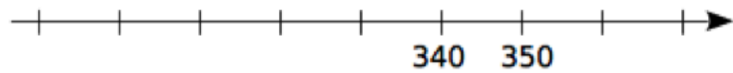
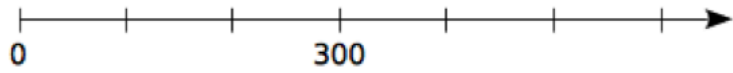
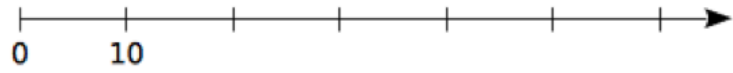
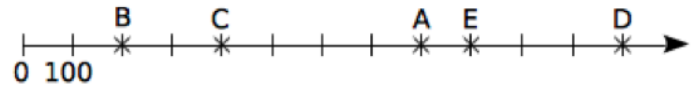


Exercices :  
Repérer des nombres entiers sur une demi droite graduée

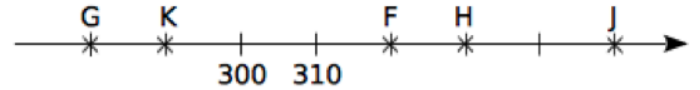
Complète ces droites graduées en écrivant sous chaque trait de graduation le nombre entier qui convient.



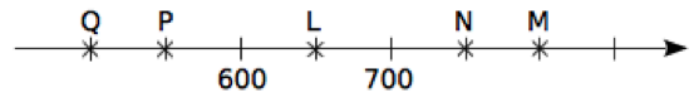
Dans chacun des cas suivants, donne l' abscisse de chaque point



A(.....) B(.....) C(.....) D(.....) E(.....)



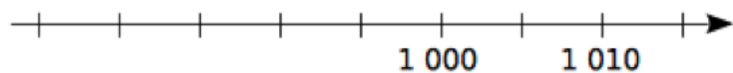
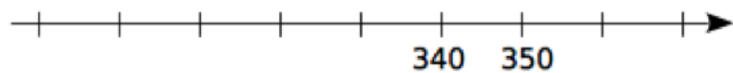
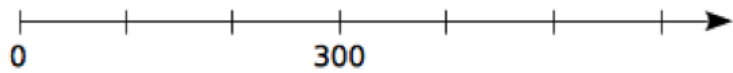
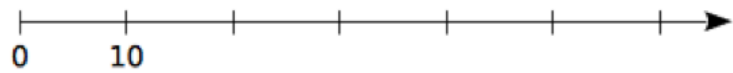
F(.....) G(.....) H(.....) J(.....) K(.....)



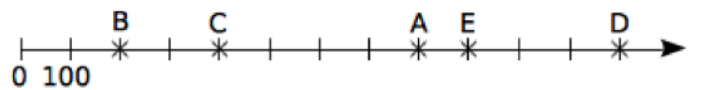
L(.....) M(.....) N(.....) P(.....) Q(.....)

Exercices :  
Repérer des nombres entiers sur une demi droite graduée

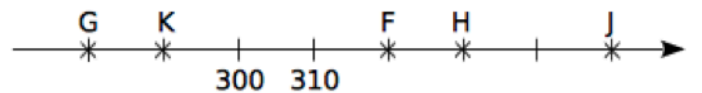
Complète ces droites graduées en écrivant sous chaque trait de graduation le nombre entier qui convient.



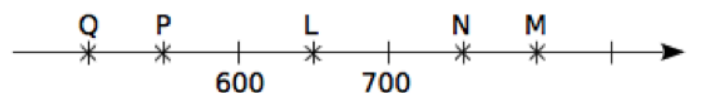
Dans chacun des cas suivants, donne l' abscisse de chaque point



A(.....) B(.....) C(.....) D(.....) E(.....)



F(.....) G(.....) H(.....) J(.....) K(.....)



L(.....) M(.....) N(.....) P(.....) Q(.....)