



2 La croissance démographique inquiète déjà au XVIII^e siècle

Pendant cette époque de paix¹, la population a quintuplé en trente ans, décuplé en soixante ans. L'habitation d'une personne est déjà trop étroite pour en loger dix, comment serait-il possible d'en loger cent ? De même, la nourriture d'une personne est déjà insuffisante pour en nourrir dix, comment serait-il possible d'en nourrir cent ?

C'est pourquoi je suis inquiet pour le peuple pendant la paix. La population est extrêmement nombreuse. La nature ne peut créer plus de ressources pour l'augmentation de cette population, ni la terre ne peut produire plus de grains.

D'après Hong Liangji, *Opinions*, 1793.

1. Quand Hong Liangji rédige son traité, la Chine voit s'achever une longue période d'expansion économique.

Qui est-il ? Hong Liangji (1746-1809) fut un conseiller des gouvernements de l'époque et un philosophe chinois.



Document 3 : Affiche de promotion de la politique de l'enfant unique (Chine, années 1990)

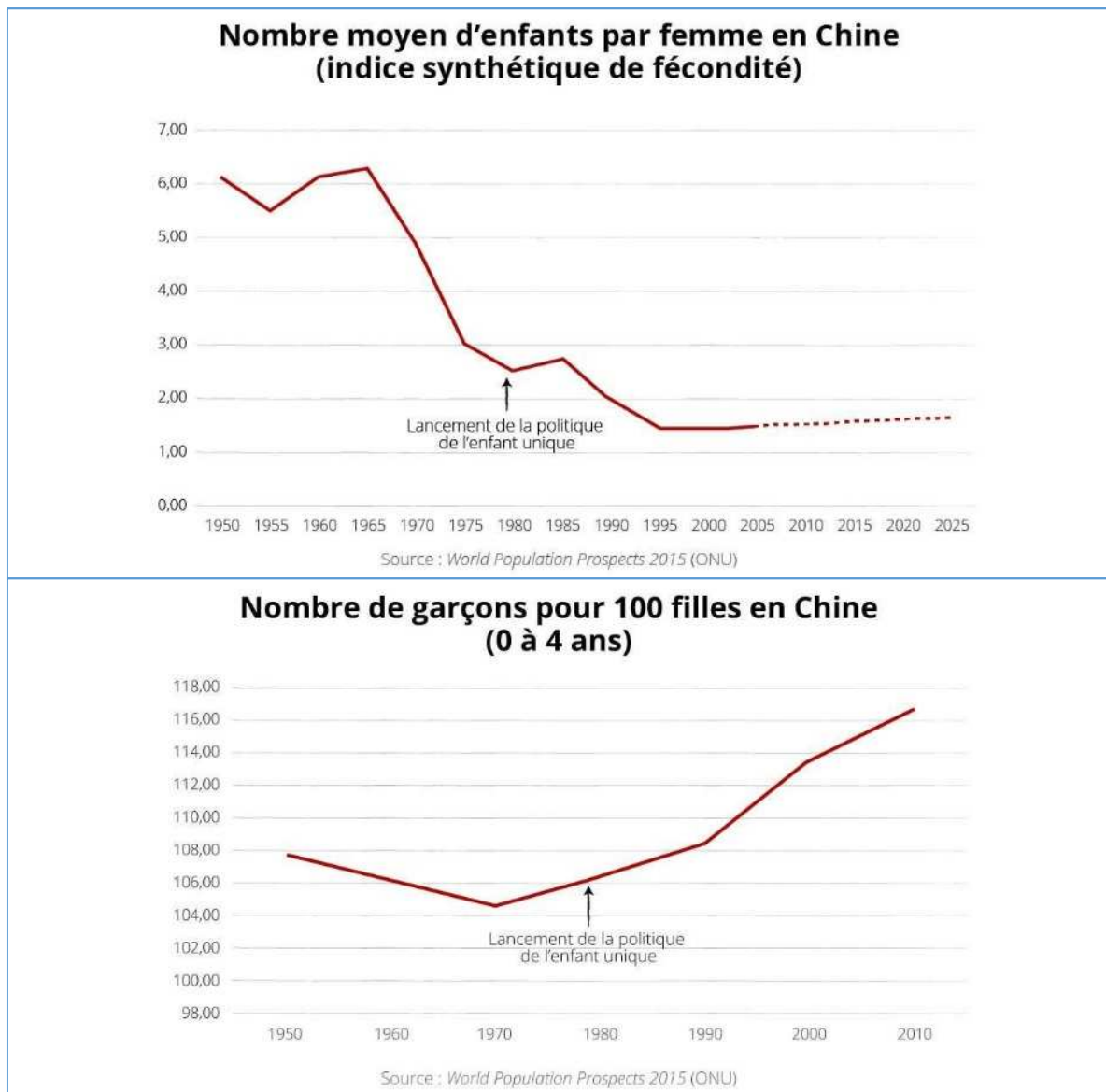
1. Depuis quand les Chinois s'inquiètent-ils de la croissance démographique de leur pays ? Pourquoi ?

2. Quelle solution le gouvernement a-t-il mise en place au XX^e siècle ?

3. Ecoute attentivement le reportage. Complète le texte suivant :

La « politique du planning familial » a été mise en place en _____ par Deng Xiaoping. Désormais, les couples sont autorisés à avoir seulement _____. Certains historiens pensent que la Chine craignait que la _____ ne mette en péril l'équilibre économique du pays. Cette politique _____ a été menée pendant de nombreuses années, de façon très _____ : les parents risquaient de fortes _____, les enfants nés hors cadre, appelés _____ ne peuvent pas aller à l'école ou avoir accès aux _____. Les conséquences de cette politique ont été dramatiques : avortements forcés, infanticides des _____, notamment dans les campagnes où elles sont jugées trop _____ et moins _____ que les garçons. Cette politique s'est _____ au fil des ans : un couple peut avoir deux enfants si les deux parents sont _____, par exemple. Cette politique a été efficace : elle aurait évité _____ de naissances en Chine. Le vieillissement de la population chinoise a toutefois incité les autorités à _____ en octobre _____.

Document 4 : La baisse de la fécondité des Chinoises entraîne un important déséquilibre entre les sexes



6 La fin de la politique de l'enfant unique¹

La Chine pense à abandonner la politique de l'enfant unique. Sur le principe, tout le monde s'accorde à dire que l'enfant unique n'est plus viable et que cela nuit à l'économie chinoise. Selon les estimations, près d'un tiers des Chinois auront plus de 60 ans en 2050. Le problème c'est que faire un enfant en Chine, ça coûte cher. Avec les standards d'excellence imposés par la politique de l'enfant unique, il faut avoir un bel appartement, lui payer une

bonne éducation, des cours particuliers, une bonne université, voire des études à l'étranger. Beaucoup de parents disent en fait ne pas avoir les moyens d'assurer ces dépenses pour un deuxième enfant.

D'après D. Sureau, *France info*, 28 juillet 2015.

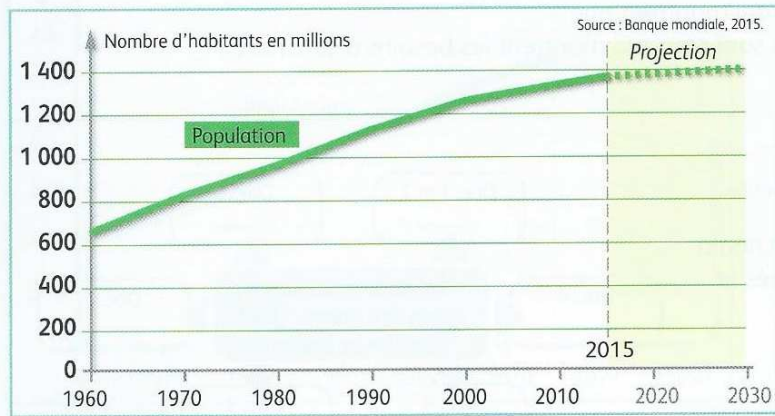
1. La politique de l'enfant unique est officiellement abandonnée en octobre 2015.



Découvrez l'intégralité du reportage sur : <http://www.franceinfo.fr/actu/monde/article/va-t-vers-la-fin-de-la-politique-de-l-enfant-unique-en-chine-710227>

4. Quelle conséquence cette politique a-t-elle eu sur la société chinoise ? Pourquoi ?

5. Cette politique est-elle toujours d'actualité ?

Document 7 : La forte croissance démographique de la Chine depuis les années 1960

1. Décris l'évolution globale de la population chinoise depuis 1960.

2. Regarde l'image projetée au tableau. Où la croissance de la population a-t-elle été la plus forte en 1982 et 2010 ? Pourquoi ?

Document 8 : Des logements construits sur des terres agricoles à Shanghai

3. D'après la photographie ci-contre et le reportage vu en classe, à quels besoins de sa population la Chine doit-elle faire face ?

4. Quels sont les problèmes posés par l'urbanisation rapide de la Chine ?

Document 9 : Le défi du vieillissement de la population chinoise

5. Quelles sont les conséquences du ralentissement de la croissance démographique ? Souligne la réponse dans le texte.

Le problème crucial¹ de la Chine est désormais d'enrayer l'inexorable² vieillissement de sa population, après trois décennies de contrôle des naissances. Pour la troisième année consécutive, la population en âge de travailler a chuté : moins 3,7 millions en 2014.

Un déficit de main-d'œuvre se profile d'ores et déjà dans certains secteurs. Les Chinois de plus de 60 ans devraient représenter 30 % de la population totale en 2050, contre 10 % en l'an 2000, selon l'ONU. La population vieillissante laisse présager dans l'avenir de grosses difficultés économiques et sociales. Dans les décennies à venir, le financement des retraites et le poids grandissant des dépenses de santé pèseront de plus en plus lourd sur le budget de l'État.

D'après P. Saint-Paul, « La Chine dans le piège démographique », *Le Figaro*, 3 mars 2015.

1. Crucial : très important. 2. Inexorable : qui ne peut pas être arrêté.

Li Xue est née en 1993 au moment de la politique de l'enfant unique. Sa mère a été licenciée parce qu'enceinte de Chué, son second enfant. Comme elle n'a pas payé l'amende de 560 €, une fortune pour le couple qui gagne 100 € par mois, une autre sanction tombe : pas de carte d'identité pour leur deuxième enfant. Sans existence légale, Chué n'a jamais été scolarisée, elle ne peut même pas se faire soigner.

D'après un témoignage recueilli par l'AFP en 2011.

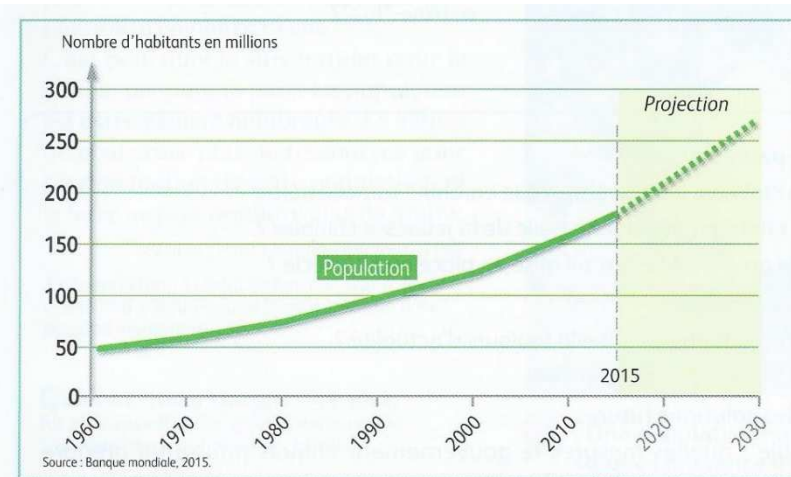
Tu as fini avant les autres ?

Rédige la lettre que Chué pourrait écrire au gouvernement chinois en octobre 2015, lorsqu'elle apprend que le pays a renoncé à la politique de l'enfant unique.

Tu peux commencer ta lettre en rappelant les difficultés que l'application de cette politique a entraîné pour elle et sa famille, puis en indiquant comment la fin de la « politique du planning familial » va transformer la vie de Chué.



1 | Un embouteillage dans les rues de Lagos



2 | L'explosion démographique du Nigeria



3 | Un bidonville à Lagos
Lagos, 25 millions d'habitants, est l'agglomération la plus peuplée et la capitale économique du Nigeria.

3. D'après le doc. 4 et la vidéo vue en cours, que devrait faire le Nigeria pour éviter que la croissance démographique ne soit un frein au développement ?

5 | Des difficultés à répondre au besoin alimentaire

Un témoin raconte

Le Nigeria est le premier producteur mondial de manioc. Mais sa production ne suffit pas à couvrir les besoins des Nigériens.

Je cultive le manioc sur 2 hectares et sur le reste, je plante d'autres variétés de légumes. Je pourrais produire largement plus si je disposais de moyens techniques modernes. Si j'en avais les moyens, je m'équiperai mieux. J'achèterais un tracteur et le travail serait plus facile pour moi. Et puis ce qui me manque, ce sont des fertilisants. Des engrais me permettraient d'avoir une meilleure récolte.

D'après le témoignage d'Adé, un paysan nigérian, recueilli par Radio France internationale en 2015.

1. Comment la population nigérienne a-t-elle évolué depuis 1960 ? Justifie ta réponse en utilisant des données chiffrées du graphique (doc. 2)

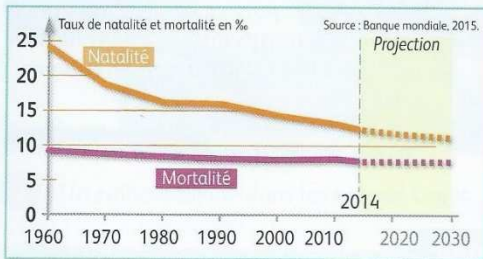
2. A quelles difficultés la population du Nigeria est-elle confrontée ?

4 | La croissance démographique, un frein au développement ?

Un atout pour sortir du sous-développement ou une bombe à retardement ? La question est régulièrement posée au Nigeria où 70 % de la population vit avec moins d'un dollar par jour. Selon une récente étude de l'ONU, au moins 50 millions de jeunes sont actuellement sous-employés ou sans travail. Et les observateurs estiment qu'à long terme, il y a un risque qu'ils s'orientent vers le banditisme ou l'extrémisme religieux, notamment dans le nord du pays. Cependant, les indicateurs économiques sont favorables. Encore faut-il que les autorités investissent dans la formation pour faire des 250 millions de Nigériens à naître les travailleurs et les consommateurs de demain.

D'après www.rfi.fr, « En 2050, le Nigeria sera le troisième pays le plus peuplé au monde », 20 septembre 2015.

A. L'exemple des États-Unis : une population en croissance



1 | L'évolution de la population aux États-Unis



3 | Des immigrants obtiennent la citoyenneté américaine

2 | L'apport démographique de l'immigration aux États-Unis

L'**immigration** représente aujourd'hui 40 % de la croissance démographique américaine¹. Pour le dire autrement, sur 100 nouveaux habitants aux États-Unis, 60 naissent sur le territoire et 40 sont des immigrants. Ce sont les Hispaniques qui connaissent la croissance la plus rapide : leur nombre devrait tripler d'ici 2050. Un autre grand groupe est la communauté des Asiatiques. Il s'agit là de personnes immigrées souvent hautement qualifiées ou diplômées, et ce à la différence des Hispaniques. La main d'œuvre immigrée occupe une place de plus en plus grande dans le fonctionnement de l'économie américaine.

D'après *Le dessous des cartes*, « États-Unis : la fin des WASP ? », www.ddc.arte.tv, septembre 2015.

1. Depuis 20 ans, le **solde migratoire** est d'environ 1 million de personnes chaque année.

1. Comment peut-on qualifier la démographie des États-Unis ?

2. Quelles sont les causes de cette situation ?

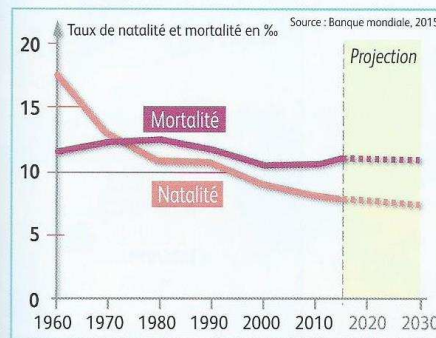
3. Quelles sont les conséquences de cette situation ?

4. Comment peut-on qualifier la démographie de l'Allemagne ?

5. Quelles sont les causes de cette situation ?

6. Quelles sont les conséquences de cette situation ?

B. L'exemple de l'Allemagne : une population qui stagne



4 | L'évolution de la population en Europe : l'exemple de l'Allemagne



6 | Des migrants en Allemagne en 2015

5 | Un défi démographique majeur

Le vieillissement accéléré de la population allemande est directement lié à sa faible natalité. Ainsi, l'Allemagne est dans le trio de tête mondial des pays avec la plus petite proportion de jeunes. L'**indice de fécondité** est très faible, 1,36 enfants par femme en moyenne, quand un indice de 2,1 est nécessaire pour assurer le maintien de la population.

Les conséquences pour l'Allemagne seront majeures. Le principal problème porte sur le poids des dépenses publiques de retraite et de santé qui va mécaniquement augmenter. [...] La démographie déclinante et la nécessité de trouver de la main d'œuvre pour l'industrie sont à l'origine de l'afflux de populations étrangères provenant d'Europe du Sud.

D'après Sylvain Fontan, « Le défi démographique de l'Allemagne », www.leconomiste.eu, 9 juillet 2015.

Vocabulaire

Immigration : fait de s'installer dans un pays autre que le sien. Le contraire est l'émigration.

Indice de fécondité : nombre moyen d'enfants par femme en âge d'en avoir.

Solde migratoire : différence entre les arrivées (immigration) et les départs (émigration) dans un pays.